



# RITUEL MATHS

## Encadrer à l'unité

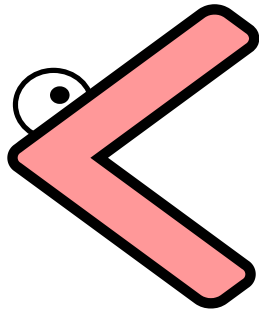


$$35 < 36 < 37$$




**Encadre avec le nombre précédent et le nombre suivant.**


.....



69



.....



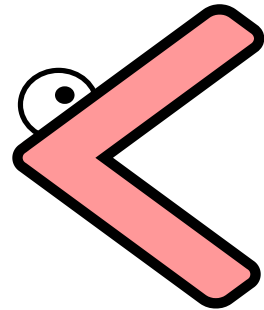
# Réponse

68 < 69 < 70




Encadre avec le nombre précédent et le nombre suivant.


.....



19



.....



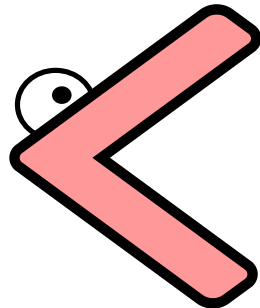
# Réponse

18 < 19 < 20




**Encadre avec le nombre précédent et le nombre suivant.**

.....



99



.....



# Réponse


98 < 99 < 100



Encadre avec le nombre précédent et le nombre suivant.


..... < 108 < .....






# Réponse

107 < 108 < 109




Encadre avec le nombre précédent et le nombre suivant.

..... < 125 < .....




# Réponse

124 < 125 < 126



Encadre avec le nombre précédent et le nombre suivant.

..... < 2 4 6 < .....




# Réponse

245 < 246 < 247



**Encadre avec le nombre précédent et le nombre suivant.**

..... < 306 < .....

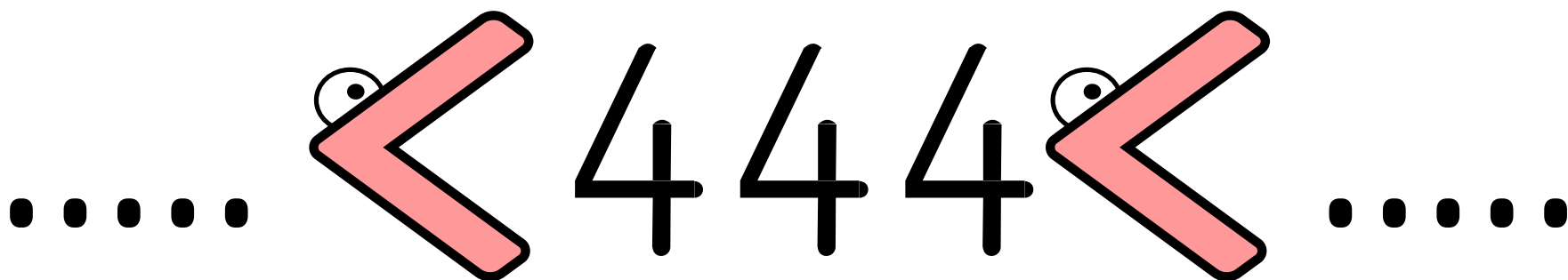


# Réponse

305 < 306 < 307



Encadre avec le nombre précédent et le nombre suivant.









# Réponse

443 < 444 < 445




Encadre avec le nombre précédent et le nombre suivant.

..... < 217 < .....




# Réponse

216 < 217 < 218




**Encadre avec le nombre précédent et le nombre suivant.**

..... < 199 < .....




# Réponse

198 < 199 < 200




Encadre avec le nombre précédent et le nombre suivant.

..... < 2 3 4 < .....



# Réponse


233 < 234 < 235



Encadre avec le nombre précédent et le nombre suivant.

..... < 504 < .....





# Réponse

503 < 504 < 505