



RITUEL MATHS

Encadrer à la dizaine

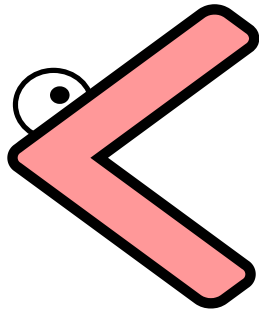


$$30 < 36 < 40$$




Encadre le nombre suivant par la dizaine qui est juste avant et la dizaine qui est juste après.

.....



67




.....



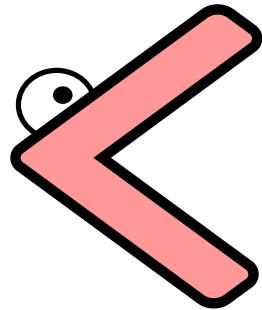
Réponse

60 < 67 < 70




Encadre le nombre suivant par la dizaine qui est juste avant et la dizaine qui est juste après.


.....



19




.....



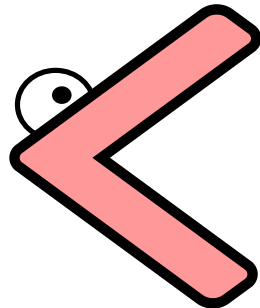
Réponse

10 < 19 < 20




Encadre le nombre suivant par la dizaine qui est juste avant et la dizaine qui est juste après.


.....



98




.....



Réponse

90 < 98 < 100




Encadre le nombre suivant par la dizaine qui est juste avant et la dizaine qui est juste après.

.....  108 

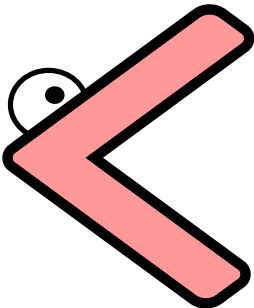
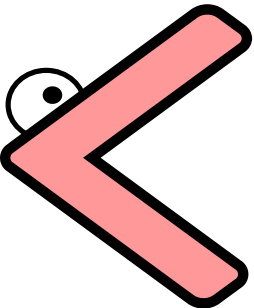



Réponse

100 < 108 < 110



Encadre le nombre suivant par la dizaine qui est juste avant et la dizaine qui est juste après.

.....  125 




Réponse

120 < 125 < 130



Encadre le nombre suivant par la dizaine qui est juste avant et la dizaine qui est juste après.

..... < 2 4 6 <



Réponse

240 < 246 < 250




Encadre le nombre suivant par la dizaine qui est juste avant et la dizaine qui est juste après.

..... < 306 <

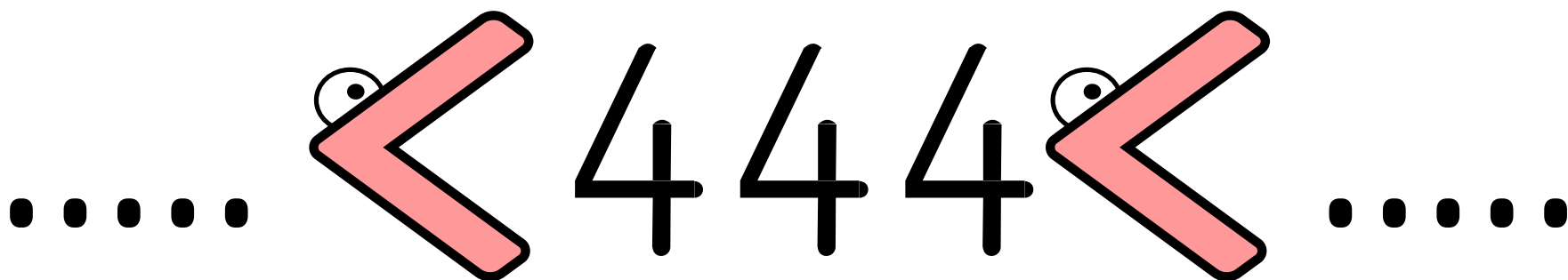


Réponse

300 < 306 < 310




Encadre le nombre suivant par la dizaine qui est juste avant et la dizaine qui est juste après.






Réponse

440 < 444 < 450



Encadre le nombre suivant par la dizaine qui est juste avant et la dizaine qui est juste après.

..... < 217 <




Réponse

210 < 217 < 220



Encadre le nombre suivant par la dizaine qui est juste avant et la dizaine qui est juste après.

..... < 199 <



Réponse

190 < 199 < 200




Encadre le nombre suivant par la dizaine qui est juste avant et la dizaine qui est juste après.

..... < 234 <



Réponse

230 < 234 < 240



Encadre le nombre suivant par la dizaine qui est juste avant et la dizaine qui est juste après.

..... < 50 4 <



Réponse

500 < 504 < 510