

Les outils de mesure du temps

1 Écris le nom de ces outils de mesure du temps :

un chronomètre

un minuteur

une pendule

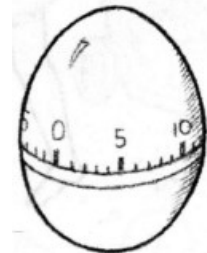


une montre

un réveil

un sablier

un cadran solaire


une horloge



1

2

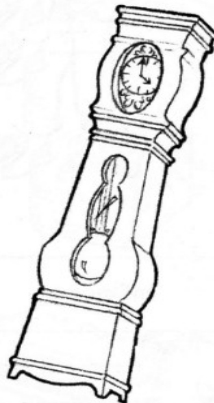
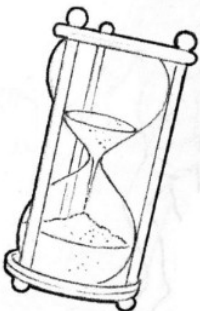
3



4

5

6



7

8

2 Colorie la case numérotée en rouge si c'est un outil de mesure de durée ou en bleu si c'est un outil qui indique l'heure.