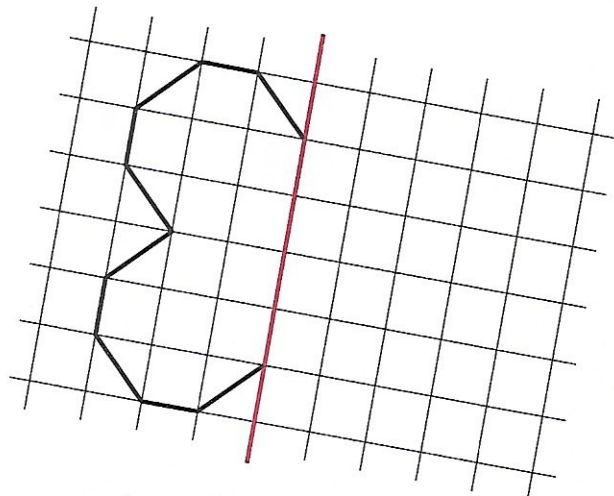
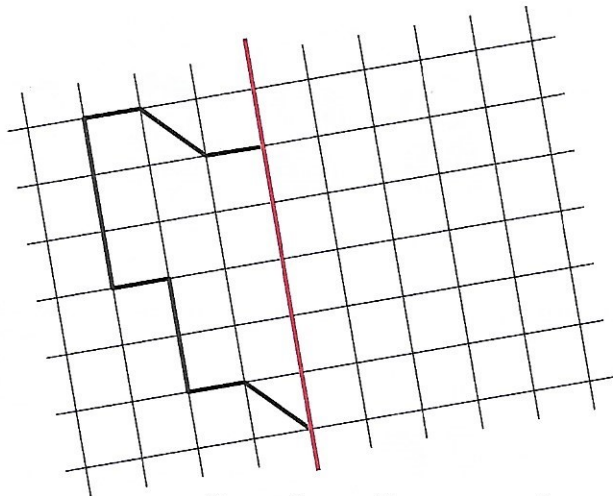


76 Les axes de symétrie d'une figure

Je découvre

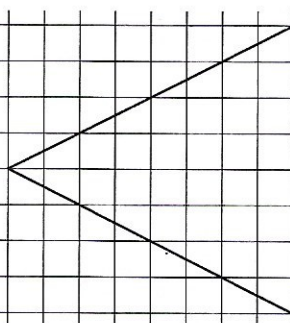
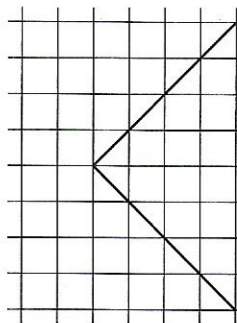
2 Complète les figures pour que le trait rouge soit un axe de symétrie.



L'une de ces figures a-t-elle un autre axe de symétrie ?

Trace le ou les axes de symétrie que tu as trouvés et **vérifie** avec les calques.

4 **Termine** les tracés pour qu'il y ait un losange et un carré.
Trace en rouge les axes de symétrie et **complète**.



Le carré a axes de symétrie.

Le losange a axes de symétrie.