


Je deviens performant


C Dessine les aiguilles.




Il est 7 h 14 min.



Il est 7 h 29 min.



Il est 7 h 44 min.



Il est 7 h 57 min.

75 Heure et durée (1) : ajouter une durée à une heure donnée

Je découvre

- 1 Au handball, il y a deux mi-temps de 30 min chacune. Entre ces deux mi-temps, il y a une pause qui dure 10 min. L'arbitre vient de siffler le début d'un match.



À quelle heure devra-t-il siffler la fin de la première mi-temps ?
...le début de la deuxième mi-temps ? ...la fin du match ?

Réponds et dessine les aiguilles (c'est le début de la soirée).

**Début
de la 1^{re} mi-temps**

**30 min plus tard...
Fin de la 1^{re} mi-temps**


**10 min plus tard...
Début
de la 2^e mi-temps**

**30 min plus tard...
Fin du match**

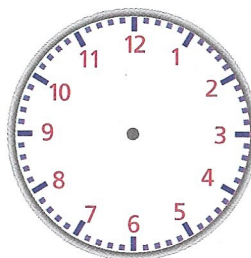
Il est h min.




Il sera h min.



Il sera h min.

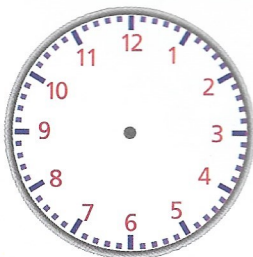


Il sera h min.




2 Réponds et dessine les aiguilles (c'est le matin).


Il est 7 h 15 min.



Dans 41 min,
il sera h min.



Il est 10 h 58 min.



Dans 33 min,
il sera h min.

