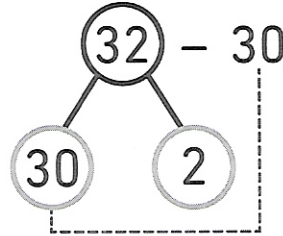
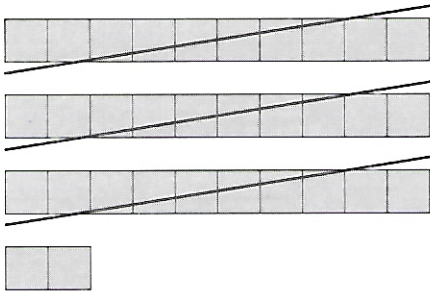


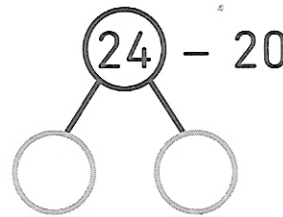
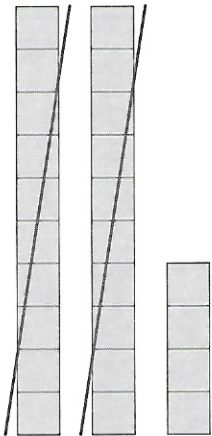
6bis

2  Soustrais et complète.

a) $32 - 30 = \square$



b) $24 - 20 = \square$



c) $69 - 60 = \square$

d) $51 - 40 = \square$

3  Un pâtissier a 66 œufs.

Il en utilise 2 dizaines pour faire des gâteaux.

Combien lui en reste-t-il ?

Il reste œufs au pâtissier.