


Séance **42**

EXPLORONS

4 Tes

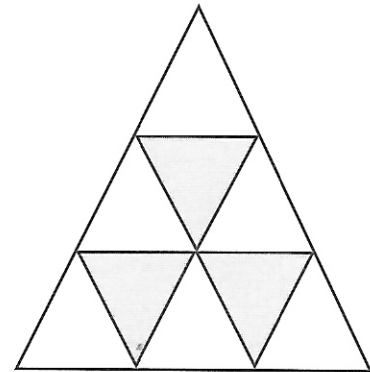
1  Complète avec le nombre de figures que tu trouves.

a) Carrés



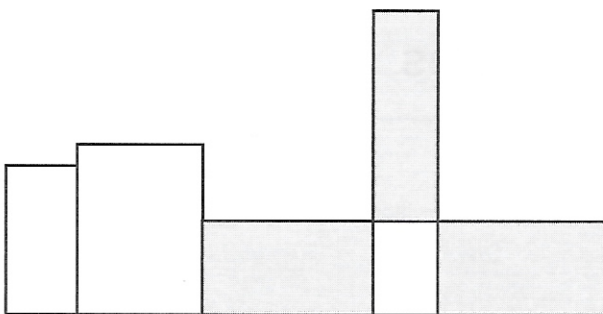
J'ai trouvé  carrés.

b) Triangles




J'ai trouvé  triangles.

c) Rectangles



J'ai trouvé  rectangles.

d) Cercles



J'ai trouvé  cercles.