
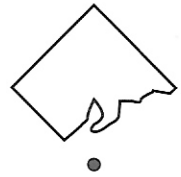


3 *1 bis*  Voici des figures déchirées.

Relie-les à leur nom et à leur forme de départ.

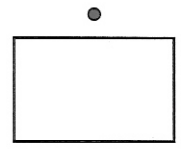
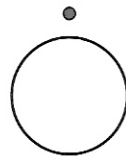
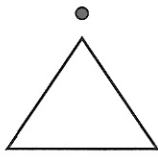





triangle

carré


rectangle


cercle



4 a)  Utilise ta  pour relier :

A et B ; B et C ; C et D ; D et A .



b)  Coche la bonne réponse.

Le  est dans : un carré un rectangle.

Le  est dans : un rectangle un triangle.