



## Les espaces français

Sur une carte de France, si l'on trace une ligne de Bayonne à Strasbourg, on trouve, à l'ouest de cette ligne, des plaines :

le Bassin Aquitain et le Bassin Parisien et des plateaux peu élevés : le Massif armoricain.

Au Sud et à l'Est, on observe des montagnes :

\* les montagnes jeunes avec des sommets hauts et pointus : le Jura, les Alpes et les Pyrénées.

\* des montagnes anciennes moins hautes et arrondies, usées par l'érosion : les Vosges ou le Massif Central (des volcans éteints)

Les Alpes sont très élevées mais franchissables par des cols. La plus haute montagne de France est le Mont Blanc qui culmine à 4809 m.

Les Pyrénées sont plus difficiles à traverser. Le pic d'Aneto s'élève à 3 404 m.

❶ Que trouve-t-on à l'Ouest de la ligne imaginaire Bayonne-Strasbourg ?

\_\_\_\_\_

\_\_\_\_\_

❷ Qu'y a-t-il de l'autre côté de cette ligne ?

\_\_\_\_\_

\_\_\_\_\_

❸ Quel est le plus haut sommet de France ?

\_\_\_\_\_

❹ Cite les 5 principaux massifs de France

1) \_\_\_\_\_

2) \_\_\_\_\_

3) \_\_\_\_\_

4) \_\_\_\_\_

5) \_\_\_\_\_

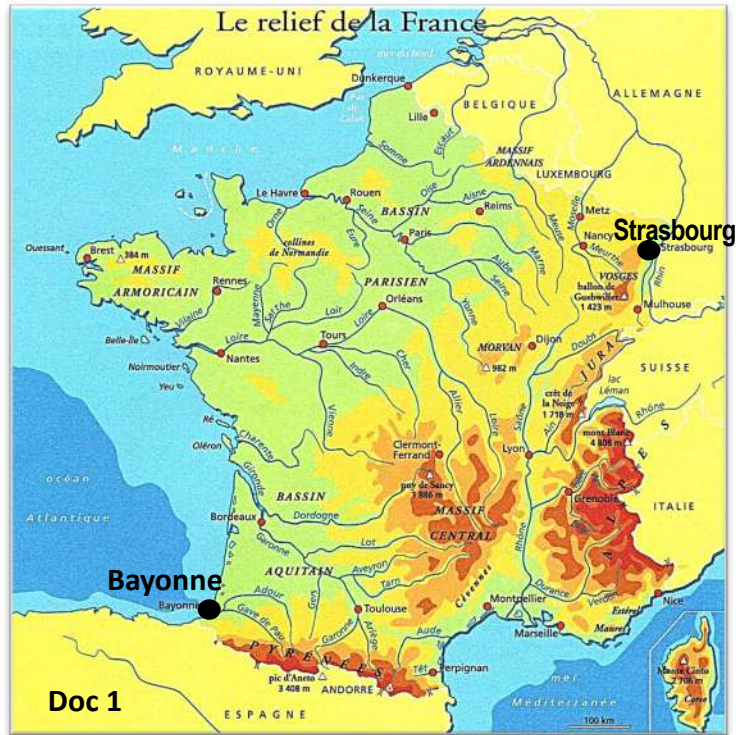
❺ Décris chacun des paysages en quelques lignes.

Paysage de Normandie : \_\_\_\_\_

\_\_\_\_\_

Massif des Alpes : \_\_\_\_\_

\_\_\_\_\_



Doc 1



Paysage de Normandie (Bassin parisien) :

Doc 2

Paysage du Bessin (Calvados)



Massif des Alpes (le mont Blanc) :

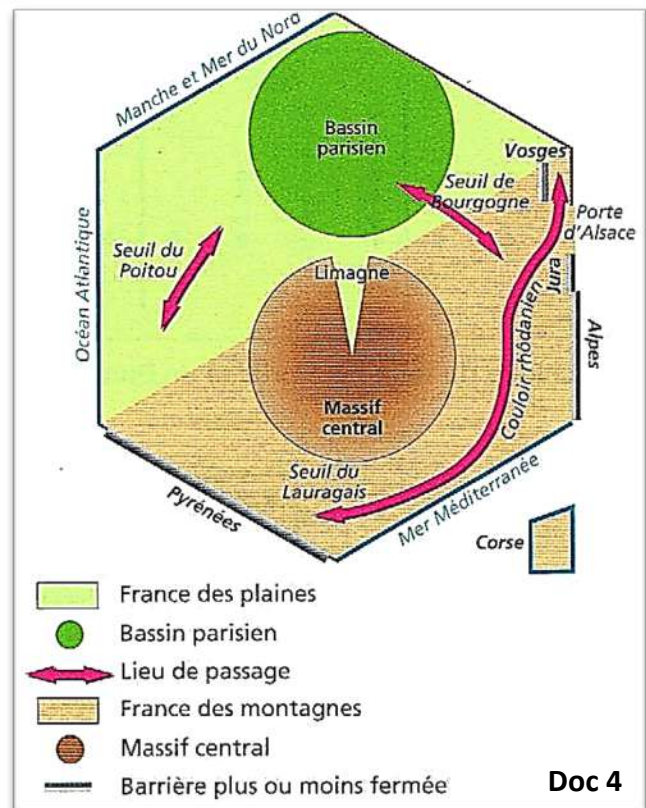
Doc 3



## Les espaces français

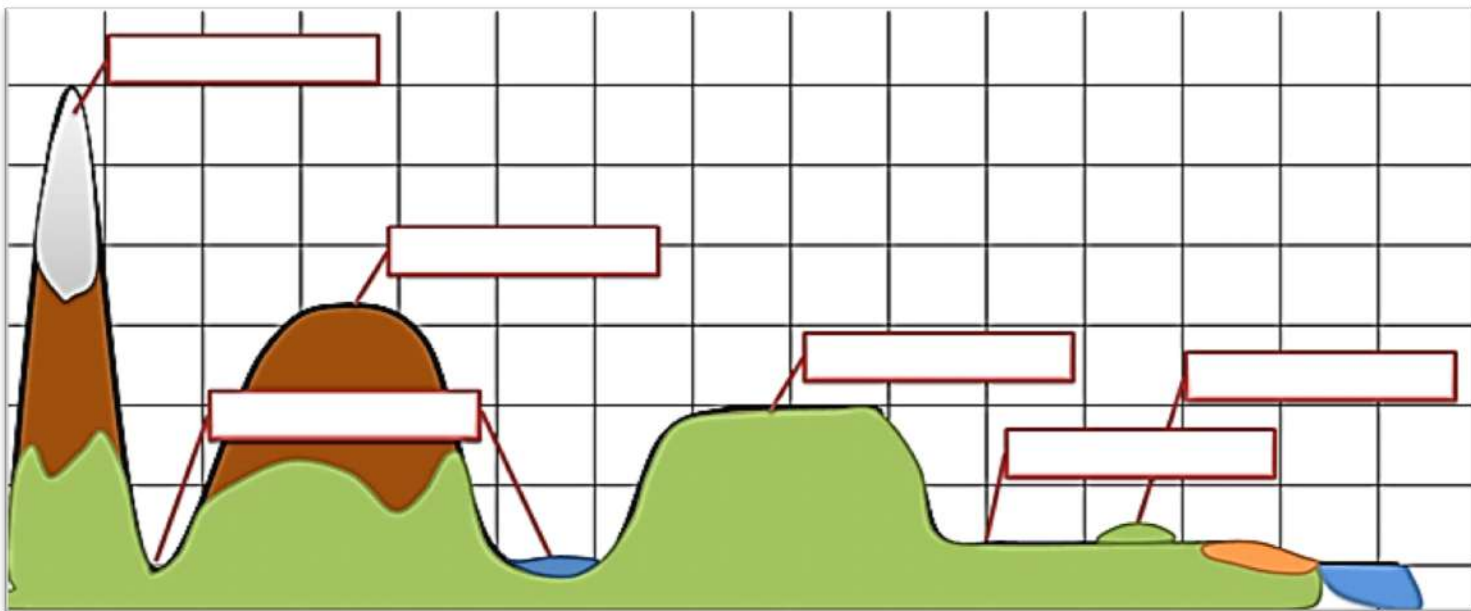
### Plaines, seuils, collines et plateaux

- \* Les plaines, ne sont jamais parfaitement planes. Elles occupent surtout le Nord et le l'Ouest de la France.
- \* Les seuils sont des sortes de couloirs, formé de basses terres, qui permet le passage entre 2 régions d'altitude plus élevée.
- \* Une colline est un relief généralement modéré et relativement peu étendu qui s'élève au-dessus d'une plaine ou d'un plateau et se distingue dans le paysage. Les collines peuvent être isolées ou se regrouper en champs de collines.
- \* Les plateaux sont des surfaces planes mais situées en altitude. Certains sont à peine plus hauts que des colline, d'autres aussi hauts que des montagnes.



### ⑥ Complète ce schéma avec les mots :

plateaux, plaines, vallée, colline, montagne  
jeune, montagne ancienne



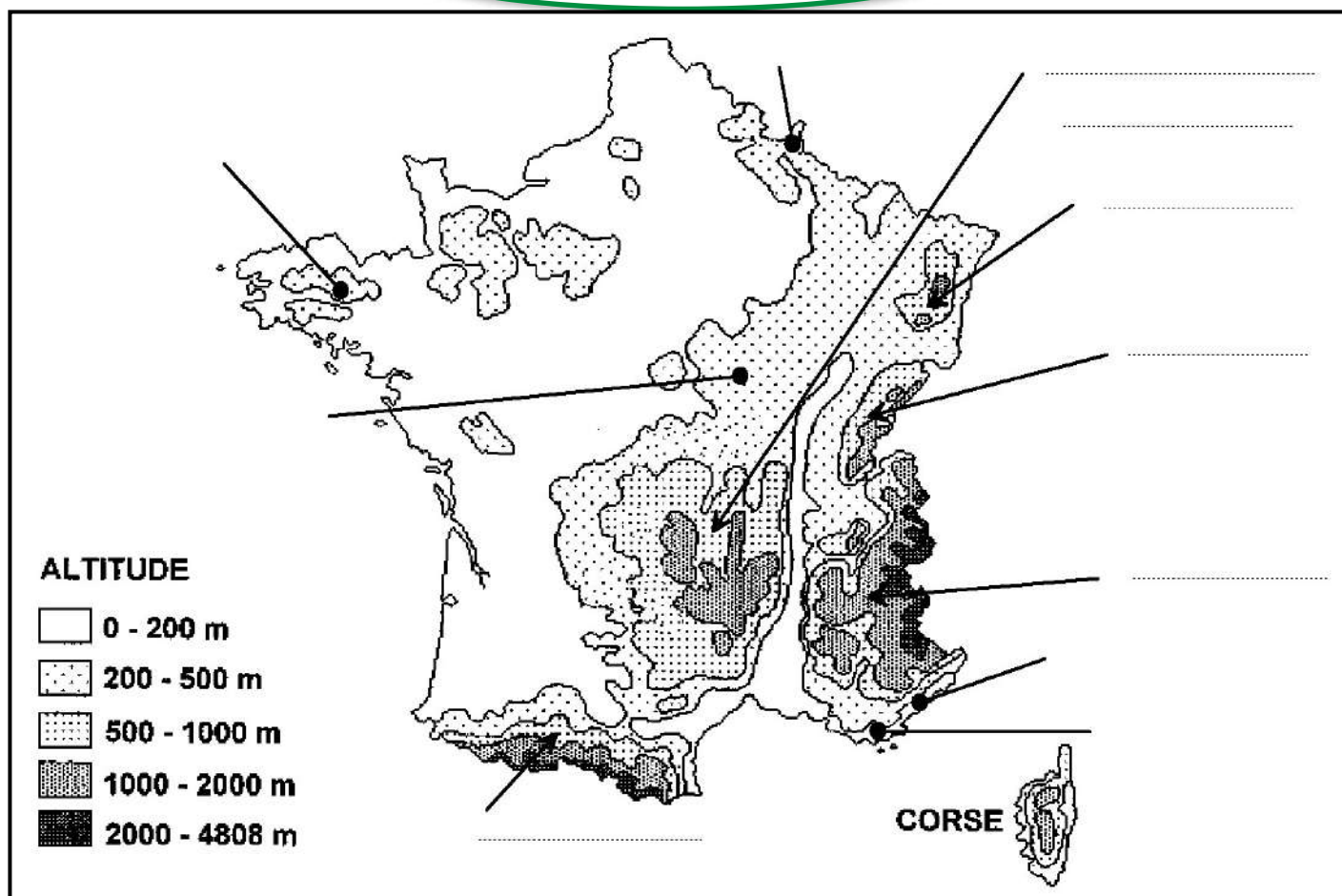
### ⑦ Indique si ces reliefs se situent dans la France des plaines ou dans la France des montagnes (doc 4)

- 1) Seuil du Poitou : \_\_\_\_\_
- 2) Seuil du Lauragais : \_\_\_\_\_
- 3) Seuil de Bourgogne : \_\_\_\_\_
- 4) Couloir rhodanien : \_\_\_\_\_





## Les espaces français



Complète la carte et réponds aux questions à l'aide des documents au recto et/ou d'un dictionnaire :

❶ Colorie la carte et la légende :

- de 1 000m à 2 000m en marron foncé
- de 500m à 1 000m en marron clair
- de 200m à 500m en jaune
- de 0 à 200m en vert

❷ Place les montagnes françaises sur les pointillés de la carte :

le Jura - les Alpes - Les Pyrénées - les Vosges - le Massif Central

❸ Coupe la France en deux pour séparer la France des montagnes et la France des plaines puis relie les bonnes réponses :

- |                                      |   |                     |
|--------------------------------------|---|---------------------|
| La France des montagnes se trouve... | • | • ... au nord-ouest |
| La France des plaines se trouve...   | • | • ... au sud-est    |

❹ Dans les montagnes françaises, quelles sont :

- Les montagnes jeunes : \_\_\_\_\_
- Les montagnes anciennes : \_\_\_\_\_



## Correction des exercices

❶ Que trouve-t-on à l'Ouest de la ligne imaginaire Bayonne-Strasbourg ?

On trouve des plaines et des plateaux peu élevés.

❷ Qu'y a-t-il de l'autre côté de cette ligne ?

De l'autre côté on trouve des montagnes jeunes (hautes et pointues) et des montagnes anciennes (moins hautes et arrondies) usées par l'érosion.

❸ Quel est le plus haut sommet de France ?

C'est le Mont Blanc

❹ Cite les 5 principaux massifs de France

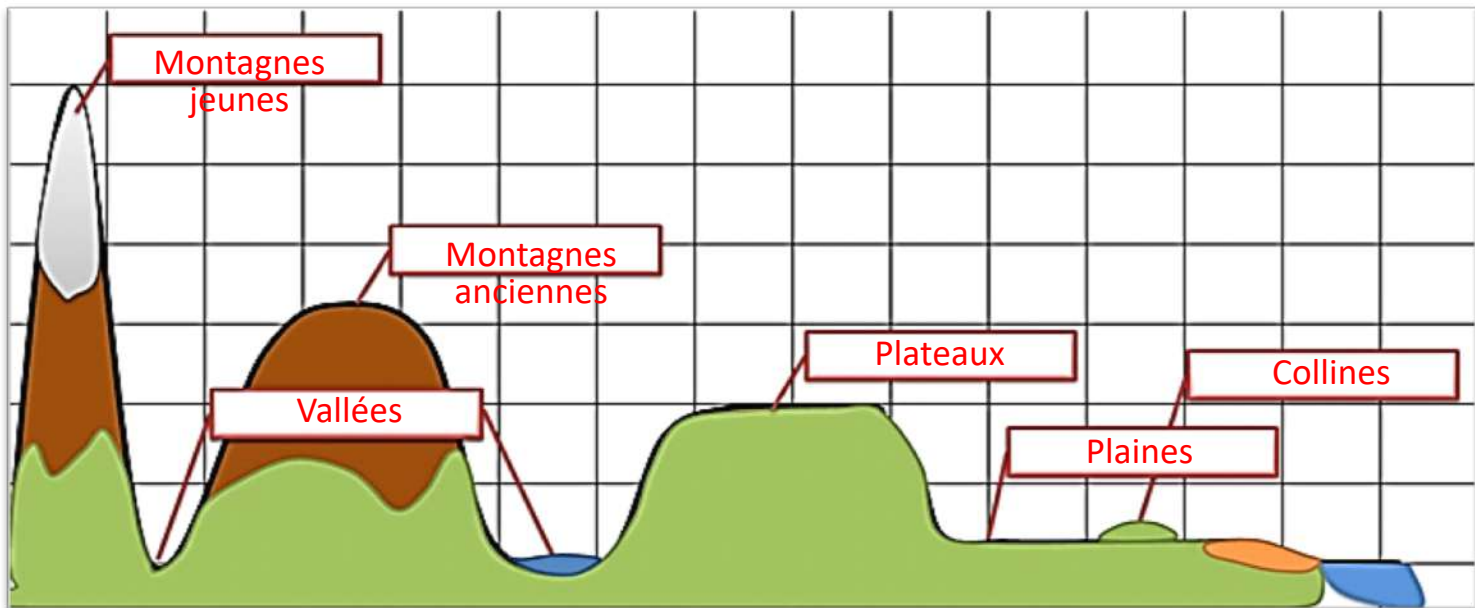
- 1) Les Pyrénées
- 2) Les Alpes
- 3) Le Massif Central
- 4) Les Vosges
- 5) Le Jura

❺ Décris chacun des paysages en quelques lignes.

Paysage de Normandie : On voit des plaines vertes

Massif des Alpes : on voit des montagnes hautes pointues

❻ Complète ce schéma avec les mots : plateaux, plaines, vallée, colline, montagne jeune, montagne ancienne



❼ Indique si ces reliefs se situent dans la France des plaines ou dans la France des montagnes (doc 4)

- 1) Seuil du Poitou : France des plaines
- 2) Seuil du Lauragais : France des montagnes
- 3) Seuil de Bourgogne : A cheval sur les deux
- 4) Couloir rhodanien : France des montagnes



## Les espaces français

## Leçon

Sur une carte de France, si l'on trace une ligne de \_\_\_\_\_ à \_\_\_\_\_, on trouve, à l'ouest de cette ligne, des \_\_\_\_\_ (le Bassin Aquitain et le Bassin Parisien) et des \_\_\_\_\_ peu élevés : le Massif armoricain.

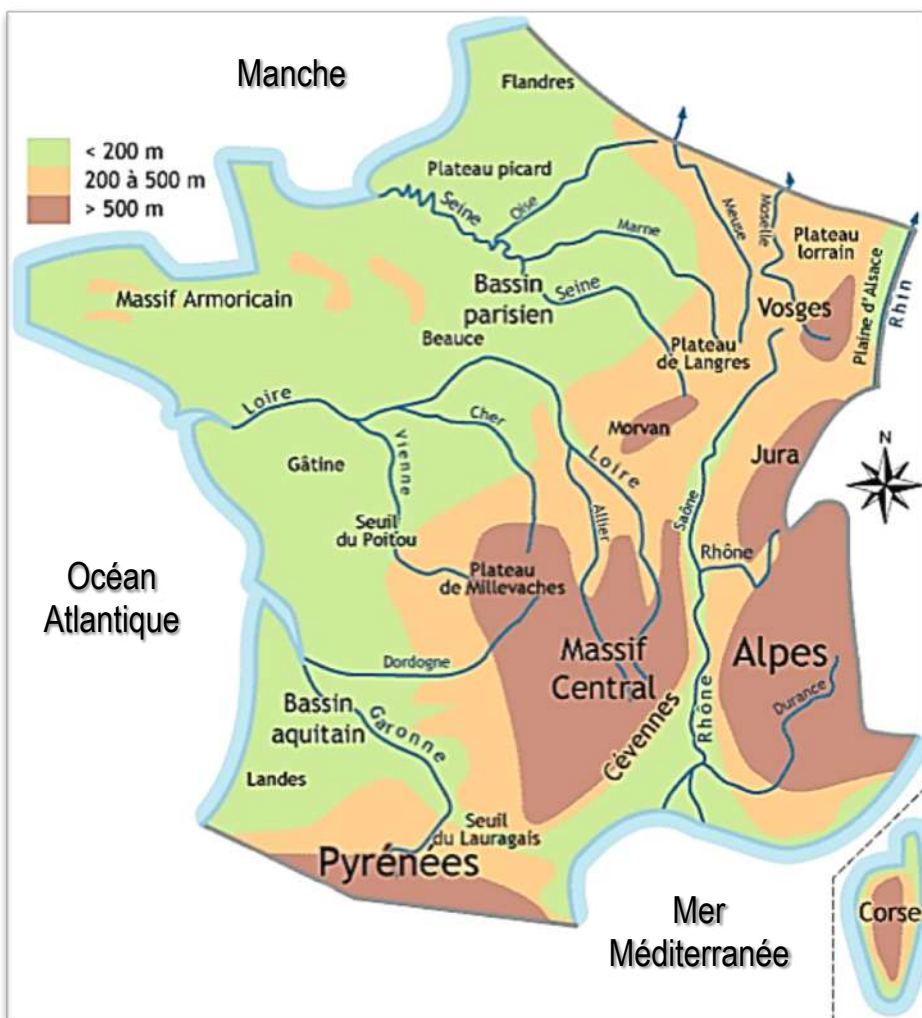
Au Sud et à l'Est, on observe des \_\_\_\_\_ :

\* les montagnes \_\_\_\_\_ avec des sommets \_\_\_\_\_ et \_\_\_\_\_ : le Jura (en forme de croissant), les Alpes et les Pyrénées.

\* des montagnes \_\_\_\_\_ moins \_\_\_\_\_ et \_\_\_\_\_, usées par l' \_\_\_\_\_ : les Vosges ou le Massif Central (des volcans éteints).

Les Alpes sont très élevées mais franchissables par des cols. La plus haute montagne de France est le \_\_\_\_\_ qui culmine à \_\_\_\_\_ m.

Les Pyrénées sont plus difficiles à traverser. Le pic d' \_\_\_\_\_ s'élève à 3 404 m.



## Ce que je dois savoir faire

Situer sur une carte de France :

\* les 5 montagnes principales : Le massif central, les Alpes, le Jura, les Vosges, les Pyrénées

\* les 3 plaines-plateau : bassin Parisien, bassin Aquitain et massif Armoricain



Massif central : des volcans éteints





## Les espaces français

## Leçon

Sur une carte de France, si l'on trace une ligne de Bayonne à Strasbourg, on trouve, à l'ouest de cette ligne, des plaines :

le Bassin Aquitain et le Bassin Parisien et des plateaux peu élevés : le Massif armoricain.

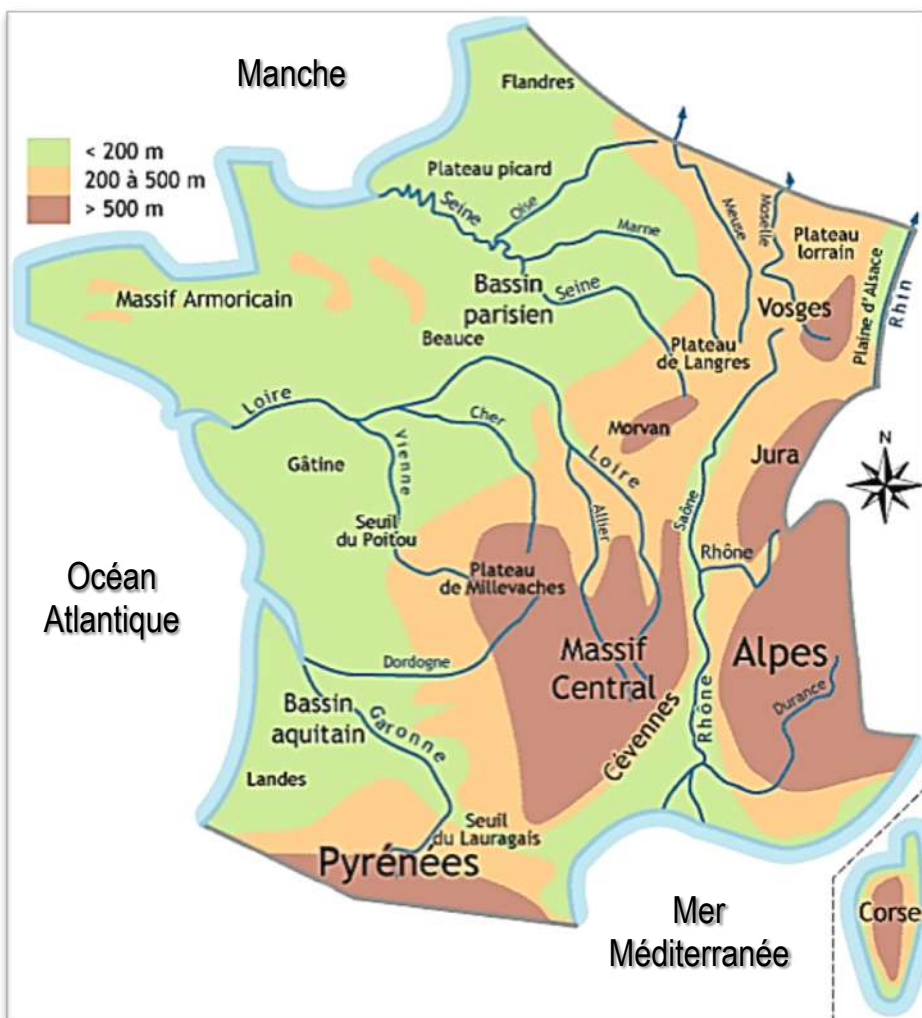
Au sud et à l'Est, on observe des montagnes :

\* les montagnes jeunes avec des sommets hauts et pointus : le Jura (en forme de croissant), les Alpes et les Pyrénées.

\* des montagnes anciennes moins hautes et arrondies, usées par l'érosion : les Vosges ou le Massif Central (des volcans éteints).

Les Alpes sont très élevées mais franchissables par des cols. La plus haute montagne de France est le Mont Blanc qui culmine à 4809 m.

Les Pyrénées sont plus difficiles à traverser. Le pic d'Aneto s'élève à 3 404 m.



## Ce que je dois savoir faire

Situer sur une carte de France :

\* les 5 montagnes principales : Le massif central, les Alpes, le Jura, les Vosges, les Pyrénées

\* les 3 plaines-plateau : bassin Parisien, bassin Aquitain et massif Armoricain



Massif central : des volcans éteints