





2 Idris souhaite également offrir des livres à ses parents.

Il veut lui aussi dépenser 60 €.


a) Combien de livres de chaque sorte peut-il acheter ?

 Écris toutes les solutions possibles.

	Livres à 50 € 	Livres à 20 € 	Livres à 10 € 
Solution 1			
Solution 2			
Solution 3			
Solution 4			
Solution 5			

b)  Quelle solution permet d'acheter le plus grand nombre de livres ?

C'est la solution .

c)  Quelle solution permet d'acheter le plus petit nombre de livres ?

C'est la solution .