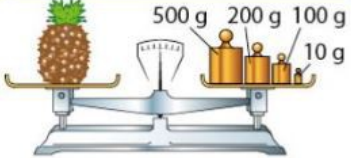
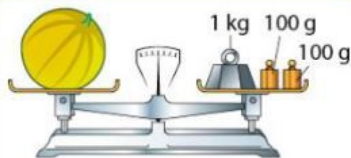
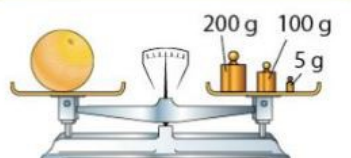


## Mardi 21 avril

### Mesures

Indique en gramme et kilogramme la masse du melon et de pamplemousse.

 <p>Masse de l'ananas : 810 g ou 0,810 kg</p>	 <p>Masse du melon : ..... g ou ..... kg</p>	 <p>Masse du pamplemousse : ..... g ou ..... kg</p>
--	---	--

**Aide !** Pour transformer les g en kg, tu peux utiliser un tableau de conversion.

Multiples du gramme						Unité principale gramme	Sous-multiples du gramme		
tonne	quintal	dizaine de kilogramme	kilogramme	hectogramme	déca-gramme		déci-gramme	centi-gramme	milli-gramme
t	q		kg	hg	dag	g	dg	cg	mg
			0,	8	1	0			
				8	1	0			



**ATTENTION !** Pour placer un nombre dans le tableau de conversion, on met le chiffre des unités dans l'unité demandée.

Exemples : Pour 810 g, on place le 0 dans la colonne des grammes.  
Pour 0,810 kg ; on place le premier 0 dans la colonne des kilogrammes.

**Il faut un seul chiffre par colonne !**



**Il faut savoir que 1 kg = 1 000 g !**

### Réponses :

Le melon pèse 1200g ou 1,200 kg = 1,2 kg

Le pamplemousse pèse 305g ou 0,305 kg

### Rappel :

t = tonne

1t = 1000kg

➔ **Exercice 2 :** Complète les phrases suivantes avec l'unité qui convient : mg, g, t, kg.

- Un enfant pèse 35 \_\_\_\_\_.
- Un camion pèse 38 \_\_\_\_\_.
- Une tablette de chocolat pèse 125 \_\_\_\_\_.
- Un éléphant pèse 3 \_\_\_\_\_.
- Une plume d'oiseau pèse 2 \_\_\_\_\_.
- Un paquet de farine pèse 1 \_\_\_\_\_.
- Un comprimé de médicament pèse 500 \_\_\_\_\_.
- Une feuille de papier pèse 5 \_\_\_\_\_.