



2 a)  Entoure le plus petit nombre.  
 Écris sa lettre dans la case.


65	35
S	T

30	39
R	A

64	46
U	E

21	28
S	N

62	56
E	A



42	34
T	M

44	66
U	I

58	68
S	R

37	29
V	A

56	48
M	N

29	45
T	B

b)  Quel est le message secret ?

Les maths, c'est .....