

**CALCUL MENTAL**

Demander de compter de 2 en 2  
entre deux nombres impairs < 20.  
Écrire la suite.

.....  
.....  
.....  
.....  
.....  
.....  
.....

**1** Jules et Mara se partagent **12** billes. Ils en prennent chacun le même nombre. **Dessine** la part de chacun.



.....  
.....  
.....  
.....  
.....  
.....  
.....  
.....  
.....  
.....  
.....  
.....


.....  
.....  
.....  
.....  
.....  
.....  
.....  
.....  
.....  
.....  
.....  
.....

Nous en avons  
chacun la *moitié*.




La moitié de **12**, c'est .....

**2** Les lapins prennent chacun le même nombre de carottes. **Fais le partage puis complète.**




La moitié de **10**, c'est .....

**3** On met le même nombre de pommes dans chaque panier. **Fais le partage puis complète.**



La moitié de **8**, c'est .....

**4** **Écris** le nombre de fraises pour chaque enfant. Ils en prennent chacun la moitié.



.....  
.....

La moitié de **14**, c'est .....

**5** **Complète** les phrases.



La moitié de **4**, c'est .....

La moitié de **8**, c'est .....

La moitié de **18**, c'est .....

La moitié de **2**, c'est .....

La moitié de **16**, c'est .....

La moitié de **6**, c'est .....