

## Dissertation s'appuyant sur un dossier documentaire

Il est demandé au candidat :

- de répondre à la question posée par le sujet ;
- de construire une argumentation à partir d'une problématique qu'il devra élaborer ;
- de mobiliser des connaissances et des informations pertinentes pour traiter le sujet, notamment celles figurant dans le dossier ;
- de rédiger en utilisant le vocabulaire économique et social spécifique et approprié à la question, en organisant le développement sous la forme d'un plan cohérent qui ménage l'équilibre des parties

Il sera tenu compte, dans la notation, de la clarté de l'expression et du soin apporté à la présentation.

### SUJET

Ce sujet comporte trois documents

**Pourquoi les frontières entre les classes sociales ont-elles tendance à se brouiller ?**

#### DOCUMENT 1

**Le sentiment d'appartenance à une classe sociale (en %)**



Source : *Stratification et classes sociales*, 6<sup>ème</sup> édition, BOSC Serge, 2010.

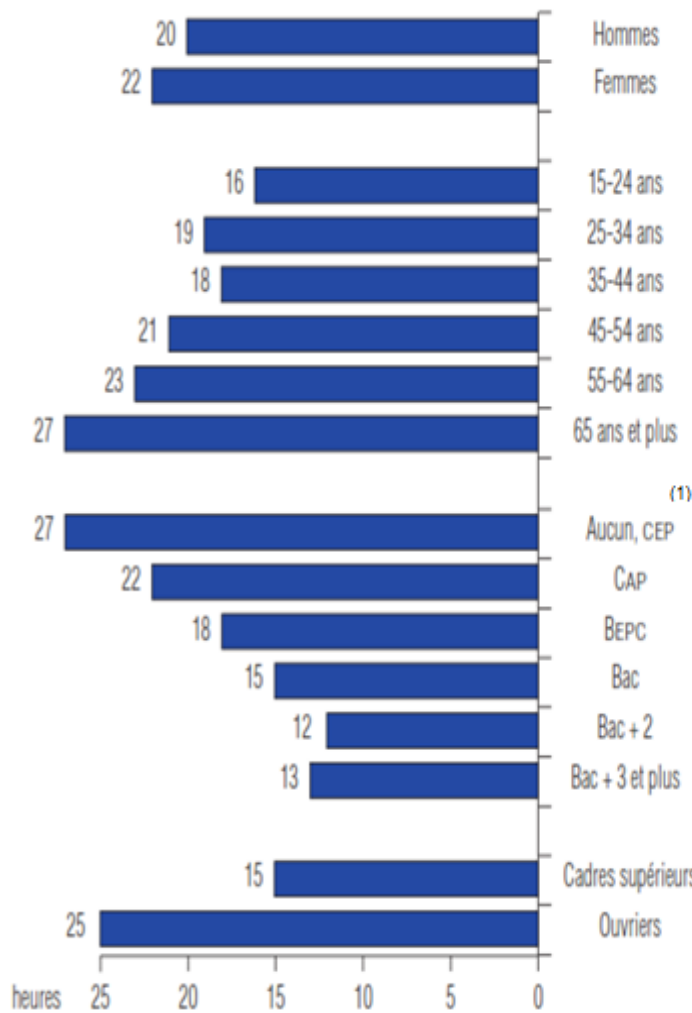
Lecture : En 2002, 55% des personnes interrogées ont déclaré avoir le sentiment d'appartenir à une classe sociale.

Le total ne fait pas 100% car certaines personnes interrogées ne se prononcent pas.

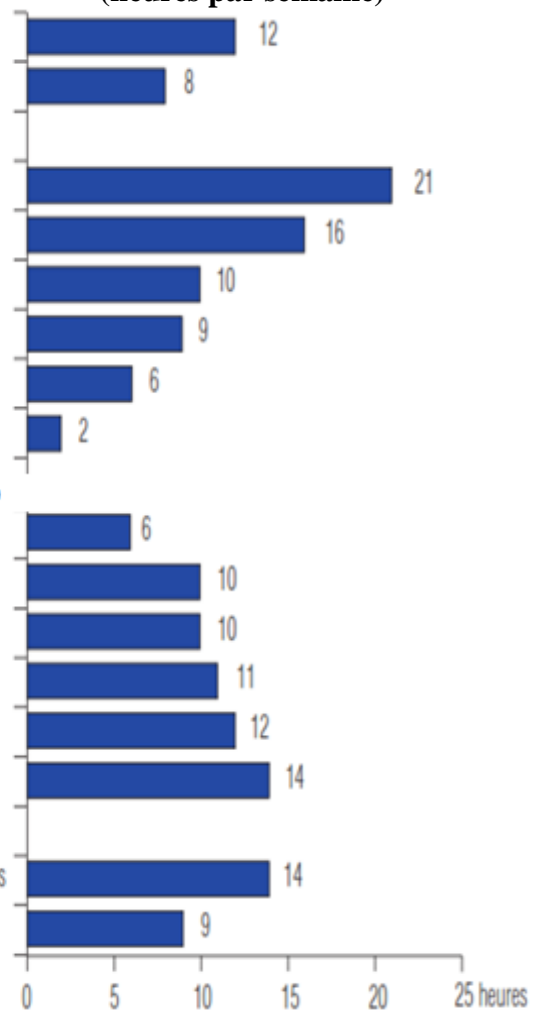
## DOCUMENT 2

### Temps hebdomadaire consacré aux écrans selon le sexe, l'âge, le niveau de diplôme\* et le milieu social, sur 100 personnes de chaque groupe

#### Durée moyenne d'écoute de la télévision\*\* (heures par semaine)



#### Durée moyenne d'utilisation « nouveaux écrans »\*\*\* (heures par semaine)



\* Élèves et étudiants exclus.

\*\* Temps passé devant les programmes télévisés en direct.

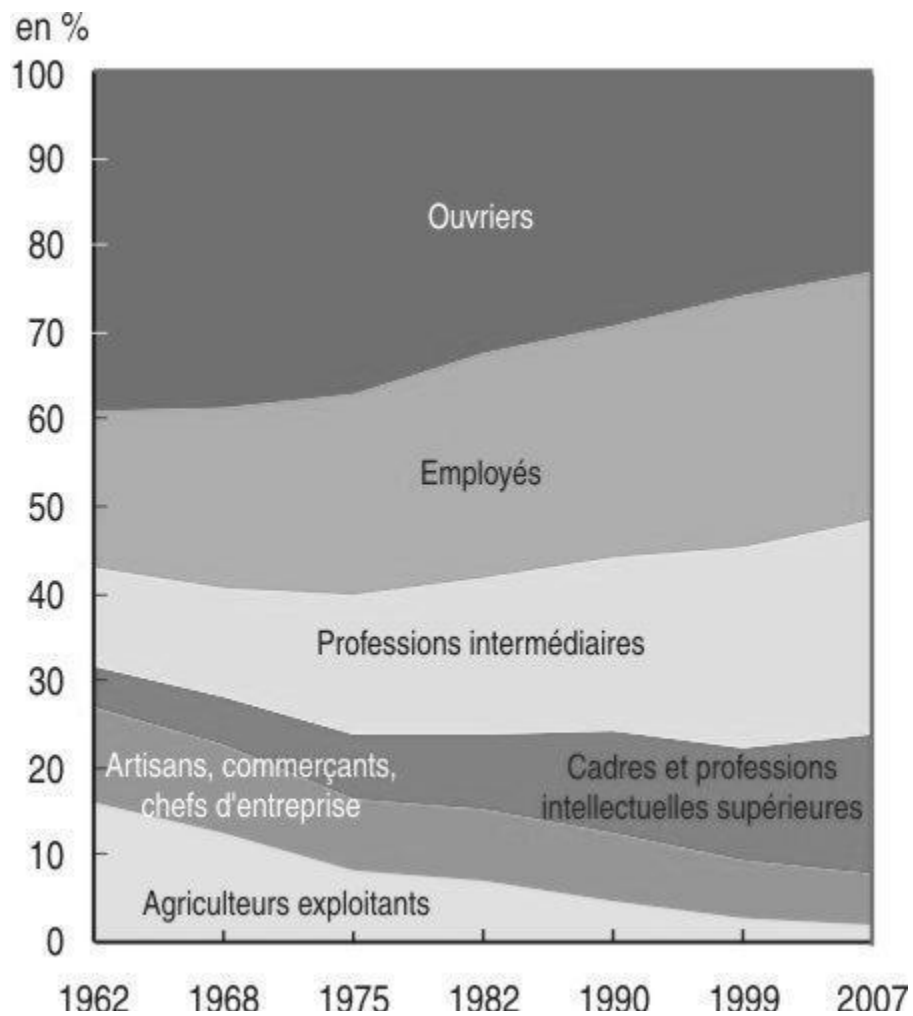
\*\*\* Temps passé devant un ordinateur ou une console de jeux et à regarder des vidéos, quel que soit l'écran.

*Source : Pratiques culturelles 2008, Département des études, de la prospective et des statistiques, ministère de la Culture et de la communication, 2009.*

(1) CEP : certificat d'études primaires ; CAP : certificat d'aptitude professionnelle ; BEPC : brevet d'études du premier cycle remplacé par le diplôme national du brevet.

### DOCUMENT 3

#### Répartition de l'emploi par catégorie socioprofessionnelle de 1962 à 2007 (en %).



Lecture : en 1962, la part des agriculteurs exploitants dans l'emploi était de 16% ; en 2007, elle n'est plus que de 2%.

Champ : actifs ayant un emploi, France métropolitaine.

Source : 50 ans de mutations de l'emploi, INSEE Première, septembre 2010.

## DOCUMENT 4

### Taux de chômage au sens du BIT(1) par sexe et âge et part des chômeurs de longue durée

En %	1990	2003	2006	2007	2008	2009
<b>Ensemble</b>	<b>7,9</b>	<b>8,5</b>	<b>8,8</b>	<b>8,0</b>	<b>7,4</b>	<b>9,1</b>
dont moins de 25 ans	15,4	18,8	22,3	19,5	19,1	23,7
25 à 49 ans	7,0	7,9	8,0	7,3	6,6	8,2
50 ans ou plus	5,6	5,9	5,9	5,3	4,9	6,1
<b>Hommes</b>	<b>6,2</b>	<b>7,6</b>	<b>8,1</b>	<b>7,5</b>	<b>6,9</b>	<b>8,9</b>
dont moins de 25 ans	13,1	18,1	21,0	18,8	19,1	24,6
25 à 49 ans	5,2	6,8	7,0	6,6	5,8	7,6
50 ans ou plus	4,8	5,5	5,7	5,2	4,9	5,9
<b>Femmes</b>	<b>10,2</b>	<b>9,5</b>	<b>9,7</b>	<b>8,6</b>	<b>7,9</b>	<b>9,4</b>
dont moins de 25 ans	18,3	19,8	23,9	20,4	19,1	22,5
25 à 49 ans	9,4	9,2	9,0	8,1	7,5	8,8
50 ans ou plus	6,8	6,4	6,2	5,5	5,0	6,2
<b>Part des chômeurs de longue durée dans le chômage</b>	-	<b>41,0</b>	<b>42,2</b>	<b>40,4</b>	<b>37,9</b>	<b>35,4</b>

Champ : population des ménages de France métropolitaine

Source : *Emploi, chômage, population active : Bilan de l'année 2009, n° 050, DARES Analyses, Juillet 2010.*

(1) Bureau international du travail