


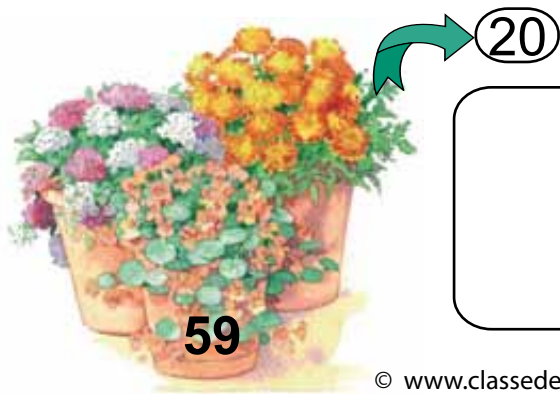
Combien de pommes restera-t-il dans le panier ?



Calcul :

Il restera pommes dans le panier.


Combien de fleurs restera-t-il dans les jardinières ?



Calcul :

Il restera fleurs dans les jardinières.

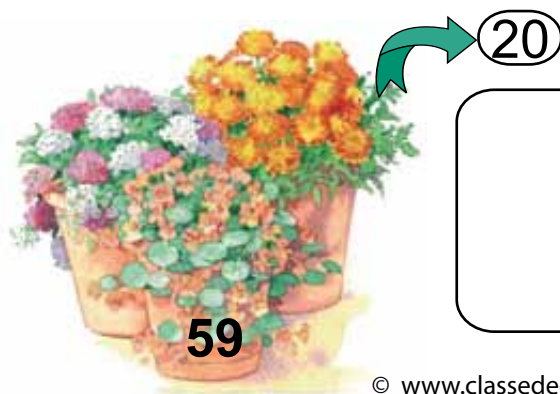
Combien de pommes restera-t-il dans le panier ?



Calcul :

Il restera pommes dans le panier.

Combien de fleurs restera-t-il dans les jardinières ?



Calcul :

Il restera fleurs dans les jardinières.