

Problème Mathématiques

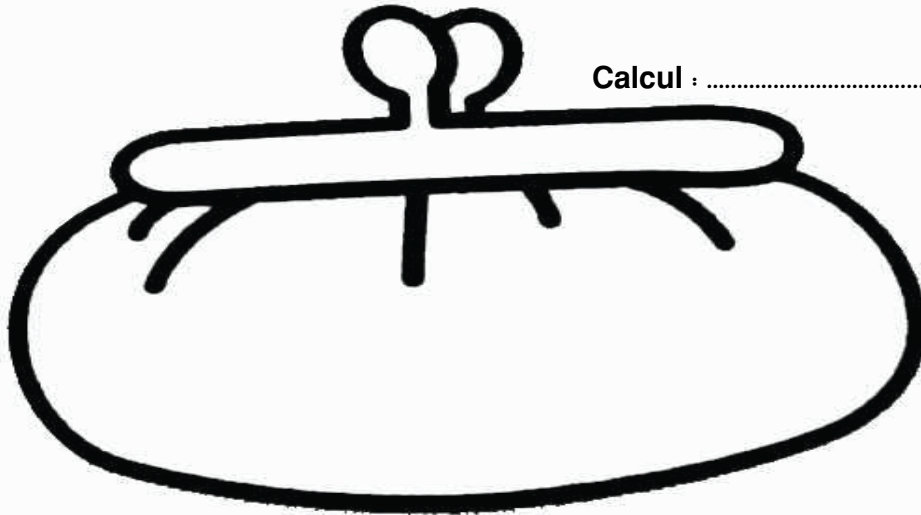
Mamie achète des cadeaux de Noël.

Dans son porte-monnaie, elle a 5 billets de 10 €, 5 billets de 5 € et 3 pièces de 1 €.

Elle achète pour Lucie une maison de poupée à 31€, pour Simon un avion à 20 € et pour Lise un doudou à 17 €.

1/ Combien Mamie a-t-elle d'argent dans son porte-Monnaie ?

Dessine les billets et les pièces puis calcule.


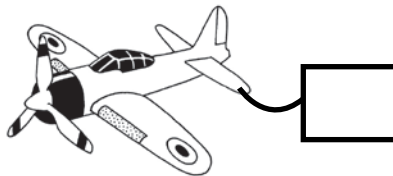



Calcul :

Mamie a€ dans son porte-monnaie.

2/ Combien Mamie paye-t-elle les jouets ?

Complète, puis calcule.



Calcul :

Mamie a payé€.

3/ Combien d'argent lui restera-t-il dans son porte-monnaie après ces achats?

Calcul :

Il lui restera€ dans son porte-monnaie.