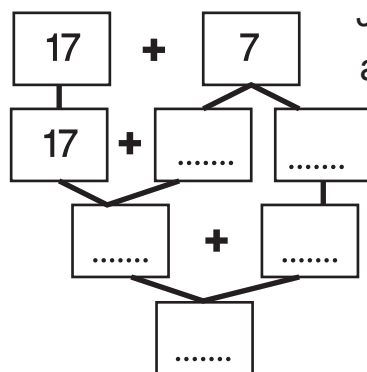


Méthode pour ajouter un petit nombre

$17 + 7 = \dots\dots\dots$

Je décompose 7 en 3 + 4 pour obtenir $17 + 3 = 20$



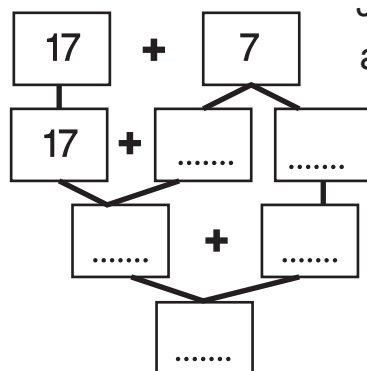
Je vais d'abord à la dizaine supérieure, ainsi le calcul devient plus facile.

donc $17 + 7 = \dots\dots\dots$

Méthode pour ajouter un petit nombre

$17 + 7 = \dots\dots\dots$

Je décompose 7 en 3 + 4 pour obtenir $17 + 3 = 20$



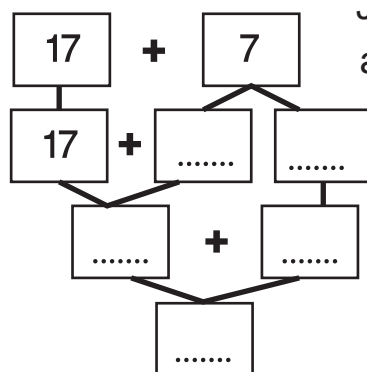
Je vais d'abord à la dizaine supérieure, ainsi le calcul devient plus facile.

donc $17 + 7 = \dots\dots\dots$

Méthode pour ajouter un petit nombre

$17 + 7 = \dots\dots\dots$

Je décompose 7 en 3 + 4 pour obtenir $17 + 3 = 20$



Je vais d'abord à la dizaine supérieure, ainsi le calcul devient plus facile.

donc $17 + 7 = \dots\dots\dots$