


Prénom : Date :

Décompositions additives du nombre 5.


1/ Imagine les points qui manquent et écris combien il en manque.
Vérifie en dessinant les points avec un crayon de couleur rouge.

5



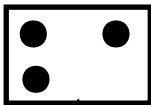
5 +

5



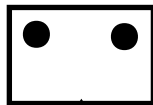
4 +

5



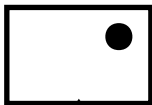
3 +

5




2 +

5



1 +

5



0 +

2/ A l'aide des résultats trouvés, complète la maison du 5.

