















Autoévaluation : 

 avec aide  avec outil

Date : / / 20.....
Avis de l'enseignant(e) :

Fais des paquets de 10 puis écris le résultat.











	$10 + \underline{\quad} = \underline{\quad}$
	$10 + \underline{\quad} = \underline{\quad}$
	$10 + \underline{\quad} = \underline{\quad}$
	$10 + \underline{\quad} = \underline{\quad}$
	$10 + \underline{\quad} = \underline{\quad}$
	$10 + \underline{\quad} = \underline{\quad}$
	$10 + \underline{\quad} = \underline{\quad}$
	$10 + \underline{\quad} = \underline{\quad}$
	$10 + \underline{\quad} = \underline{\quad}$
	$10 + \underline{\quad} = \underline{\quad}$

Autoévaluation :   


 avec aide  avec outil


Date : / / 20.....
Avis de l'enseignant(e) :


Fais des paquets de 10 puis écris le résultat.

	$10 + \underline{\quad} = \underline{\quad}$
	$10 + \underline{\quad} = \underline{\quad}$
	$10 + \underline{\quad} = \underline{\quad}$
	$10 + \underline{\quad} = \underline{\quad}$
	$10 + \underline{\quad} = \underline{\quad}$
	$10 + \underline{\quad} = \underline{\quad}$
	$10 + \underline{\quad} = \underline{\quad}$
	$10 + \underline{\quad} = \underline{\quad}$
	$10 + \underline{\quad} = \underline{\quad}$
	$10 + \underline{\quad} = \underline{\quad}$




Fais des paquets de 10 puis écris le résultat.

	Nombre de paquets de 10 : Nombre de dauphins seuls :	
	Paquets de 10 dizaine d	Seuls unités u
Total : _____		

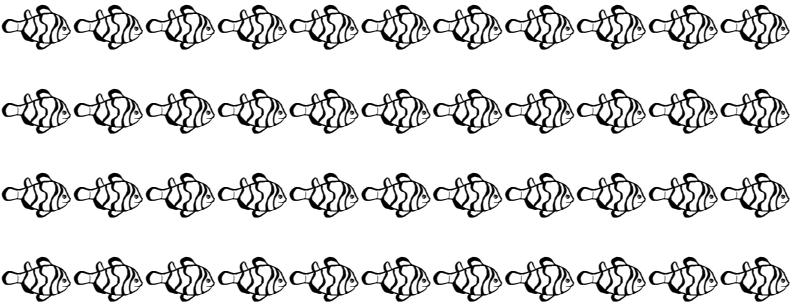
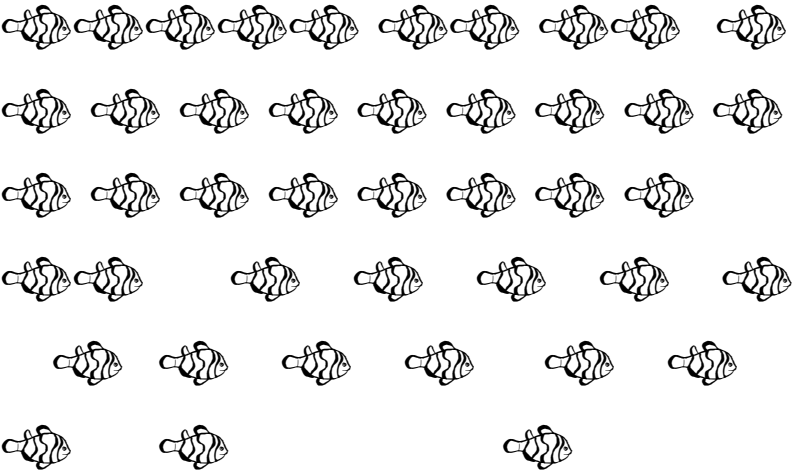

	Nombre de paquets de 10 : Nombre de dauphins seuls :	
	Paquets de 10 dizaine d	Seuls unités u
Total : _____		

	Nombre de paquets de 10 : Nombre de dauphins seuls :	
	Paquets de 10 dizaine d	Seuls unités u
Total : _____		




Fais des paquets de 10 puis écris le résultat.

	<p>Nombre de paquets de 10 : _____ Nombre de baleines seules : _____</p> <table border="1" style="width: 100%; border-collapse: collapse; margin-top: 10px;"> <tr> <td style="width: 50%; text-align: center; padding: 5px;">Paquets de 10 dizaine d</td> <td style="width: 50%; text-align: center; padding: 5px;">Seuls unités u</td> </tr> <tr> <td style="height: 40px;"></td> <td style="height: 40px;"></td> </tr> </table> <p>Total : _____</p>	Paquets de 10 dizaine d	Seuls unités u		
Paquets de 10 dizaine d	Seuls unités u				
	<p>Nombre de paquets de 10 : _____ Nombre de baleines seules : _____</p> <table border="1" style="width: 100%; border-collapse: collapse; margin-top: 10px;"> <tr> <td style="width: 50%; text-align: center; padding: 5px;">Paquets de 10 dizaine d</td> <td style="width: 50%; text-align: center; padding: 5px;">Seuls unités u</td> </tr> <tr> <td style="height: 40px;"></td> <td style="height: 40px;"></td> </tr> </table> <p>Total : _____</p>	Paquets de 10 dizaine d	Seuls unités u		
Paquets de 10 dizaine d	Seuls unités u				
	<p>Nombre de paquets de 10 : _____ Nombre de baleines seules : _____</p> <table border="1" style="width: 100%; border-collapse: collapse; margin-top: 10px;"> <tr> <td style="width: 50%; text-align: center; padding: 5px;">Paquets de 10 dizaine d</td> <td style="width: 50%; text-align: center; padding: 5px;">Seuls unités u</td> </tr> <tr> <td style="height: 40px;"></td> <td style="height: 40px;"></td> </tr> </table> <p>Total : _____</p>	Paquets de 10 dizaine d	Seuls unités u		
Paquets de 10 dizaine d	Seuls unités u				





Fais des paquets de 10 puis écris le résultat.

	<p>Nombre de paquets de 10 : _____ Nombre de poissons seuls : _____</p> <table border="1" style="width: 100%; border-collapse: collapse; margin-top: 10px;"> <thead> <tr> <th style="width: 50%; padding: 5px;">Paquets de 10 dizaine d</th> <th style="width: 50%; padding: 5px;">Seuls unités u</th> </tr> </thead> <tbody> <tr> <td style="height: 40px;"></td> <td style="height: 40px;"></td> </tr> </tbody> </table> <p>Total : _____</p>	Paquets de 10 dizaine d	Seuls unités u		
Paquets de 10 dizaine d	Seuls unités u				
	<p>Nombre de paquets de 10 : _____ Nombre de poissons seuls : _____</p> <table border="1" style="width: 100%; border-collapse: collapse; margin-top: 10px;"> <thead> <tr> <th style="width: 50%; padding: 5px;">Paquets de 10 dizaine d</th> <th style="width: 50%; padding: 5px;">Seuls unités u</th> </tr> </thead> <tbody> <tr> <td style="height: 40px;"></td> <td style="height: 40px;"></td> </tr> </tbody> </table> <p>Total : _____</p>	Paquets de 10 dizaine d	Seuls unités u		
Paquets de 10 dizaine d	Seuls unités u				
	<p>Nombre de paquets de 10 : _____ Nombre de poissons seuls : _____</p> <table border="1" style="width: 100%; border-collapse: collapse; margin-top: 10px;"> <thead> <tr> <th style="width: 50%; padding: 5px;">Paquets de 10 dizaine d</th> <th style="width: 50%; padding: 5px;">Seuls unités u</th> </tr> </thead> <tbody> <tr> <td style="height: 40px;"></td> <td style="height: 40px;"></td> </tr> </tbody> </table> <p>Total : _____</p>	Paquets de 10 dizaine d	Seuls unités u		
Paquets de 10 dizaine d	Seuls unités u				



Fais des paquets de 10 puis écris le résultat.

	<p>Nombre de paquets de 10 : _____ Nombre de coquillages seuls : _____</p> <table border="1" style="width: 100%; border-collapse: collapse; margin-top: 10px;"> <thead> <tr> <th style="width: 50%; padding: 5px;">Paquets de 10 dizaine d</th> <th style="width: 50%; padding: 5px;">Seuls unités u</th> </tr> </thead> <tbody> <tr> <td style="height: 30px;"></td> <td style="height: 30px;"></td> </tr> </tbody> </table> <p>Total : _____</p>	Paquets de 10 dizaine d	Seuls unités u		
Paquets de 10 dizaine d	Seuls unités u				
	<p>Nombre de paquets de 10 : _____ Nombre de coquillages seuls : _____</p> <table border="1" style="width: 100%; border-collapse: collapse; margin-top: 10px;"> <thead> <tr> <th style="width: 50%; padding: 5px;">Paquets de 10 dizaine d</th> <th style="width: 50%; padding: 5px;">Seuls unités u</th> </tr> </thead> <tbody> <tr> <td style="height: 30px;"></td> <td style="height: 30px;"></td> </tr> </tbody> </table> <p>Total : _____</p>	Paquets de 10 dizaine d	Seuls unités u		
Paquets de 10 dizaine d	Seuls unités u				
	<p>Nombre de paquets de 10 : _____ Nombre de coquillages seuls : _____</p> <table border="1" style="width: 100%; border-collapse: collapse; margin-top: 10px;"> <thead> <tr> <th style="width: 50%; padding: 5px;">Paquets de 10 dizaine d</th> <th style="width: 50%; padding: 5px;">Seuls unités u</th> </tr> </thead> <tbody> <tr> <td style="height: 30px;"></td> <td style="height: 30px;"></td> </tr> </tbody> </table> <p>Total : _____</p>	Paquets de 10 dizaine d	Seuls unités u		
Paquets de 10 dizaine d	Seuls unités u				


Fais des paquets de 10 puis écris le résultat.

	Nombre de paquets de 10 : _____ Nombre de crabes seuls : _____				
	<table border="1" style="width: 100%; border-collapse: collapse;"> <tr> <td style="width: 50%; padding: 5px;">Paquets de 10 dizaine d</td> <td style="width: 50%; padding: 5px;">Seuls unités u</td> </tr> <tr> <td style="height: 30px;"></td> <td style="height: 30px;"></td> </tr> </table>	Paquets de 10 dizaine d	Seuls unités u		
Paquets de 10 dizaine d	Seuls unités u				
	Nombre de paquets de 10 : _____ Nombre de crabes seuls : _____				
	<table border="1" style="width: 100%; border-collapse: collapse;"> <tr> <td style="width: 50%; padding: 5px;">Paquets de 10 dizaine d</td> <td style="width: 50%; padding: 5px;">Seuls unités u</td> </tr> <tr> <td style="height: 30px;"></td> <td style="height: 30px;"></td> </tr> </table>	Paquets de 10 dizaine d	Seuls unités u		
Paquets de 10 dizaine d	Seuls unités u				
	Nombre de paquets de 10 : _____ Nombre de crabes seuls : _____				
	<table border="1" style="width: 100%; border-collapse: collapse;"> <tr> <td style="width: 50%; padding: 5px;">Paquets de 10 dizaine d</td> <td style="width: 50%; padding: 5px;">Seuls unités u</td> </tr> <tr> <td style="height: 30px;"></td> <td style="height: 30px;"></td> </tr> </table>	Paquets de 10 dizaine d	Seuls unités u		
Paquets de 10 dizaine d	Seuls unités u				
	Nombre de crabes seuls : _____ Total : _____				
	<table border="1" style="width: 100%; border-collapse: collapse;"> <tr> <td style="width: 50%; padding: 5px;">Paquets de 10 dizaine d</td> <td style="width: 50%; padding: 5px;">Seuls unités u</td> </tr> <tr> <td style="height: 30px;"></td> <td style="height: 30px;"></td> </tr> </table>	Paquets de 10 dizaine d	Seuls unités u		
Paquets de 10 dizaine d	Seuls unités u				


Fais des paquets de 10 puis écris le résultat.

	<p>Nombre de paquets de 10 : _____ Nombre de dauphins seuls : _____</p> <table border="1" style="width: 100%; border-collapse: collapse; text-align: center;"> <tr> <td style="width: 50%;">Paquets de 10 dizaine d</td> <td style="width: 50%;">Seuls unités u</td> </tr> <tr> <td style="height: 40px;"> </td> <td> </td> </tr> </table> <p>Total : _____</p>	Paquets de 10 dizaine d	Seuls unités u		
Paquets de 10 dizaine d	Seuls unités u				
	<p>Nombre de paquets de 10 : _____ Nombre de dauphins seuls : _____</p> <table border="1" style="width: 100%; border-collapse: collapse; text-align: center;"> <tr> <td style="width: 50%;">Paquets de 10 dizaine d</td> <td style="width: 50%;">Seuls unités u</td> </tr> <tr> <td style="height: 40px;"> </td> <td> </td> </tr> </table> <p>Total : _____</p>	Paquets de 10 dizaine d	Seuls unités u		
Paquets de 10 dizaine d	Seuls unités u				

Fais 6 paquets de 10 puis écris le résultat.


	<p>Combien reste-t-il de dauphins ? _____</p> <p>On a donc 6 paquets de 10 = _____</p> <p>Total : _____ + _____ = _____</p>
--	---

Fais des paquets de 20 puis écris le résultat.



Il y a ____ paquets de 20.
Ça fait _____

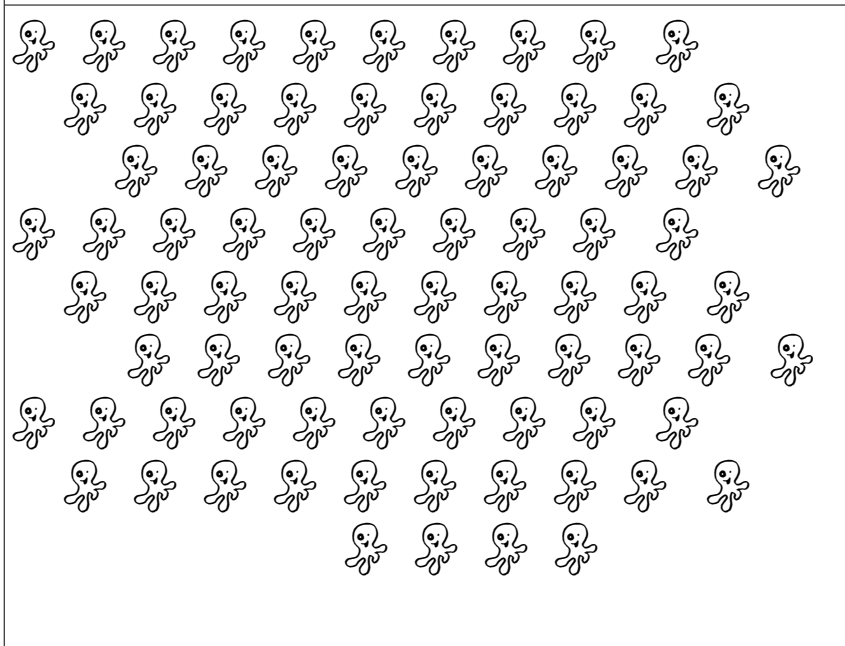
Fais des paquets de 10 puis écris le résultat.



Nombre de paquets de 10 : _____
Nombre de pieuvres seules : _____

Paquets de 10 dizaine d	Seuls unités u

Total : _____




Nombre de paquets de 10 : _____
Nombre de pieuvres seules : _____

Paquets de 10 dizaine d	Seuls unités u


Total : _____

Fais des paquets de 20 puis écris le résultat.



Il y a ____ paquets de 20.
+ ____ hippocampes seuls.
Ça fait : _____


Fais des paquets de 10 puis écris le résultat.



Nombre de paquets de 10 : _____
Nombre d'hippocampes seuls : _____

Paquets de 10 dizaine d	Seuls unités u

Total : _____





Nombre de paquets de 10 : _____
Nombre d'hippocampes seuls : _____

Paquets de 10 dizaine d	Seuls unités u

Total : _____

Fais des paquets de 10 puis écris le résultat.

	<p>Nombre de paquets de 10 : _____ Nombre de masques seuls : _____</p> <table border="1" style="width: 100%; border-collapse: collapse;"> <tr> <td style="width: 50%; text-align: center;">Paquets de 10 dizaine d</td> <td style="width: 50%; text-align: center;">Seuls unités u</td> </tr> <tr> <td style="height: 40px;"></td> <td style="height: 40px;"></td> </tr> </table> <p>Total : _____</p>	Paquets de 10 dizaine d	Seuls unités u		
Paquets de 10 dizaine d	Seuls unités u				
	<p>Nombre de paquets de 10 : _____ Nombre de masques seuls : _____</p> <table border="1" style="width: 100%; border-collapse: collapse;"> <tr> <td style="width: 50%; text-align: center;">Paquets de 10 dizaine d</td> <td style="width: 50%; text-align: center;">Seuls unités u</td> </tr> <tr> <td style="height: 40px;"></td> <td style="height: 40px;"></td> </tr> </table> <p>Total : _____</p>	Paquets de 10 dizaine d	Seuls unités u		
Paquets de 10 dizaine d	Seuls unités u				

Une centaine c'est paquets de 10. C'est donc dizaines. C'est unités.