

SEQUENCE 2
MATHEMATIQUES
CP

RESOUDRE
DES
PROBLEMES

Résoudre des problèmes

- Découverte







Réponds aux questions suivantes :

- Quel est le prix d'une baguette de pain ?
- Quel est le prix d'une tarte ?
- Combien y-a-t-il de boules de pains dans le rayonnage ?
- Combien coûte le gâteau le plus cher ?
- Qu'est-ce qui coûte 2 € (deux euros) ?
- Qu'est-ce qui coûte le moins cher ?

Utilise les pièces de 1 € (un euro) de ta fiche matériel déjà découpée.

Colle dans chaque case les pièces de 1 € (un euro) que tu dois donner pour acheter les articles suivants :


• RESOUDRE DES PROBLEMES :





Complète pour que chaque vase ait 6 fleurs.



Résous le problème suivant.

- Observe et compte combien il y a de kangourous au total.
 - Ensuite, pour chaque vignette ci-dessous.
 - Compte combien il y a de kangourous dans la vignette.
 - Les kangourous représentés dans chaque vignette sont rentrés chez eux.
- Écris dans la case en bas, combien de kangourous il reste dans le désert pour chacune des situations ; vignettes a, b, c, d.



 a <input style="width: 80px; height: 30px;" type="text"/>	 b <input style="width: 80px; height: 30px;" type="text"/>	 c <input style="width: 80px; height: 30px;" type="text"/>	 d <input style="width: 80px; height: 30px;" type="text"/>
--	--	--	---

VOUS POUVEZ FAIRE UNE EVALUATION DE FIN DE SEANCE SUR RESOUDRE LES PROBLEMES