

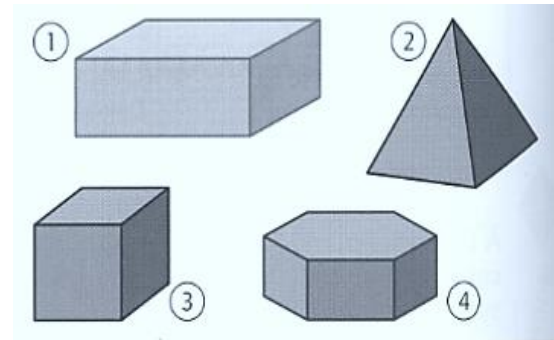
Nom :

Date :/...../20.....

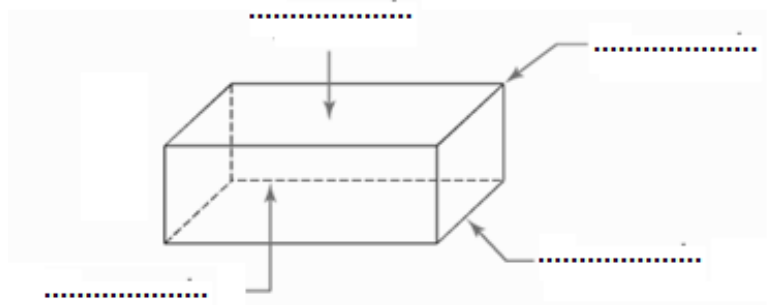
Identifier quelques solides

1- Complète le tableau suivant.

Solides	1	2	3	4
Nombre de faces				
Nombre de sommets				
Nombres d'arêtes				



2- Complète la figure ci-contre, colorie en rouge une face. Repasse en bleu une arête visible et en une arête cachée. Enfin, marque d'un point un sommet.



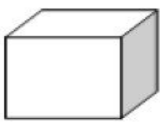
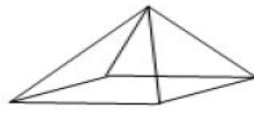
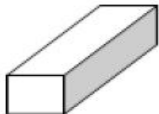
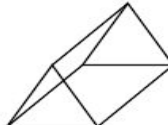
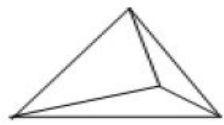
3- Polyèdres et non-polyèdres.


Un Polyèdre :

Un non-polyèdre :

Un solide droit :

Complète les deux tableaux en indiquant le nom de chaque solide.

Quelques polyèdres				
				
.....

Quelques non-polyèdres		
		
.....