


## DÉFI 11 « LEGO » - LES LONGUEURS

➤ Quelle est la longueur de ce mur ?




➔ Cette brique mesure 8 cm !

Ma démarche / mes calculs :

Ma réponse (sous la forme d'une phrase) :


---

---



## DÉFI 12 « LEGO » - Les aires

Calcule l'aire de la plaque NOIRE grâce aux renseignements qui te sont donnés ?



Ma démarche / mes calculs :

Ma réponse (sous la forme d'une phrase) :


---

---



## DÉFI 13 « LEGO » - Les aires

Calcule l'aire de la plaque GRISE grâce aux renseignements qui te sont donnés ?




Ma démarche / mes calculs :

Ma réponse (sous la forme d'une phrase) :



## DÉFI 14 « LEGO » - Les aires

Calcule l'aire de la plaque BLANCHE grâce aux renseignements qui te sont donnés ?



Ma démarche / mes calculs :

Ma réponse (sous la forme d'une phrase) :