




DÉFI 1 « LEGO » - LES FRACTIONS


Cherche la brique Lego qui correspond à la fraction demandée.

ou écris la fraction représentée par la/les brique(s).



$$= 1$$

$$= \frac{1}{2}$$



$$=$$

$$= \frac{1}{8}$$

$$= \frac{3}{4}$$



DÉFI 2 « LEGO » - Les Fractions

Cherche la brique Lego qui correspond à la fraction demandée.



= 1

$$\frac{4}{8} =$$


$$\frac{1}{4} =$$

$$\frac{2}{4} =$$



DÉFI 3 « LEGO » - Les Fractions

Cherche la brique Lego qui correspond à la fraction demandée.



= 1

= $\frac{1}{6}$ =

= $\frac{1}{12}$ =

= $\frac{1}{3}$

= $\frac{1}{9}$ =

= $\frac{1}{18}$



DÉFI 4 « LEGO » - Les Fractions

Cherche la brique Lego qui correspond à la fraction demandée.



= 2

= 1

= $\frac{2}{5}$

= $\frac{1}{10}$

= $\frac{1}{2}$

= $\frac{4}{10}$

= 4