

Annexe Modèles en barres

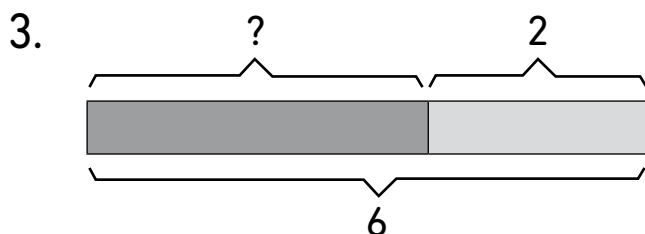
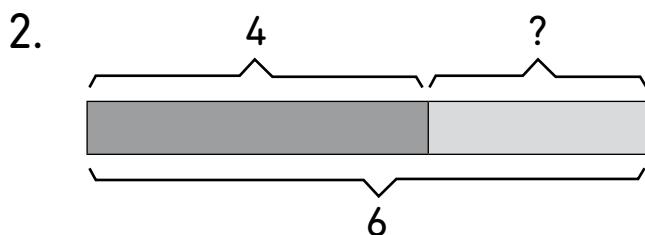
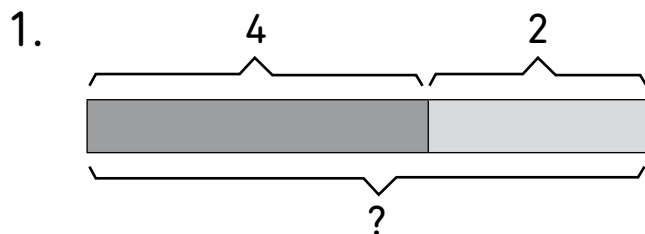
Associe chaque problème au **modèle en barres** et à la **phrase mathématique** qui lui correspondent.

Dans l'égalité, la réponse que l'on cherche est en **gras**.

Problèmes

- Adèle a 6 pommes. Quatre d'entre elles sont rouges et les autres sont vertes. Combien y a-t-il de pommes vertes ?
- Maël a quatre pommes rouges et deux pommes vertes. Combien a-t-il de pommes en tout ?
- Idris a deux pommes vertes et les autres sont rouges. S'il a six pommes en tout, combien d'entre elles sont rouges ?

Modèles en barres



Phrases mathématiques

- $6 - 2 = \mathbf{4}$
- $4 + 2 = \mathbf{6}$
- $6 - 4 = \mathbf{2}$