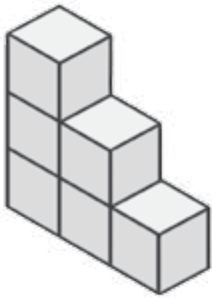
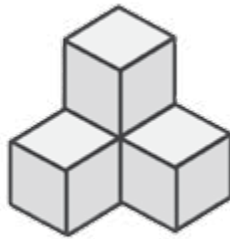


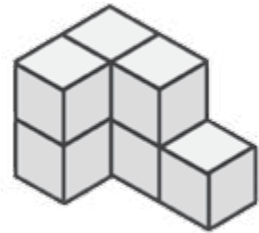
Les solides ci-dessous ont été construits avec des cubes en bois.
 Trouve, pour chaque construction, le nombre de cubes utilisés.




J'ai utilisé
 cubes.




J'ai utilisé
 cubes.



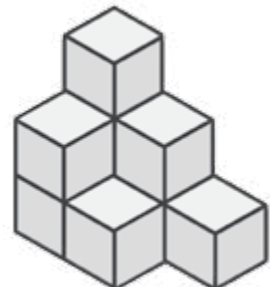
J'ai utilisé
 cubes.



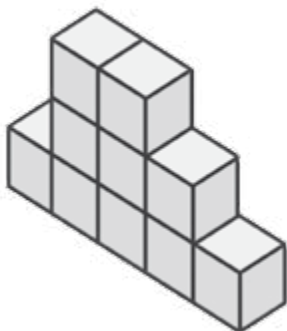
J'ai utilisé
 cubes.



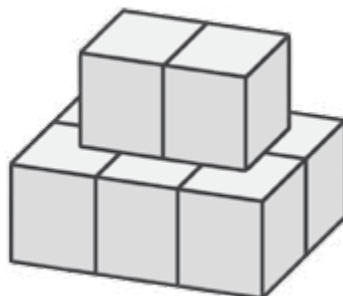
J'ai utilisé
 cubes.




J'ai utilisé
 cubes.



J'ai utilisé
 cubes.



J'ai utilisé
 cubes.



J'ai utilisé
 cubes.