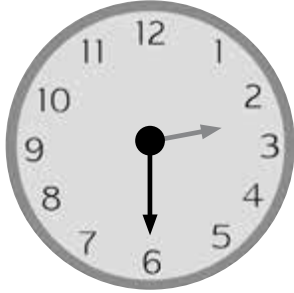


14. L'heure

Révisions

1 Complète.

a)



L'horloge indique que minutes se sont écoulées depuis 2 h.

Il est donc h .


b)




L'horloge indique que minutes se sont écoulées depuis 9 h.

Il est donc h .

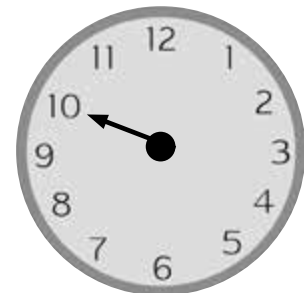
2 Dessine l'aiguille manquante dans chaque horloge.



3 h 35



7 h 10



11 h 50

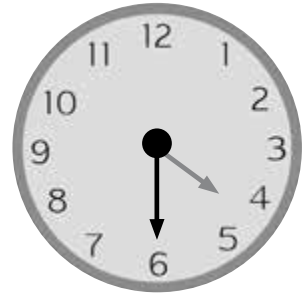
3 Complète.

a)



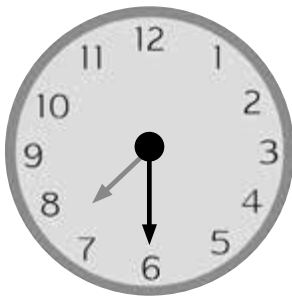
16 h 00

min plus tard
→



h

b)



7 h 30

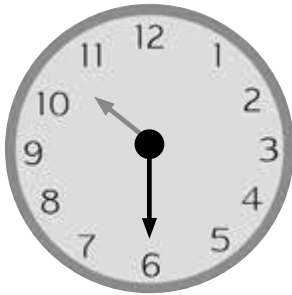
min plus tard
→



h

4 Complète.

a)

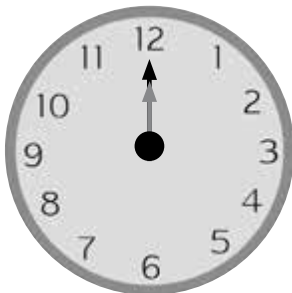


30 min plus tard



h

b)



1 h plus tard



h