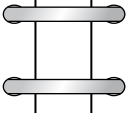


## 9. Les modèles en barres

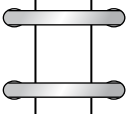
## Révisions

1 Complète les additions et les soustractions.

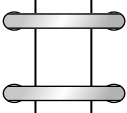
a)

$25 + \square = 28$ $28 - \square = 25$		$\square + 25 = 28$ $28 - 25 = \square$
--------------------------------------------	-----------------------------------------------------------------------------------	--------------------------------------------

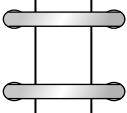
b)

$56 - \square = 36$ $36 + \square = 56$		$\square + 36 = 56$ $56 - 36 = \square$
--------------------------------------------	-----------------------------------------------------------------------------------	--------------------------------------------

c)

$60 + \square = 90$ $90 - \square = 60$		$90 - 60 = \square$ $\square + 60 = 90$
--------------------------------------------	-------------------------------------------------------------------------------------	--------------------------------------------

d)

$20 + \square = 100$ $100 - \square = 20$		$100 - 20 = \square$ $\square + 20 = 100$
----------------------------------------------	-------------------------------------------------------------------------------------	----------------------------------------------

2 Complète.

a)  $9 + 10 = \square$

b)  $24 - 8 = \square$

c)  $36 + 20 = \square$

d)  $44 - 20 = \square$

e)  $47 + 13 = \square$

f)  $50 - 18 = \square$

- 3 Pauline a 284 perles.  
Elle en achète 40 de plus.  
Combien de perles a-t-elle maintenant ?

$$\square \circ \square = \square$$

Pauline a maintenant  perles.

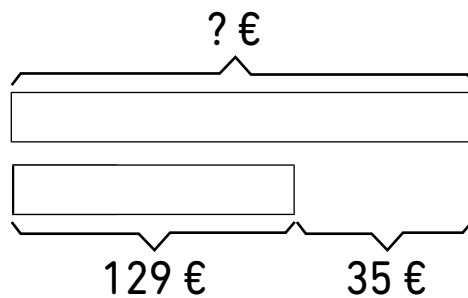
- 4 Florian a 525 badges dans son magasin.  
Il en vend 90.  
Combien de badges lui reste-t-il ?

$$\square \circ \square = \square$$

Il lui reste  badges.

- 5 Louis a 129 €. Il a 35 € de moins que Claire.  
Quelle somme d'argent Claire a-t-elle ?

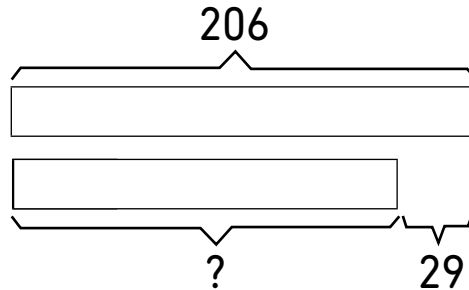
Révisions CP



$$\square \text{ €} \circ \square \text{ €} = \square \text{ €}$$

Claire a  €.

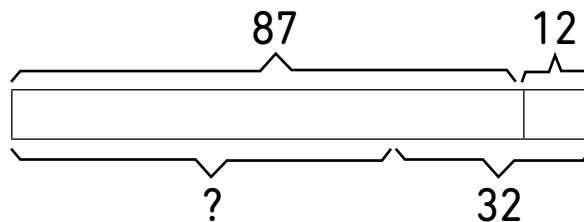
- 6 Noah a 206 timbres.  
 Il a 29 timbres de plus que Zoé.  
 Combien de timbres Zoé a-t-elle ?



$\ominus$   =

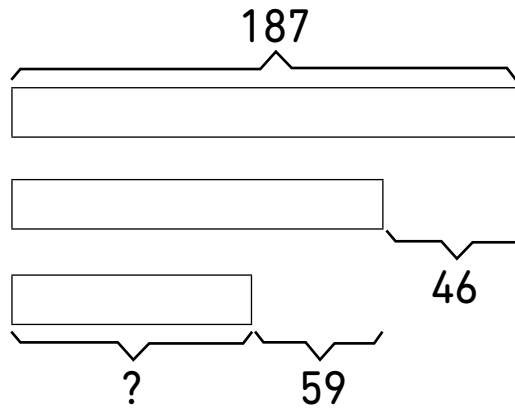
Zoé a  timbres.

- 7 Enzo possède 87 livres.  
 Il gagne 12 nouveaux livres à un concours, et en donne  
 32 à une association.  
 Combien de livres lui reste-t-il ?



Il lui reste  livres.

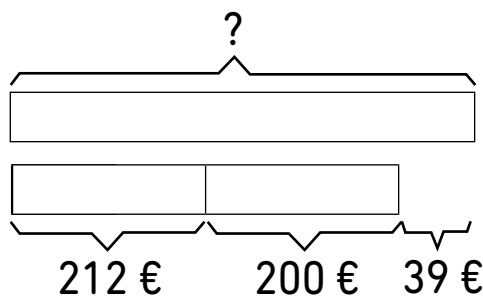
- 8 Assia a 187 billes.  
 Lise a 46 billes de moins qu'Assia.  
 Paul a 59 billes de moins que Lise.  
 Combien de billes Paul a-t-il ?



Paul a  billes.

- 9 Quentin a 212 €. Révisions CP

Sa sœur lui donne 200 €.  
 Il a besoin de 39 € de plus pour s'acheter une machine à laver.  
 Combien coûte la machine à laver ?



La machine à laver coûte  €.