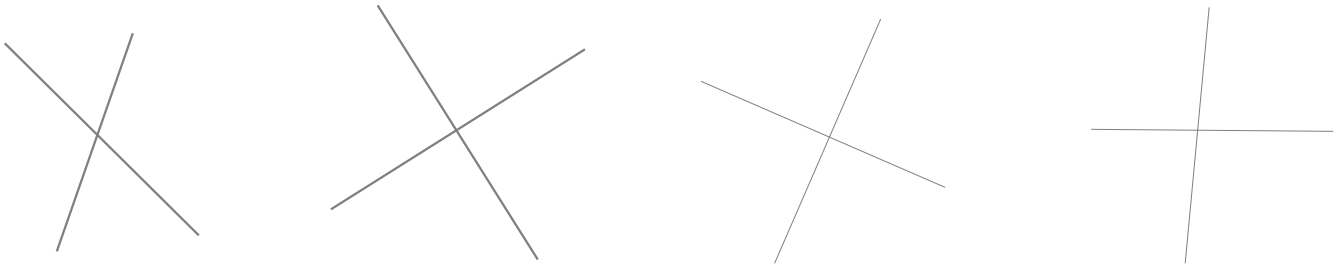
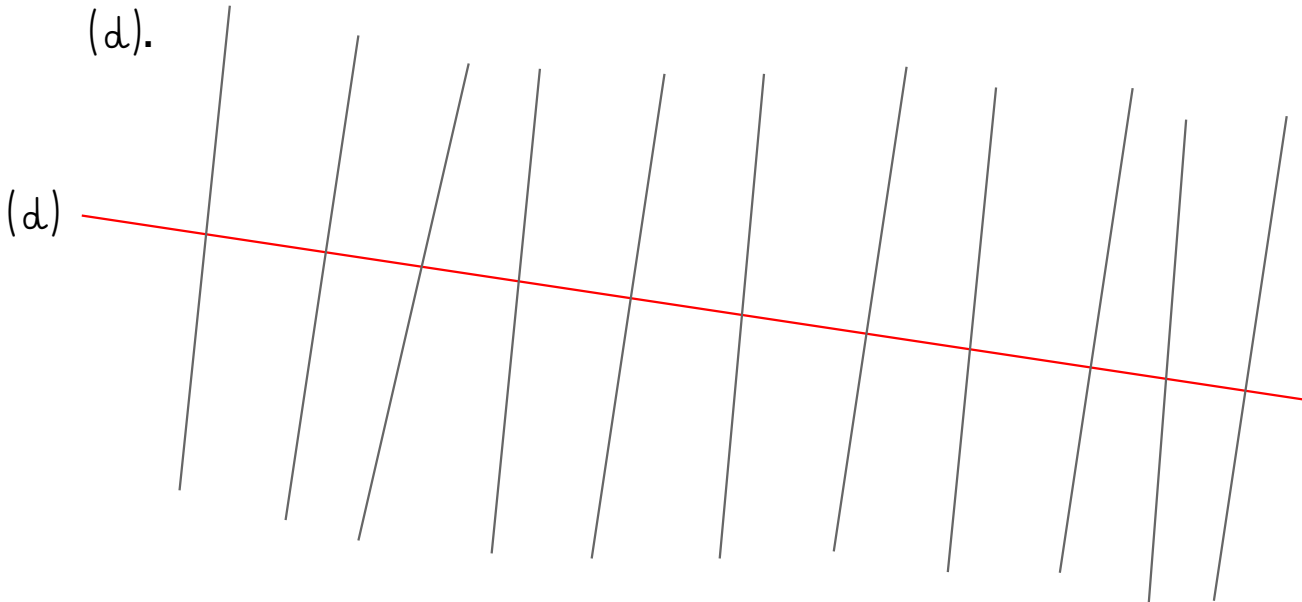


Les droites perpendiculaires


1 Code les angles droits et entoure les droites qui sont perpendiculaires.



2 Repasse en bleu les droites qui sont perpendiculaires à la droite (d).

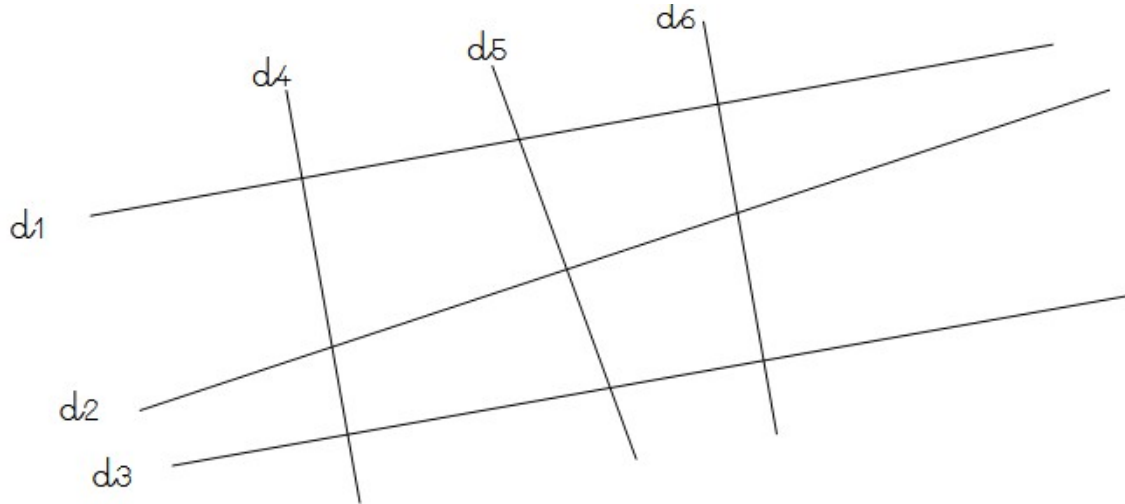


3 Trace une droite perpendiculaires à la droite (d).



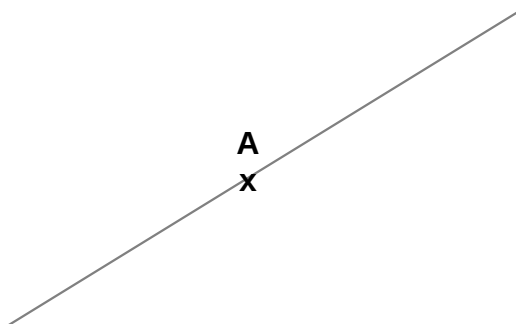
Les droites perpendiculaires

1 Coche lorsque les phrases sont vraies.

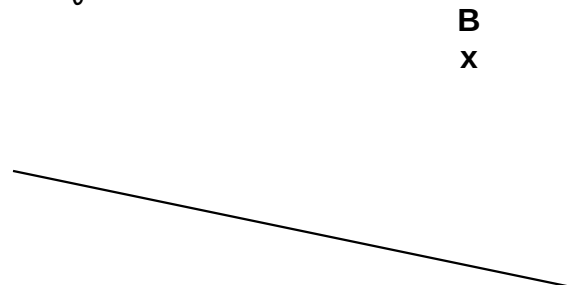


- Les droites (d1) et (d4) sont perpendiculaires.
- Les droites (d1) et (d5) sont perpendiculaires.
- Les droites (d3) et (d6) ne sont pas perpendiculaires.
- Les droites (d2) et (d4) ne sont pas perpendiculaires.
- Les droites (d1) et (d6) sont perpendiculaires.
- Les droites (d2) et (d5) sont perpendiculaires.

2 Trace une droite perpendiculaire à la droite (e) passant par A.



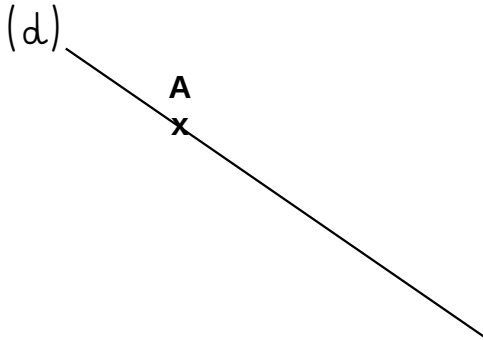
3 Trace une droite perpendiculaire à la droite (f) passant par B.



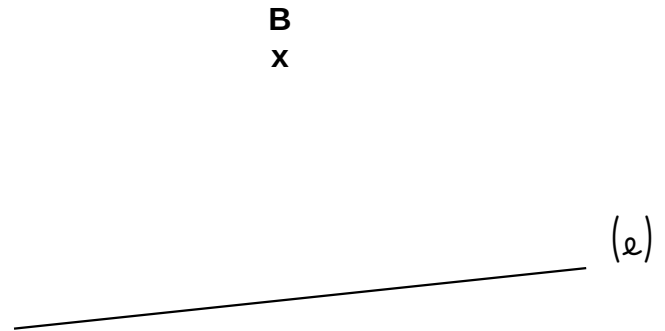
B
x

Les droites perpendiculaires

1 Trace une droite perpendiculaire à la droite (d) passant par A.



2 Trace une droite perpendiculaire à la droite (e) passant par B.



3 Trace une droite (a) . Place un point B sur la droite (a) .

Trace une droite perpendiculaire à la droite (a) passant par B.