

# La mesure d'aires

Compétences	Évaluation
Exprimer la mesure de l'aire d'une figure en fonction d'une unité donnée.	
Ranger des figures en fonction de leur aire.	
Calculer l'aire d'un carré, d'un rectangle.	

1 Exprime l'aire de ces figures.

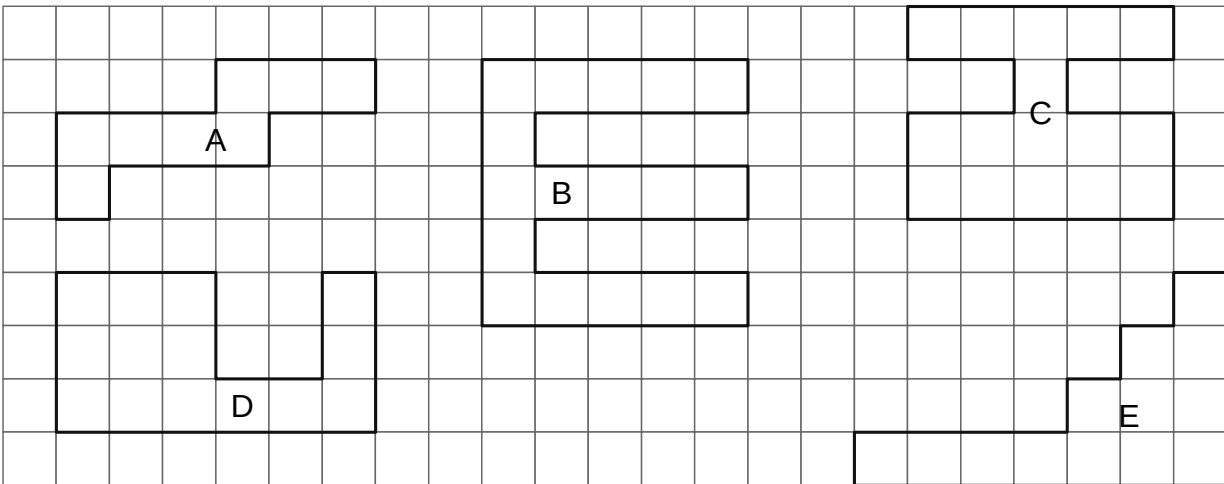



	Figure A	Figure B	Figure C	Figure D	Figure E
Unité 1					
Unité 2					

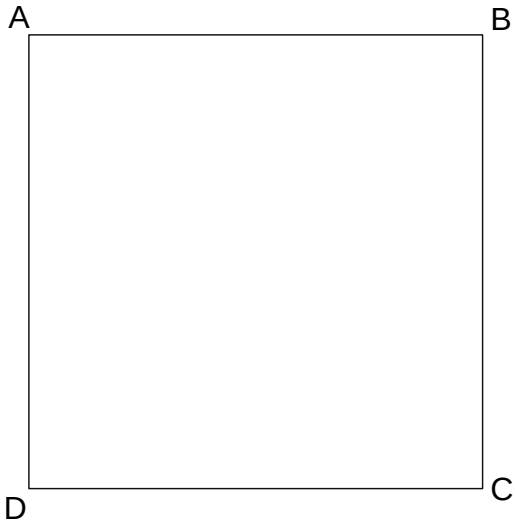
2 Range les figures de l'exercice 1 de la plus petite à la plus grande en fonction de leur aire.

.....


3 Trace une figure géométrique rouge dont l'aire mesure 45 carreaux. Cette figure ne doit pas être un rectangle.



4 Calcule l'aire du rectangle ABCD et l'aire du carré EFGH. L'unité utilisée est le  $\text{cm}^2$ .



Calcul : .....  
Aire de ABCD : .....



Calcul : .....  
Aire de EFGH : .....