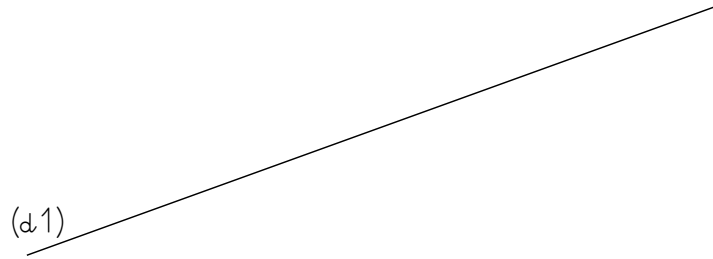


## Géométrie

Prénom :

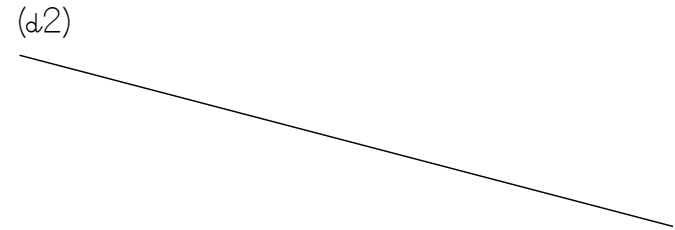
Trace la droite perpendiculaire à la droite (d1).



## Géométrie

Prénom :

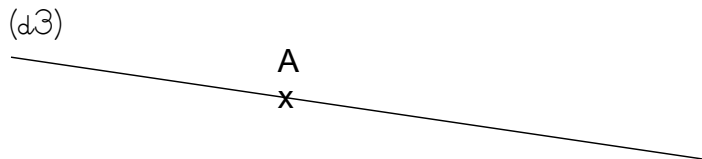
Trace la droite perpendiculaire à la droite (d2).



## Géométrie

Prénom :

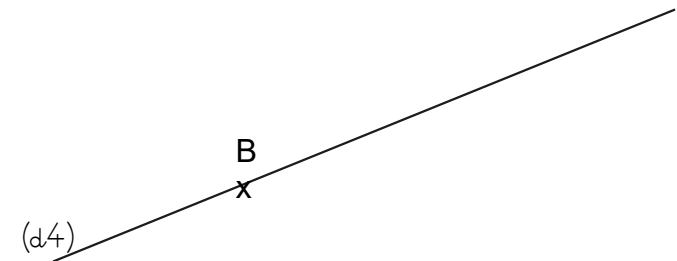
Trace la droite perpendiculaire à la droite (d3) qui passe par le point A.



## Géométrie

Prénom :

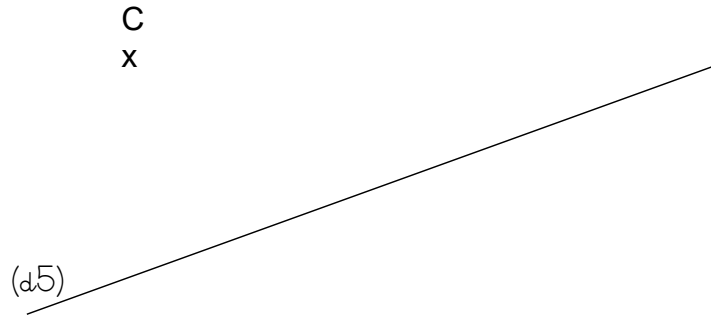
Trace la droite perpendiculaire à la droite (d4) qui passe par le point B.



## Géométrie

Prénom :

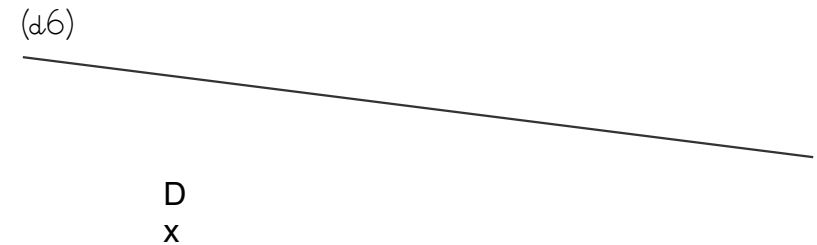
Trace la droite perpendiculaire à la droite (d5) qui passe  
Par le point C.



## Géométrie

Prénom :

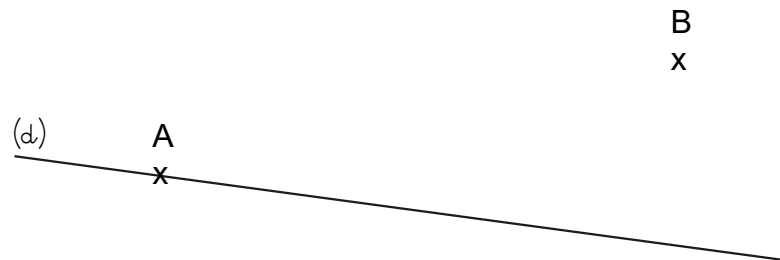
Trace la droite perpendiculaire à la droite (d6).



## Géométrie

Prénom :

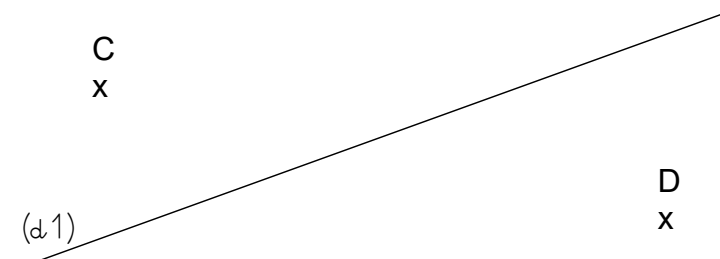
Trace la droite perpendiculaire à la droite (d) qui passe  
par le point A et une droite perpendiculaire qui passe par  
le point B.



## Géométrie

Prénom :

Trace la droite perpendiculaire à la droite (d1) qui passe  
par le point C et une droite perpendiculaire qui passe par  
le point D.



## Géométrie

Prénom :

Place deux points A et B. Trace la droite (AB).  
Trace une droite (d) perpendiculaire à la droite (AB).

## Géométrie

Prénom :

Place 3 points non alignés A, B et C. Trace la droite (AC).  
Trace la droite perpendiculaire à la droite (AC) passant par B.

## Géométrie

Prénom :

Place 4 points A, B, C et D non alignés. Trace la droite (BD).  
Trace une droite perpendiculaire rouge à la droite (BD) passant par A. Trace une droite perpendiculaire bleue à la droite (BD) passant par C.