


# Les instruments de la géométrie

## 1 Relie les instruments avec leurs utilités.

- |             |   |   |   |
|-------------|---|---|---|
|             | • | • | sert à tracer des cercles ou des arcs de cercle.  |
| La règle    | • | • | sert à vérifier qu'un angle est un angle droit.   |
| Une équerre | • | • | sert à vérifier l'alignement de plusieurs points. |
| Le compas   | • | • | sert à tracer des segments et des droites.        |
|             | • | • | sert à comparer des longueurs.                    |
|             | • | • | sert à tracer des angles droits.                  |



## 2 Quel(s) instrument(s) doit-on utiliser ?

- Pour tracer un segment
- Pour vérifier si des droites sont perpendiculaires
- Pour tracer un cercle
- Pour tracer un carré
- Pour comparer des longueurs

## 3 Quels instruments doit-on utiliser pour tracer ces figures ?




figure 1

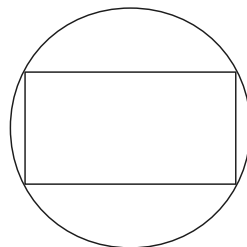


figure 2

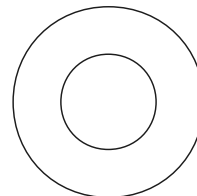


figure 3

Figure 1 : .....

Figure 2 : .....

Figure 3 : .....