

Prénom :

Date :

Les nombres de 1 à 99



1 Complète les cases grises des suites de nombres.

41					47								
		75									85		
	63							71					

2 Colorie les nombres identiques de la même couleur.

79

95

51

63

cinquante et un

soixante-dix-neuf

quatre-vingt-quinze

soixante-trois

3 Compare en utilisant les signes $<$, $>$ ou $=$

35	45	61	16	$30 + 1$	31
92	35	48	8	72	92
$10+9$	16	$20+3$	89	$24+5$	22
$3+5$	8	7	67	77	67

Prénom :

Date :

Les nombres de 1 à 99



1 Dictée de nombres.

2 Écris les nombres en chiffres.

trente-six

quatorze

soixante-douze

quatre-vingt-quatre

soixante-six

3 Écris les nombres en lettres.

11 :

77 :

46 :

99 :

35 :

4 Compare les nombres en utilisant les signes $<$, $>$ et $=$

77	60		
30+48	68	25	10+10+5
54	45	10+10+5+2	29
46	20+20+6		

Prénom :

Date :

Les nombres de 1 à 99



1 Complète le tableau.

45	
77	
	quatre-vingt onze
	quatre-vingt-cinq
57	
	soixante-huit

2 Range les nombres du plus petit au plus grand.

78 – 28 – 40 – 82 – 65 – 85 – 55 – 95

.....

3 Range les nombres du plus grand au plus petit.

18 – 74 – 83 – 64 – 99 – 46 – 69 – 9

.....

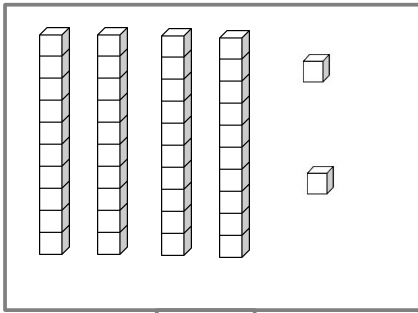
Prénom :

Date :

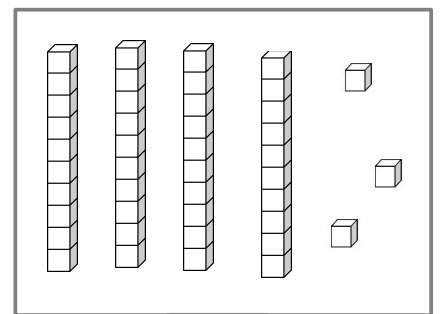
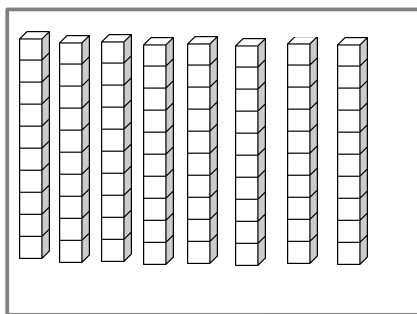
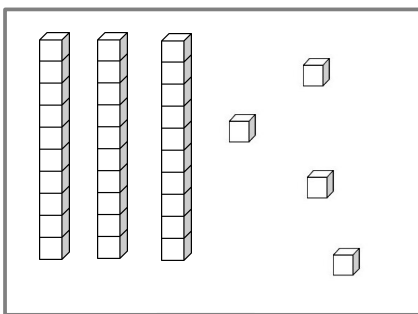
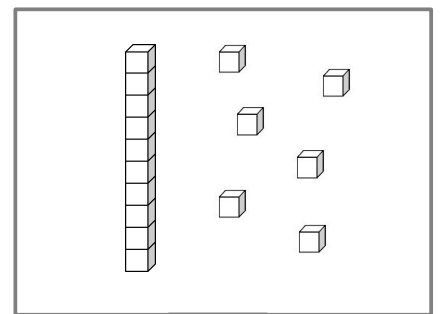
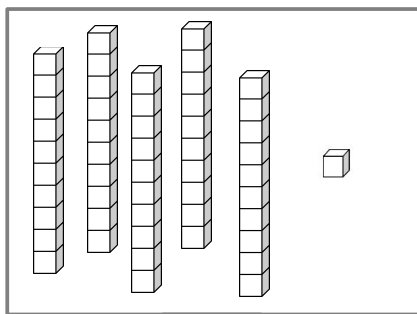
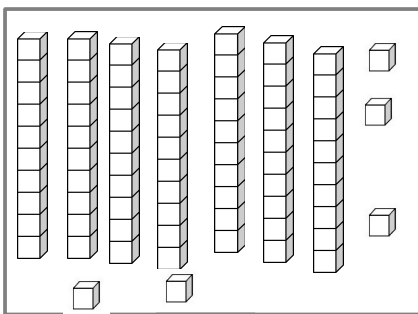
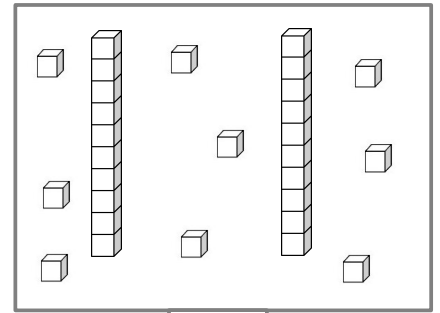
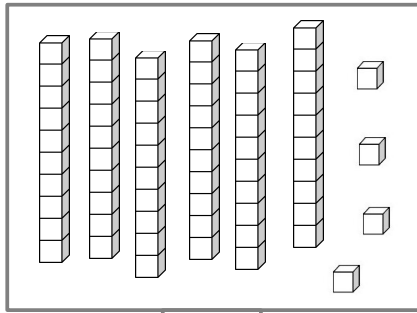
Les nombres de 1 à 99



1 Complète.



42



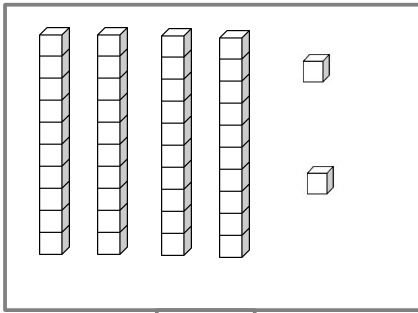
Prénom :

Date :

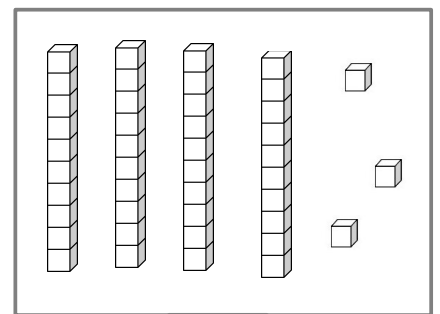
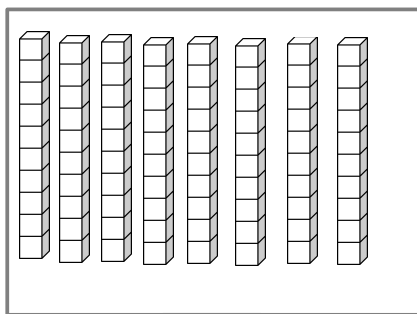
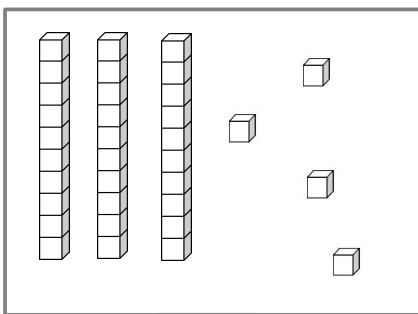
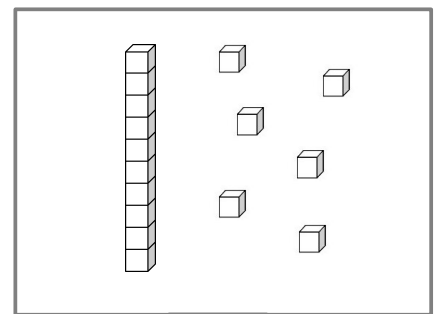
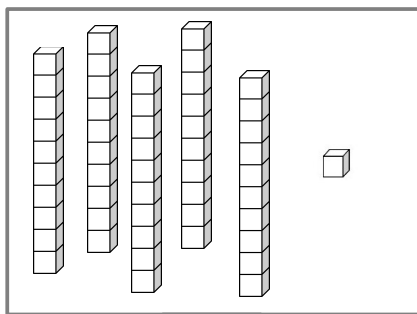
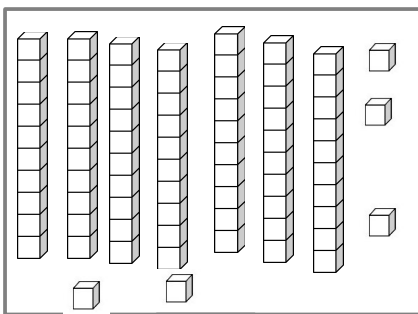
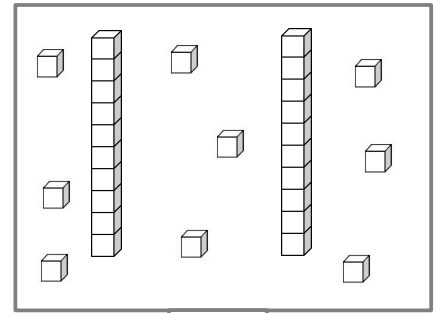
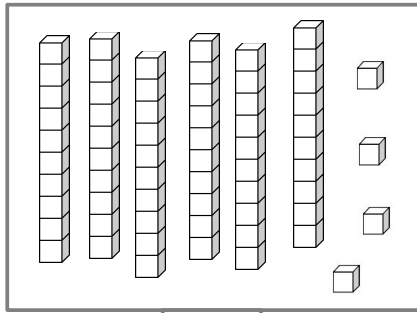
Les nombres de 1 à 99



1 Complète.



42



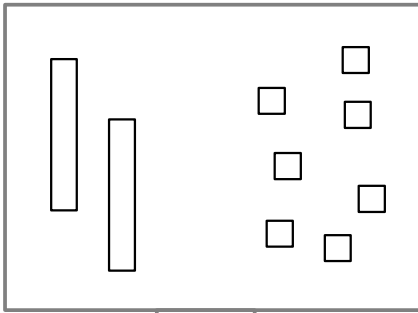
Prénom :

Date :

Les nombres de 1 à 99




1 Représente le nombre donné comme dans l'exemple .




27



93



60



45



74



51



82



59



32

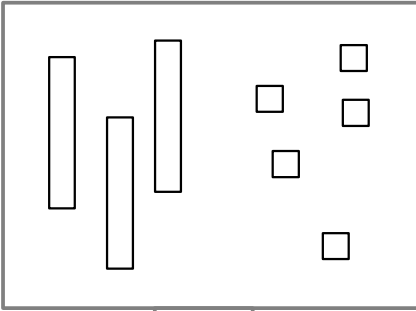
Prénom :

Date :

Les nombres de 1 à 99



1 Représente le nombre donné comme dans l'exemple.



35




72



56



91



48



29



64



37



83

Prénom :

Date :

Les nombres de 1 à 99



1 Décompose.

31 =	79 =
97 =	42 =
53 =	95 =
69 =	26 =
74 =	88 =

2 Complète le tableau.

.....	quatre-vingt-un
59
42	$10 + 10 + 10 + 10 + 2$
.....	soixante-sept
38	$10 + 10 + 10 + 8$
93
.....	$10 + 10 + 4$
75
.....	quatre-vingt-six
99

Prénom :

Date :

Les nombres de 1 à 99



1 Complète les tableaux.

54	5 dizaines et 4 unités
36
73
.....	6 dizaines et 5 unités
41	
.....	4 unités et 8 dizaines

.....	9 dizaines et 6 unités
81
.....	2 unités et 5 dizaines
68
.....	3 dizaines et 7 unités
79

2 Trouve le nombre mystère.

*Le nombre mystère est plus grand que 34
et plus petit que 49.
Son chiffre des unités est 2.
Qui est-il ?*



*Le nombre mystère est plus petit que 69.
La somme de ses chiffres est égale à 9 et
Le chiffre des unités est 3.
Qui est-il ?*