




## Additionner des nombres

Compétences	Évaluation
Je connais mes tables d'addition.	
Je sais calculer une somme en ligne.	
Je sais utiliser la technique opératoire de l'addition sans retenue.	

1 Écris le résultats des calculs.

a  b  c  d  e  f 

2 Calcule.

$30 + 20 =$

$40 + 50 =$

$10 + 60 =$

$60 + 30 =$

$41 + 26 =$

$35 + 34 =$

$17 + 62 =$

$56 + 41 =$

3 Pose et calcule.

$31 + 35 =$

$44 + 23 =$

$56 + 32 =$

$28 + 61 =$

Nom :

Date:

*Additionner des nombres*

Compétences	Évaluation
Je sais calculer une somme en ligne.	
Je sais utiliser la technique opératoire de l'addition sans retenue.	
Je sais utiliser la technique opératoire de l'addition avec retenue.	

**1** Calcule.

$29 + 34 =$

$53 + 44 =$

$72 + 15 =$

$38 + 52 =$

$45 + 36 =$

$21 + 50 =$

$37 + 53 =$

$56 + 24 =$

**2** Pose et calcule.

$215 + 221 =$

$307 + 52 =$

$259 + 128 =$

$326 + 154 =$

Nom :

Date: