

Thème 5. La Chine

Question obligatoire : La Chine depuis 1911 : de la fin de l'Empire du milieu à l'un des centres de la mondialisation (6 -7 heures)

Notions : Géopolitique, Impérialisme, Littoralisation, Maoïsme, Nationalisme, Puissance / Aire de puissance, Totalitarisme

On étudie la Chine à l'échelle d'un siècle en conjuguant les regards historique et géographique.

On conduit cette étude de plusieurs points de vue : territoire, population, volonté d'indépendance, recherche d'un régime politique, exploration des voies du développement.

À l'aube du XXIème siècle, la Chine est un acteur majeur du système mondial. Elle est confrontée à de nombreuses questions, relatives à l'organisation spatiale, au social, à la géopolitique - notamment à l'échelle de l'Asie orientale - et à l'environnement.

I. Les difficultés de la première moitié du XX° siècle

Après une longue période de désordres, comment le territoire chinois s'est-il unifié ?

Exercice 1. De la chute de la dynastie impériale à la proclamation de la République démocratique chinoise

Définition

Komintern : Internationale communiste fondée en 1919 sous l'influence de Lénine ; elle représente à l'échelle internationale la mouvance communiste alignée sur l'URSS

1. A l'aide du reportage complétez la chronologique suivante

Début XX° siècle	Les puissances impérialistes (Royaume-Uni, la Russie, le Japon, la France, l'Allemagne et la Belgique) se partagent l'empire de Chine ; celui-ci est en état de décomposition (voir carte 1 p. 206)
A partir de 1911	première révolution impulsée par le nationaliste Sun Yat-sen (biographie p. 207) et son part, le Guomindang (def p. 207) ; elle entraîne la chute de l'empire chinois et permet la proclamation d'une république. La Chine bascule dans l'anarchie et la guerre civile. Soutenu par le Komintern (voir définition ci-dessus) et par le parti communiste Chinois, Sun Yat-Sen entreprend de réunifier le pays.
1927	Tchang Kaï-chek (biographie p. 207), successeur de Sun Yat-sen se retourne contre ses alliés communistes et les fait massacrer.
1934	longue marche de retraite des communistes vers le Nord. Mao Zedong (biographie p. 207) s'impose comme le leader communiste chinois incontesté.
1937-1945	guerre sino-japonaise mettant un terme provisoire à la guerre civile (constitution d'un front uni). La Chine s'affirme comme une puissance incontournable en Asie et obtient à l'issue de la Seconde guerre un des cinq sièges de sécurité de l'ONU (<i>jusqu'en 1971 ce siège sera occupé par le représentant de la république de Chine –Taïwan- ; en 1971, la Chine populaire remplace la république de Chine</i>).
1945-1949	reprise de la guerre civile entre nationalistes et communistes ; effondrement progressif du régime de Tchang Kaï-chek.
1^{er} octobre 1949	Victorieux, Mao Zedong proclame la République populaire de Chine ; fuite des nationalistes sur l'île de Taïwan (République de Chine ou Taïwan)

Thème 5. La Chine

Question obligatoire : La Chine depuis 1911 : de la fin de l'Empire du milieu à l'un des centres de la mondialisation

I. Les difficultés de la première moitié du XX^e siècle

Après une longue période de désordres, comment le territoire chinois s'est-il unifié ?

Exercice 1. De la chute de la dynastie impériale à la proclamation de la République démocratique chinoise

Définition

Komintern : Internationale communiste fondée en 1919 sous l'influence de Lénine ; elle représente à l'échelle internationale la mouvance communiste alignée sur l'URSS

1. A l'aide du reportage complétez la chronologique suivante

Début XX^e siècle	
A partir de 1911	
1927	
1934	
1937-1945	
1945-1949	
1^{er} octobre 1949	

II. La Chine de Mao

Comment se déroule l'expérience maoïste de 1949 au milieu des années 70 ?

Exercice 1. Un développement autocentré (paragraphe 1 p. 209)

1. Quel choix stratégique fait dans un premier temps Mao (début des années 50) ? Comment cela se manifeste-t-il ? Quel choix stratégique fait Mao à partir de 1958 ? Comment cela se traduit-il ? Répondez en complétant le tableau ci-dessous

	Au début des années 50	A partir de 1958
Stratégie adoptée par Mao	Développement économique avec l'aide de l'URSS	Développement autocentré (def p. 209) , indépendamment de toute influence extérieure en s'appuyant sur les ressources de son territoire et les masses rurales
Manifestations de cette stratégie	Développement prioritaire de l'industrie lourde, collectivisation de l'agriculture	Politique du " Grand bond en avant " (1958-1961) censée développer à la fois l'agriculture et l'industrie mais c'est un échec.

Exercice 2. Un régime totalitaire (paragraphe 2 p. 209 et doc. 3 p. 208)

1. Relevez la définition de totalitarisme p. 209

2. Montrez en complétant le tableau ci-dessous renforce l'emprise de son régime sur la Chine

1949	Années 50	1966
Mise en place des principes du stalinisme : parti unique, dictature du prolétariat, encadrement de la société, répression des opposants	Lancement de campagnes de critique contre la bureaucratie du parti et les intellectuels entraînant un renforcement du pouvoir personnel	Lancement de la Révolution culturelle : la jeunesse fanatisée par Mao doit renverser la vieille société (parents, enseignants, dirigeants locaux) ; incontrôlable, la jeunesse est par la suite réprimée

Exercice 3. Un nouveau modèle de communisme pour le monde (paragraphe 3 p. 209 et doc. 3 p. 208)

1. Montrez en complétant le tableau suivant, comment la Chine souhaite s'affirmer comme une puissance

La Chine, chef de file des pays du Tiers-Monde	La Chine, deuxième pôle du communisme dans le monde	La fascination du maoïsme (def p. 209) en Occident
Participation à la conférence de Bandung en 1955 (conférence fondatrice du Tiers Monde : pays refusant la logique bipolaire et soutenant les mouvements d'indépendances)	Contestation de l'influence soviétique à partir de 1960. Proposition d'une voie chinoise pour accéder au communisme	Diffusion des idées de Mao dans la jeunesse intellectuelle occidentale. Succès du <i>Petit livre rouge</i> reprenant des extraits de discours de Mao (900 millions d'exemplaires)

II. La Chine de Mao

Comment se déroule l'expérience maoïste de 1949 au milieu des années 70 ?

Exercice 1. Un développement autocentré (paragraphe 1 p. 209)

1. Quel choix stratégique fait dans un premier temps Mao (début des années 50) ? Comment cela se manifeste-t-il ? Quel choix stratégique fait Mao à partir de 1958 ? Comment cela se traduit-il ? Répondez en complétant le tableau ci-dessous

	Au début des années 50	A partir de 1958
Stratégie adoptée par Mao		
Manifestations de cette stratégie		

Exercice 2. Un régime totalitaire (paragraphe 2 p. 209 et doc. 3 p. 208)

1. Relevez la définition de totalitarisme p. 209

2. Montrez en complétant le tableau ci-dessous renforce l'emprise de son régime sur la Chine

1949	Années 50	1966

Exercice 3. Un nouveau modèle de communisme pour le monde (paragraphe 3 p. 209 et doc. 3 p. 208)

1. Montrez en complétant le tableau suivant, comment la Chine souhaite s'affirmer comme une puissance

La Chine, chef de file des pays du Tiers-Monde	La Chine, deuxième pôle du communisme dans le monde	La fascination du maoïsme (def p. 209) en Occident

III. Vers l'affirmation d'une puissance majeure

Comment les successeurs de Mao ont-ils réussi à concilier capitalisme et communisme ? Dans quelle mesure ces réformes ont-elle permis à la Chine de devenir une grande puissance ?

Exercice 1. Un demi-siècle de révolutions économiques

a. L'échec de la voie maoïste de développement

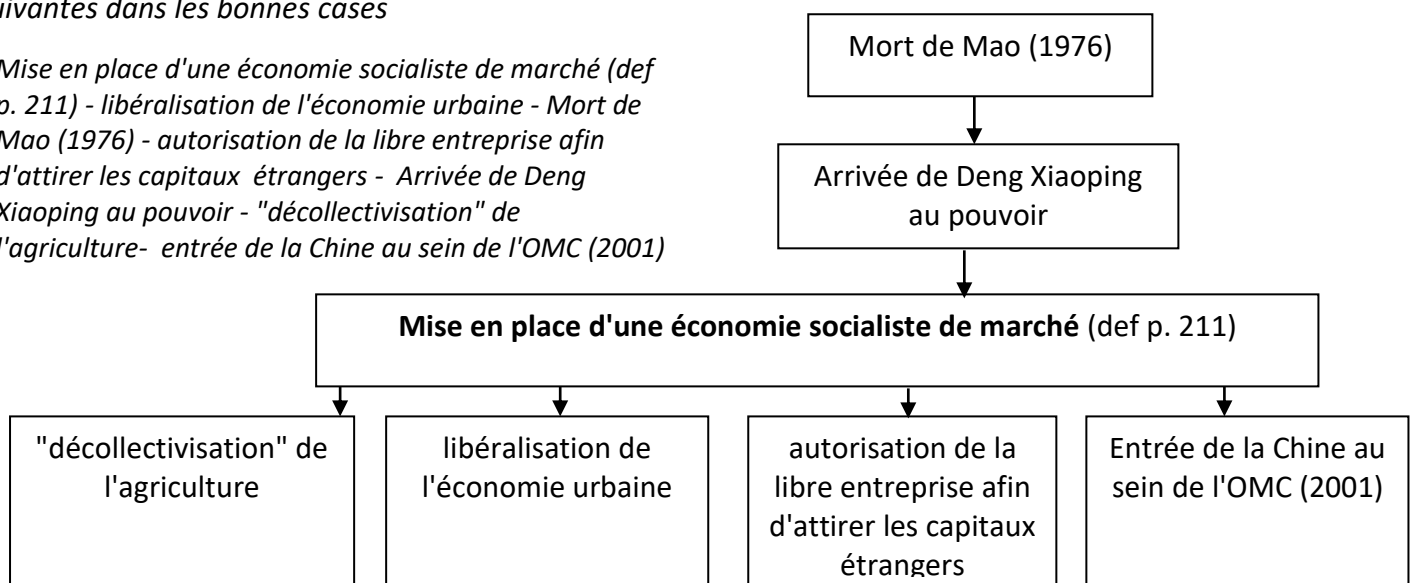
1. Après avoir lu le paragraphe 1 p. 211 indiquez quelles sont les conséquences économiques, humaines et politiques du socialisme à la chinoise prôné par Mao. Répondez en complétant le tableau ci-dessous

Un désastre économique	Un désastre humain	Un discrédit politique
La collectivisation de l'agriculture et l'industrialisation des campagnes désorganisent les structures économiques : effondrement de la production agricole et production d'un acier inutilisable	20 à 43 millions de personnes (essentiellement des ruraux) meurent de faim	Les idées de Mao sont discréditées ; ses partisans sont écartés du pouvoir au profit de dirigeants plus réalistes

b. Les réformes des successeurs de Mao

Après avoir lu le paragraphe 2 p. 211, complétez l'organigramme suivant en plaçant les expressions suivantes dans les bonnes cases

Mise en place d'une économie socialiste de marché (def p. 211) - libéralisation de l'économie urbaine - Mort de Mao (1976) - autorisation de la libre entreprise afin d'attirer les capitaux étrangers - Arrivée de Deng Xiaoping au pouvoir - "décollectivisation" de l'agriculture - entrée de la Chine au sein de l'OMC (2001)



c. Une ouverture progressive du territoire au capitalisme

Après avoir lu le paragraphe 3 p. 211, montrez les manifestations et les limites de l'ouverture du territoire chinois au capitalisme. Répondez en complétant le tableau suivant

Un régime qui reste autoritaire	Une ouverture progressive aux investissements étrangers	L'accentuation des inégalités spatiales
Une ouverture contrôlée par le régime / répression de toute forme de contestation (exemple : répression des manifestants de la place Tian'anmen en 1989)	Investissements autorisés en premier lieu dans les ZES (def p. 211), puis certaines villes littorales, les deltas, puis l'ensemble du territoire et enfin l'intérieur de la Chine	Renforcement du processus de littoralisation - def p. 211 - (aux dépens de l'arrière-pays). Restitution de Hong Kong par les Anglais en 1997

Exercice 2. Une nouvelle puissance majeure

a. Une émergence économique fulgurante

Après avoir lu le paragraphe 1 p. 213, montrez sur quoi repose le rapide essor économique de la Chine faisant d'elle la première **puissance (def p. 213)** économique mondiale. Répondez en complétant le tableau ci-dessous.

Un pays atelier qui attire les capitaux	Un pays émergent capable de concurrencer les pays développés
Des progrès qui reposent sur une explosion des échanges et un fort excédent commercial Une attractivité pour les IDE forte en raison de la présence d'une main d'œuvre nombreuse, peu coûteuse et disciplinée (ex : usines d'assemblage des téléphones mobiles).	Epargne importante permettant à la Chine d'investir dans des secteurs de pointe et d'innover (trains à grande vitesse, avions gros porteur, téléphonie, automobile...) et de prêter des capitaux à travers le monde

b. Une grande puissance en Asie

Après avoir lu le paragraphe 2 p. 213, montrez comment la Chine entend affirmer au sein de l'air de puissance asiatique (def p. 213). Répondez en complétant le tableau ci-dessous.

S'affirmer comme une puissance militaire	Jouer un rôle de premier plan en Asie et dans le Pacifique	Défendre ses intérêts économiques
Investir dans une marine moderne et de nouvelles armes : porte-avions, missiles anti-porte avions	Concurrencer le Japon Récupérer Taiwan Régler des conflits frontaliers qui l'opposent à ses voisins Assoir son autorité sur son territoire (Tibet, Xinjiang)	Participation à des coopérations régionales avec les pays de l'ASEAN

c. Une influence mondiale grandissante

Après avoir lu le paragraphe 3 p. 213, montrez comment la Chine entend s'affirmer comme une puissance mondiale. Répondez en complétant le tableau ci-dessous.

Une puissance désormais incontournable de la communauté internationale	Une puissance économique et financière au service de ses ambitions politiques	Une puissance qui suscite des inquiétudes
Membre du conseil de sécurité de l'ONU Intervention croissante dans des opérations de maintien de paix Relations d'aide et de coopération avec des PVD d'Afrique et d'Amérique latine	Créancier des Etats-Unis Marché énorme potentiel pour les entreprises étrangères qui permet à la Chine de peser sur la diplomatie des pays riches	Des ambitions nationalistes (def p 213) et volonté de redevenir une grande nation qui pèse sur le destin du monde

III. Vers l'affirmation d'une puissance majeure

Comment les successeurs de Mao ont-ils réussi à concilier capitalisme et communisme ? Dans quelle mesure ces réformes ont-elle permis à la Chine de devenir une grande puissance ?

Exercice 1. Un demi-siècle de révolutions économiques

a. L'échec de la voie maoïste de développement

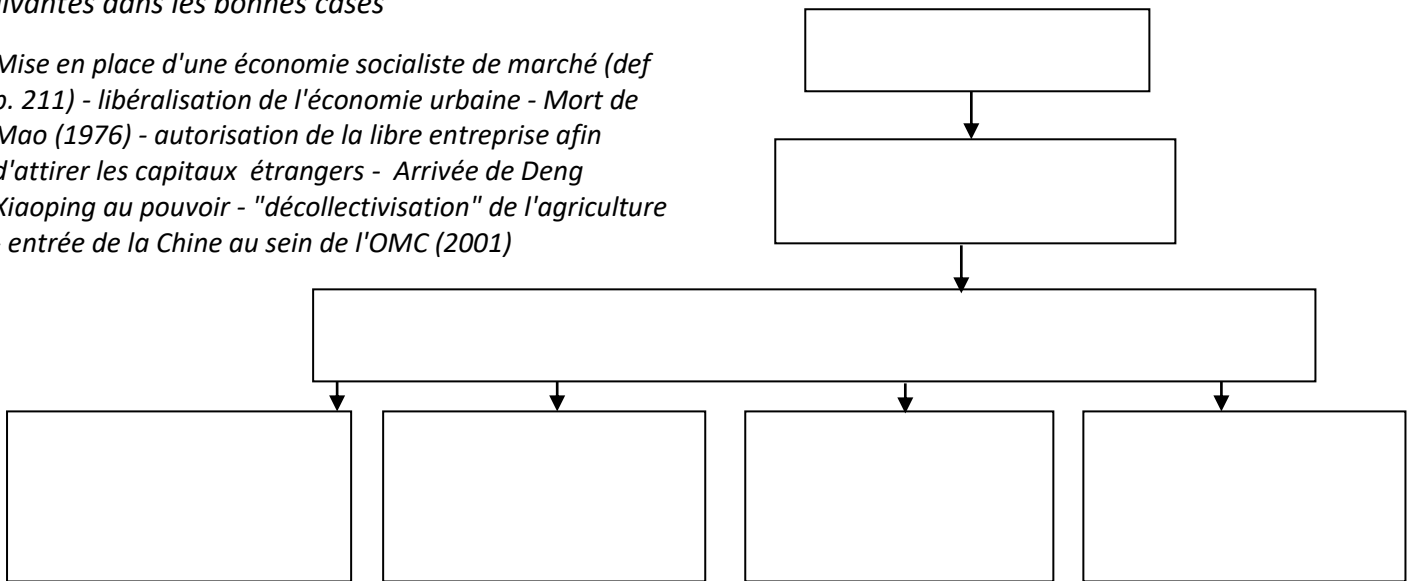
1. Après avoir lu le paragraphe 1 p. 211 indiquez quelles sont les conséquences économiques, humaines et politiques du socialisme à la chinoise prôné par Mao. Répondez en complétant le tableau ci-dessous

Un désastre économique	Un désastre humain	Un discrédit politique

b. Les réformes des successeurs de Mao

Après avoir lu le paragraphe 2 p. 211, complétez l'organigramme suivant en plaçant les expressions suivantes dans les bonnes cases

Mise en place d'une économie socialiste de marché (def p. 211) - libéralisation de l'économie urbaine - Mort de Mao (1976) - autorisation de la libre entreprise afin d'attirer les capitaux étrangers - Arrivée de Deng Xiaoping au pouvoir - "décollectivisation" de l'agriculture - entrée de la Chine au sein de l'OMC (2001)



c. Une ouverture progressive du territoire au capitalisme

Après lu le paragraphe 3 p. 211, montrez les manifestations et les limites de l'ouverture du territoire chinois au capitalisme. Répondez en complétant le tableau suivant

Un régime qui reste autoritaire	Une ouverture progressive aux investissements étrangers	L'accentuation des inégalités spatiales

Exercice 2. Une nouvelle puissance majeure

a. Une émergence économique fulgurante

Après avoir lu le paragraphe 1 p. 213, montrez sur quoi repose le rapide essor économique de la Chine faisant d'elle la première **puissance (def p. 213)** économique mondiale. Répondez en complétant le tableau ci-dessous.

Un pays atelier qui attire les capitaux	Un pays émergent capable de concurrencer les pays développés

b. Une grande puissance en Asie

Après avoir lu le paragraphe 2 p. 213, montrez comment la Chine entend affirmer au sein de l'air de puissance asiatique (def p. 213). Répondez en complétant le tableau ci-dessous.

S'affirmer comme une puissance militaire	Jouer un rôle de premier plan en Asie et dans le Pacifique	Défendre ses intérêts économiques

c. Une influence mondiale grandissante

Après avoir lu le paragraphe 3 p. 213, montrez comment la Chine entend s'affirmer comme une puissance mondiale. Répondez en complétant le tableau ci-dessous.

Une puissance désormais incontournable de la communauté internationale	Une puissance économique et financière au service de ses ambitions politiques	Une puissance qui suscite des inquiétudes

IV. Une société aux multiples fractures qui doit relever des défis colossaux

La réussite économique de la Chine profite-t-elle à tous les Chinois ? Quels grands défis doit-elle résoudre ?

Exercice 1. Une société aux multiples fractures

a. Une population plurielle

Après avoir lu le paragraphe 1 p. 215, montrez que les **1.37 milliard de Chinois** se caractérisent par leur diversité. Montrez que le pouvoir central tente d'étouffer les revendications des minorités. Répondez en complétant le tableau ci-dessous.

La Chine : une mosaïque de peuples aux origines et traditions multiples	La volonté du pouvoir central d'étouffer les revendications
Migration des Han (def p. 215) en direction de l'intérieur encouragée par le pouvoir et à l'origine de réactions autonomistes de la part des peuples traditionnels (Tibétains, Ouïgour du Xinjiang)	- Répression des revendications par une présence militaire forte - politique de développement économique pour rallier les minorités ethniques (def p. 215) au pouvoir

b. Des inégalités croissantes

Après avoir lu le paragraphe 2 p. 215, montrez que l'essor économique de la Chine s'accompagne d'inégalités croissantes. Répondez en complétant le tableau ci-dessous.

Un développement qui profite aux classes moyennes du littoral	Une opposition intérieur-littoral	Une opposition ville-campagne
Classes moyennes accédant à la société de consommation et dont les valeurs se rapprochent des standards occidentaux	Retards de développement de l'intérieur moins ouvert aux IDE. Multiplication des tensions sociales.	Migration de ruraux vers les grandes cités mais contrôle administratif (sous la forme d'un livret familial) des déplacements maintenant dans des conditions sociales difficiles (vivier de main d'œuvre bon marché)

c. Une volonté d'harmonisation

Après avoir lu le paragraphe 3 p. 215, montrez comment la Chine tente de lutter contre ces disparités sociales et spatiales (def p. 215). Répondez en complétant le tableau ci-dessous.

" Le concept de "la société harmonieuse"	Une vaste politique de développement de l'intérieur	Des mesures en faveur des ruraux
Défini par Hu Jintao en 2003 , ce concept a pour objectif de réduire les disparités sociales et spatiales. Au pouvoir depuis 2013, le président Xi Jinping poursuit cette politique.	Réalisation de grands projets d'aménagement : construction du barrage des Trois Gorges dont un des objectifs était de produire de l'électricité.	Assouplissement du contrôle des déplacements et allègement des impôts.

Exercice 2. Des défis colossaux à relever pour le futur

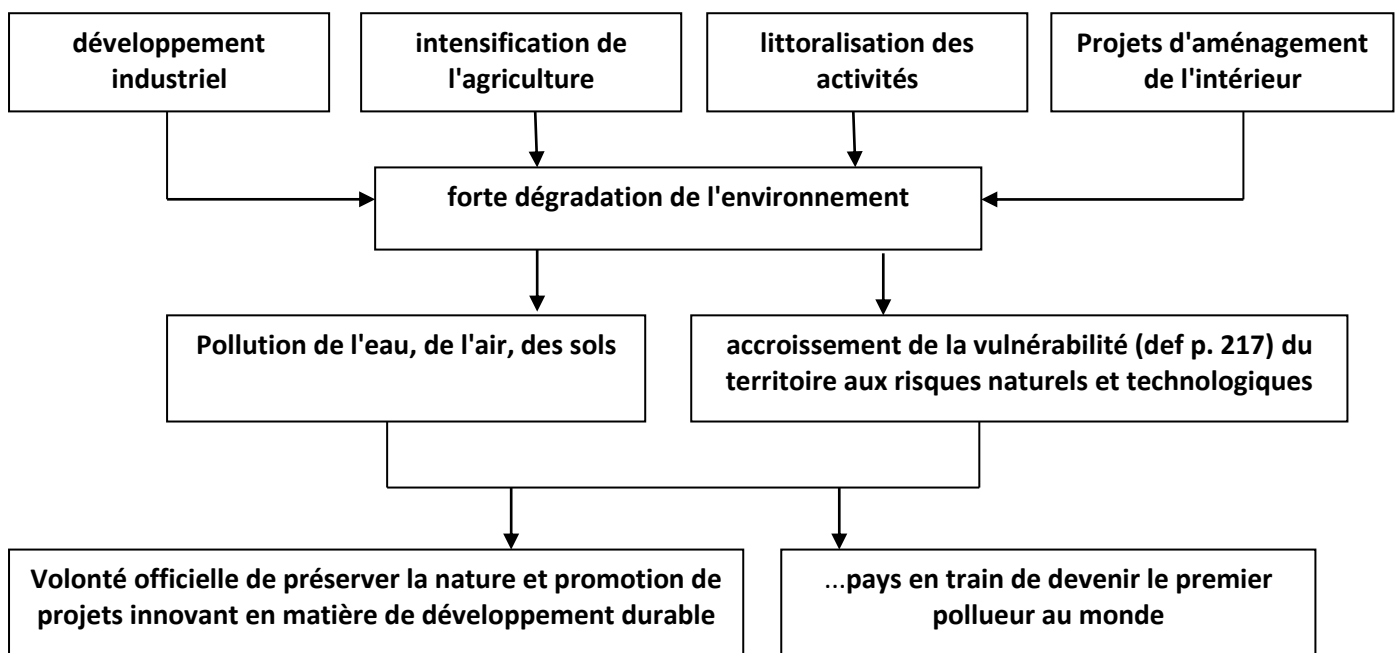
a. Satisfaire les besoins croissants en ressources naturelles

Après avoir lu le paragraphe 1 p. 217, montrez que le développement économique de la Chine se traduit par une augmentation importantes de ses besoins en ressources naturelles. Répondez en complétant le tableau ci-dessous.

Le recours indispensable aux importations de matières premières	Satisfaire les besoins alimentaires d'une population croissante aux nouvelles habitudes de consommation
Importation de matières premières (hydrocarbures) malgré les importantes réserves de charbon et minerais dans le sous-sol chinois	- Importations de produits alimentaires - location de terres arables (def p. 217) à l'étranger pour augmenter le potentiel agricole et pallier le manque d'eau qui affecte les cultures irriguées.

b. Se développer durablement

Après avoir lu le paragraphe 2 p. 217, montrez quelles sont les conséquences écologiques du développement économique de la Chine et les solutions qui sont apportées. Répondez en complétant l'organigramme ci-dessous (placez les expressions suivantes dans les bonnes cases)



c. Faire accepter le modèle chinois ?

Après avoir lu le paragraphe 3 p. 217, montrez comment se définit le modèle chinois et comment ce pays tente de le faire accepter sur la scène mondiale. Répondez en complétant le tableau ci-dessous

Renforcer son image de grande nation responsable	Un régime autoritaire et répressif	Un pays qui assume son modèle aux yeux du monde
Participation à des conférences internationales sur le changement climatique ou partenaire de la communauté internationale	Répression et contrôle étroit de la société. Emprisonnement des opposants politiques dans des <i>laogai</i> (camps de "rééducation")	Un modèle associant autoritarisme politique et développement économique

IV. Une société aux multiples fractures qui doit relever des défis colossaux

La réussite économique de la Chine profite-t-elle à tous les Chinois ? Quels grands défis doit-elle résoudre ?

Exercice 1. Une société aux multiples fractures

a. Une population plurielle

Après avoir lu le paragraphe 1 p. 215, montrez que les **1.37 milliard de Chinois** se caractérisent par leur diversité. Montrez que le pouvoir central tente d'étouffer les revendications des minorités. Répondez en complétant le tableau ci-dessous.

La Chine : une mosaïque de peuples aux origines et traditions multiples	La volonté du pouvoir central d'étouffer les revendications

b. Des inégalités croissantes

Après avoir lu le paragraphe 2 p. 215, montrez que l'essor économique de la Chine s'accompagne d'inégalités croissantes. Répondez en complétant le tableau ci-dessous.

Un développement qui profite aux classes moyennes du littoral	Une opposition intérieur-littoral	Une opposition ville-campagne

c. Une volonté d'harmonisation

Après avoir lu le paragraphe 3 p. 215, montrez comment la Chine tente de lutter contre ces disparités sociales et spatiales (def p. 215). Répondez en complétant le tableau ci-dessous.

" Le concept de "la société harmonieuse"	Une vaste politique de développement de l'intérieur	Des mesures en faveur des ruraux

Exercice 2. Des défis colossaux à relever pour le futur

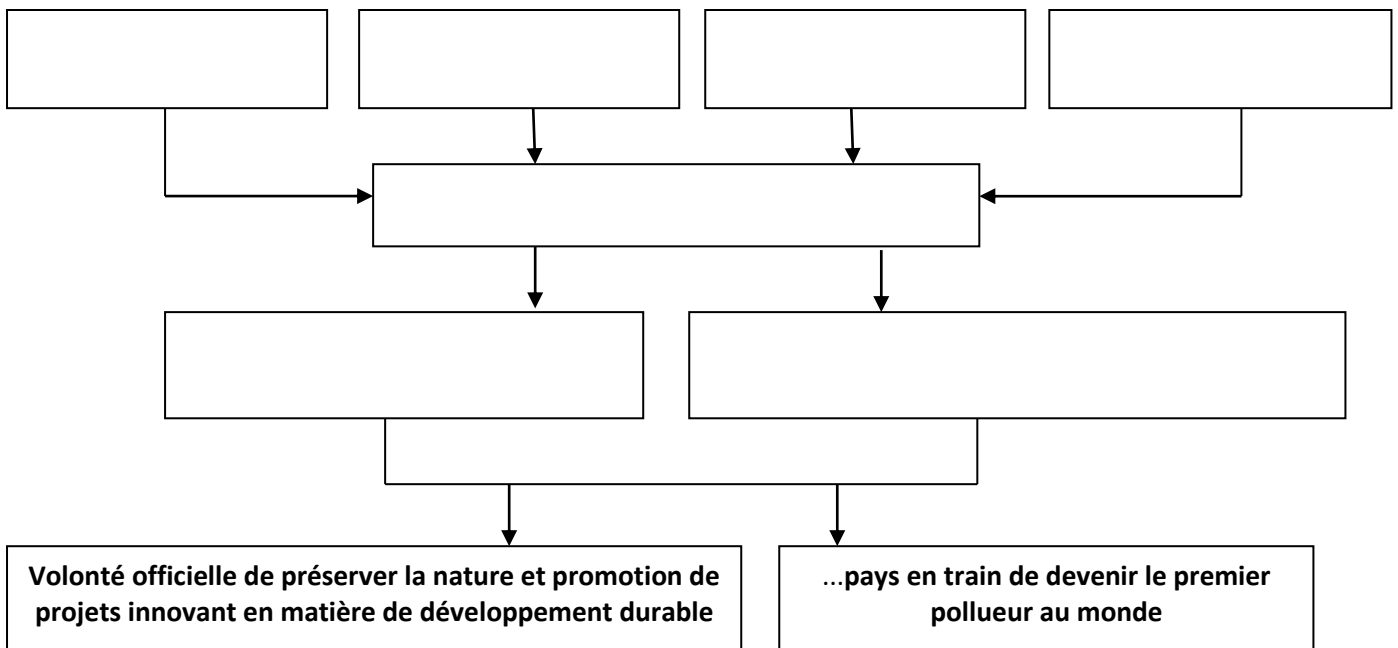
a. Satisfaire les besoins croissants en ressources naturelles

Après avoir lu le paragraphe 1 p. 217, montrez que le développement économique de la Chine se traduit par une augmentation importantes de ses besoins en ressources naturelles. Répondez en complétant le tableau ci-dessous.

Le recours indispensable aux importations de matières premières	Satisfaire les besoins alimentaires d'une population croissante aux nouvelles habitudes de consommation

b. Se développer durablement

Après avoir lu le paragraphe 2 p. 217, montrez quelles sont les conséquences écologiques du développement économique de la Chine et les solutions qui sont apportées. Répondez en complétant l'organigramme ci-dessous (placez les expressions suivantes dans les bonnes cases) : développement industriel - forte dégradation de l'environnement - intensification de l'agriculture - Pollution de l'eau, de l'air, des sols - littoralisation des activités - accroissement de la vulnérabilité (def p. 217) du territoire aux risques naturels et technologiques - Projets d'aménagement de l'intérieur



c. Faire accepter le modèle chinois ?

Après avoir lu le paragraphe 3 p. 217, montrez comment se définit le modèle chinois et comment ce pays tente de le faire accepter sur la scène mondiale. Répondez en complétant le tableau ci-dessous

Renforcer son image de grande nation responsable	Un régime autoritaire et répressif	Un pays qui assume son modèle aux yeux du monde

