

Sujet :

Mouvements de population, urbanisation, métropolisation

Compétences mises en jeu :

Identifier et localiser : nommer et localiser un lieu dans un espace géographique

Organiser et synthétiser des informations : savoir réaliser un croquis et sa légende

Exercice 1. Analyser le sujet et réaliser la légende

1. Lire le sujet et le délimiter thématiquement et géographiquement : entourez les mots importants composant le sujet ci-dessus et définissez-les.

2. En vous aidant du cours, vous classerez les informations suivantes dans trois catégories différentes : choisissez un code couleur pour chacune des catégories et surlignez les informations s'y rapportant :

Aire urbaine et régions marquée par une croissance nulle ou négative, Aires urbaines secondaires (villes moyennes), Principaux flux interrégionaux, Paris capitale macrocéphale (12 millions d'habitants), Renforcement des mobilités intra-urbaines, phénomène de périurbanisation important, Aire urbaine confrontée un fort phénomène de ségrégation spatiale, Aire urbaine et régions marquées par une croissance faible, Un réseau urbain transfrontalier en construction, Grande aire urbaine (de 800 000 à 2 millions d'habitants), Aire urbaine et régions excédentaires marquée par une croissance positive forte, Aire urbaine renforçant ses fonctions métropolitaines, Mobilité pendulaire entre aires urbaines à l'origine de « grappes de villes »

3. Donnez un titre à chacune de vos parties ; les titres doivent apporter une réponse au sujet. Reportez de manière cohérente ces informations en légende.

4. Attribuez un figuré cartographique à chacune de ces informations.

Exercice 2. Réfléchir à des seuils cartographiques

1. Classez à l'aide du tableau ci-dessous les aires urbaines en 3 groupes selon leurs poids démographique en 2008. Justifiez votre choix (se limiter aux 25 premières)

2. Classez à l'aide du tableau-ci-dessous les aires urbaines en 3 groupes selon leur croissance démographique. Justifiez votre choix (se limiter aux 25 premières)

Exercice 3. Réaliser le croquis

A partir du travail réalisé en exercices 1 et 2, réalisez le croquis sans oublier de nommer les éléments importants sur le fond de carte et de soigner votre travail.

(Attention : supprimer sur le fond certaines villes et en ajouter d'autres)

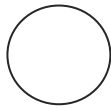


Les 30 premières aires urbaines métropolitaines en 2008

Rang en 2008	Rang en 1999		Population au 1er janvier 2008	Population au 1er janvier 1999	Évolution annuelle moyenne 2008/1999 (en %)
1	1	Paris	12 089 098	11 354 897	0,7
2	2	Lyon	2 118 132	1 947 120	0,9
3	3	Marseille - Aix-en-Provence	1 715 096	1 599 717	0,8
4	5	Toulouse	1 202 889	1 021 530	1,8
5	4	Lille	1 150 530	1 131 194	0,2
6	7	Bordeaux	1 105 257	1 000 666	1,1
7	6	Nice	1 005 230	936 774	0,8
8	8	Nantes	854 807	777 121	1,1
9	9	Strasbourg	757 609	715 720	0,6
10	12	Grenoble	664 832	631 416	0,6
11	14	Rennes	654 478	577 405	1,4
12	13	Rouen	649 291	633 924	0,3
13	10	Toulon	607 050	566 519	0,8
14	11	Douai - Lens	544 143	551 547	-0,2
15	15	Montpellier	536 592	474 999	1,4
16	28	Avignon	507 626	464 994	1,0
17	25	Saint-Étienne	506 655	501 919	0,1
18	19	Tours	473 226	443 847	0,7
19	16	Clermont-Ferrand	459 250	435 176	0,6
20	17	Nancy	434 202	425 682	0,2
21	22	Orléans	415 471	395 417	0,6
22	21	Caen	396 959	378 086	0,5
23	24	Angers	392 940	372 529	0,6
24	18	Metz	389 603	379 840	0,3
25	23	Dijon	371 798	358 181	0,4
26	20	Valenciennes	366 781	366 445	0,0
27	33	Béthune	365 513	359 970	0,2
28	30	Le Mans	338 404	321 203	0,6
29	29	Reims	313 818	310 715	0,1
30	26	Brest	311 735	304 838	0,2





Champ : aires urbaines de France métropolitaine dans la délimitation de 2010.

Source : Insee, RP1999 et RP2008 exploitations principales.

1. Un réseau urbain encore largement dominé par Paris




-  Paris, capitale macrocéphale (12 millions d'habitants)
-  Grande aire urbaine (de 800 000 à 2 millions d'habitants)
-  Aires urbaines secondaires (villes moyennes)

2. Une France en mouvement : une croissance qui profite aux métropoles périphériques



-  Aire urbaine et régions marquée par une croissance nulle ou négative
-  Aire urbaine et régions marquées par une croissance faible.
-  Aire urbaine et régions excédentaires, croissance forte positif.
-  Principaux flux interrégionaux.

3. Les aires urbaines : des territoires en recomposition.

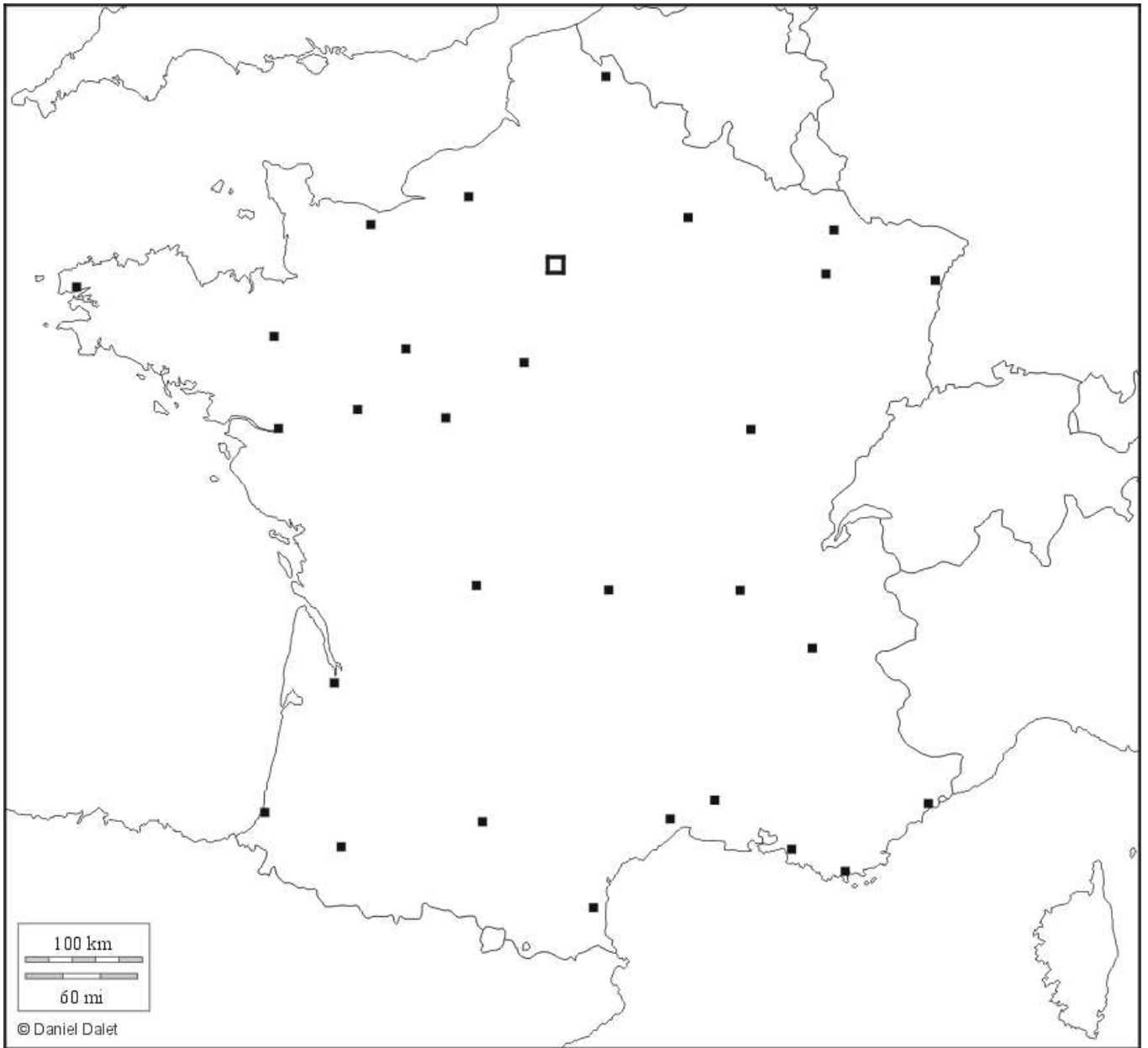
a. A l'échelle urbaine

-  Aire urbaine renforçant ses fonctions métropolitaines
-  Aire urbaine confrontée un fort phénomène de ségrégation spatiale
-  Renforcement des mobilités intra-urbaines, phénomène de périurbanisation important

b. A l'échelle interurbaine

-  Mobilité pendulaire entre aires urbaines à l'origine de « grappes de villes »
-  Un réseau urbain transfrontalier en construction

Ne faire apparaître que les principales villes sur le fond de carte



Pour vous aider à faire le croquis ci-dessus, vous pouvez vous aider des cartes ci dessous

CROQUIS : MOUVEMENTS DE POPULATION ET CROISSANCE URBAINE

