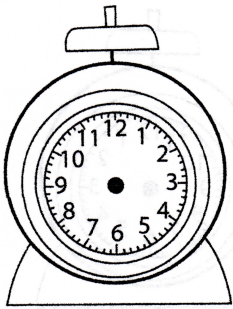
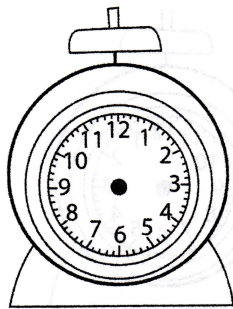


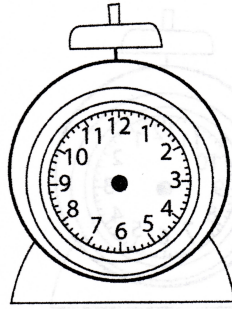
Desenha os ponteiros de acordo com as horas.



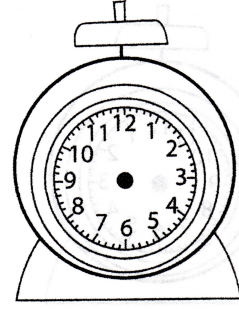
sete horas



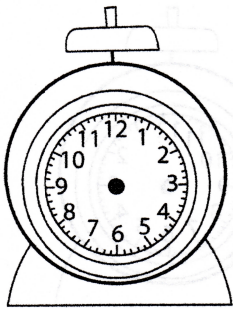
meio-dia



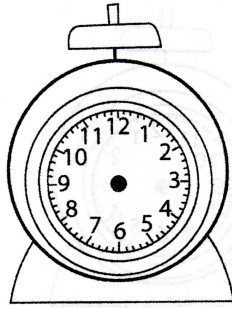
uma e um quarto



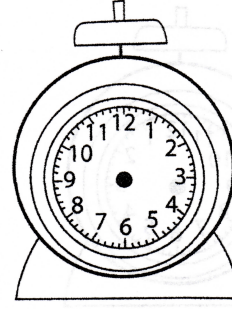
três e meia



meia-noite



dez para as cinco



um quarto para as nove

Relaciona as perguntas com as respostas.

Perguntas

Respostas

- | | |
|---|---|
| <ol style="list-style-type: none"> 1. Que horas são, por favor? 2. É uma hora? 3. Desculpe, são duas e um quarto? 4. O senhor, pode dizer-me as horas? 5. São dez horas? 6. A que horas estás em casa? 7. Hoje à tarde, a que horas almoças? 8. Tens inglês às 9 horas? 9. Vocês têm Educação Física, de manhã às onze e meia? 10. Estás em casa às cinco da tarde? 11. A que horas é que tens educação musical? 12. A que horas tens o intervalo do almoço? 13. A que horas tens formação cívica à segunda-feira? 14. A que horas tens Matemática? | <ol style="list-style-type: none"> a) Tenho. b) São três e um quarto. c) Às seis horas! d) É, sim! e) Não, não temos. Temos aula à tarde. f) Sim, são. g) Tenho ao meio dia e meia. h) Com certeza! São dez e dez. i) Hoje não tenho matemática. Tenho amanhã às dez da manhã. j) Não, ainda não são. Faltam dez minutos. l) Estou depois do almoço, por volta das três. m) À uma hora e trinta. n) Ao meio-dia. o) Entre as dez e as onze. |
|---|---|