

Corrections du vendredi 5 juin

Grammaire

(CCL : complément circonstanciel de lieu

CCT : complément circonstanciel de temps

CCM : complément circonstanciel de manière)

Tous les jours, il lit quelques pages.

CCT GS V

Léo aime passionnément les bandes dessinées.

GS V CCM

Sur le terrain municipal, mon frère suit l'entraînement de foot le lundi soir.

CCL

GS

V

CCT

Les enfants jouent bruyamment dans la cour de récréation.

GS

V

CCM

CCL

L'accord des adjectifs qualificatifs

1°) Accorde au singulier ou au pluriel.

des matchs amicaux → un match amical

des jeux dangereux → un jeu dangereux

une idée originale → des idées originales

un meuble bancal → des meubles bancals

un beau bracelet → de beaux bracelets

2°) Complète avec les noms suivants.

une journée - des maisons - des animaux - un voyage - le jardin

- un voyage long mais riche en aventures
- des animaux très agiles et joueurs
- une journée pluvieuse
- le jardin public
- des maisons inhabitées

3°) Accorde les adjectifs qualificatifs.

1. Cette chaîne produit des émissions passionnantes.
2. Ce site propose des lectures instructives.
3. Une lampe verte est allumée sur la table.
4. Des sportifs musclés combattent sur le ring.
5. Des salades vertes sont posées sur l'étal.
6. Je ne sais pas travailler avec une règle cassée.
7. Tu as reçu deux nouveaux livres.
8. Des sports exigeants apportent beaucoup de concentration.
9. Des serveuses pressées manient avec dextérité les plateaux.

L'accord des adjectifs qualificatifs

1°) Accorde les adjectifs qualificatifs entre parenthèses.

Les deux jolies chanteuses bretonnes sont accompagnées par des musiciens espagnols. Les premières chansons, vives et entraînantes, déchaînent les bravos du public. La suite du concert est plus mélodieuse, avec des airs empruntés aux musiques traditionnelles.

2°) Récris les phrases en remplaçant le nom souligné par le nom placé entre parenthèses. N'oublie pas d'accorder les autres mots du groupe nominal.

Attention à l'accord du verbe avec le groupe-sujet qui peut aussi être modifié.

- Sur la mer, le petit bateau lutte contre le vent. (barques)

Sur la mer, **les petites barques luttent** contre le vent.

- Je prête ma bicyclette neuve. (vélo)

Je prête **mon vélo neuf**.

- Mes grands-parents nous envoient parfois des cartes postales. (colis)

Mes grands-parents nous envoient parfois **des colis postaux** (ou un colis postal)

- Papy fait pousser de belles grosses fraises rouges. (fruits)

Papy fait pousser de **beaux gros fruits rouges**.

3°) Complète avec l'adjectif qualificatif attribut qui convient (sans en changer l'orthographe) : vide, ravis, élevées, charmante

- Cette dame paraît **charmante**.
- Les enfants semblent **ravis**.
- Ce vase est **vide**.
- Les températures restent **élevées**.

Les synonymes

**1°) Recopie chaque phrase en remplaçant le mot « place » par l'un des synonymes suivants :
disposition - endroit - espace - emploi - classement**

Ce chômeur a perdu sa place il y a 3 mois.

son emploi

Je ne m'habitue pas à la place des meubles.

la disposition

Dans ce parc, il y a beaucoup de places.

d'espace

Roxane a obtenu une bonne place à la course.

un bon classement

Tu as toujours vu ce banc à la même place.

au même endroit

2°) Remplace les mots soulignés par des synonymes.

Ce bijoutier vend de superbes colliers.

magnifiques / beaux / jolis

Les livres et les 2 CD font 59 euros.

coûtent / valent

Il était huit heures quand le feu s'est déclaré.

l'incendie

Ma cousine est toujours gaie.

joyeuse

Juliette engloutit un gros morceau de gâteau.

avale / énorme

La Tour Eiffel fait 324 mètres de haut.

mesure

Cet enseignant est très gentil.

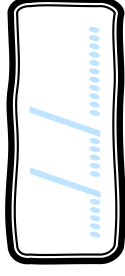

ce professeur

La porte est close.

fermée

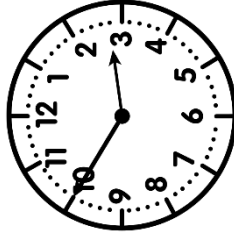
l'heure

CMI

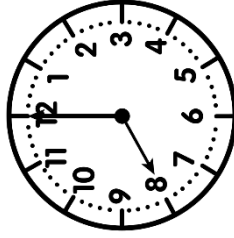


PRÉNOT :

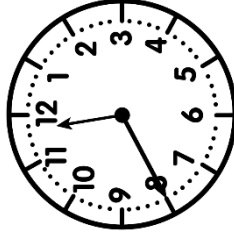
① Écris l'heure sous chaque horloge.



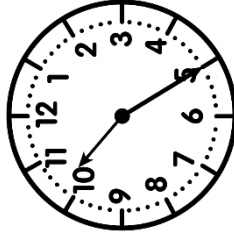
2h50



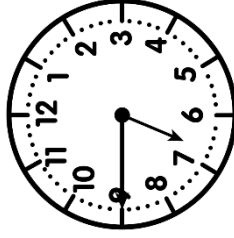
8h00



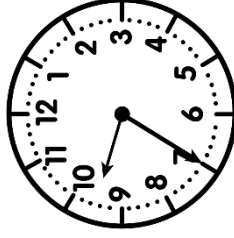
11h40



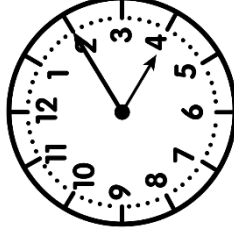
10h25




6h45



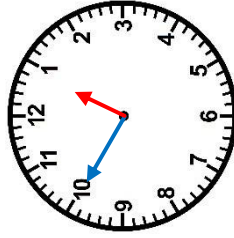
9h35



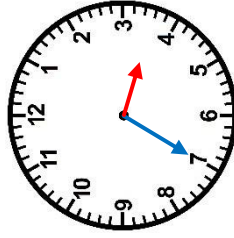
4h10



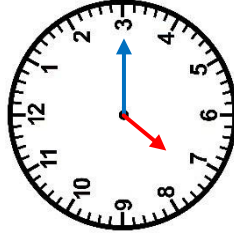
② Trace les aiguilles (rouge pour les heures, bleue pour les minutes).



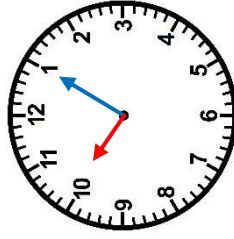
12 h 50



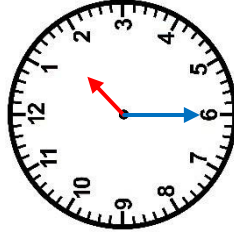
15 h 35



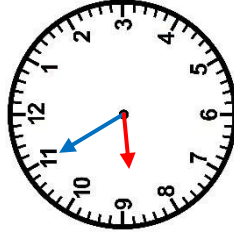
19 h 15



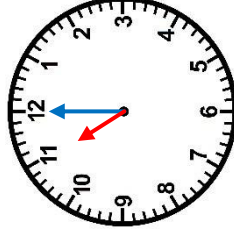
10 h 05




1 h 30



8 h 55



23 h 00



③ Complete ces égalités.

a) $2\text{h}06\text{ min} + 54\text{ min} = 3\text{h}$

b) $9\text{h}53\text{ min} + 7\text{ min} = 10\text{h}$

c) $15\text{h}45\text{ min} + 15\text{ min} = 16\text{h}$

d) $20\text{h}18\text{ min} + 42\text{ min} = 21\text{h}$

e) $22\text{h}30\text{ min} + 30\text{ min} = 23\text{h}$

f) $6\text{h}32\text{ min} + 28\text{ min} = 7\text{h}$

g) $17\text{h}15\text{ min} + 45\text{ min} = 18\text{h}$

k) $8\text{h}48\text{ min} + 12\text{ min} = 9\text{h}$

Measures / l'heure

<https://laclassebleue.fr/>

Heure et durées

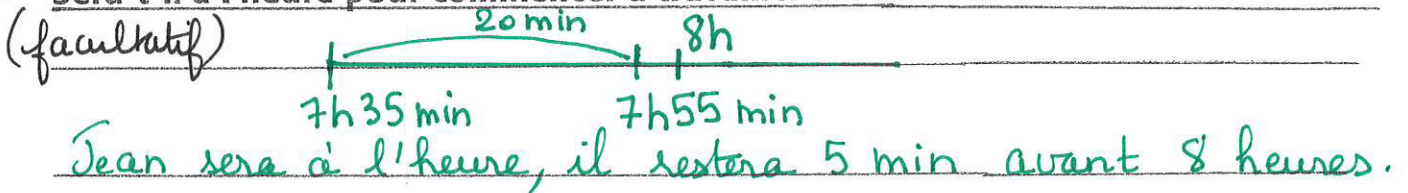
1) Convertis les durées dans les unités demandées.

- 2 jours = **48** heures
- 5 jours = **120** heures
- 72 heures = **3** jours
- 3 minutes = **180** secondes
- 70 secondes = **1** minute **10** secondes
- 1 heure = **60** minutes
- 1 heure et demie = **90** minutes
- 1 heure et quart = **75** minutes
- 3 heures 32 minutes = **212** minutes
- 2 heures et demie = **150** minutes

2) Complète avec l'unité de mesure qui convient. (s, min, h, jour)

- La durée d'une récréation: 15 **min**
- Le temps de vol Paris - Saint-Denis de la Réunion: 11 **h**
- Le temps du record du monde du 100 m hommes à la course à pied: entre 9 et 10 **s**
- Le temps de cuisson du riz: 11 **min**
- La durée d'une publicité à la télévision: 10 **s**
- Le temps de la traversée de l'Atlantique en cargo: 23 **jours**

3) Jean part de chez lui à 7 h 35 min. Son trajet dure en moyenne 20 minutes. Sera-t-il à l'heure pour commencer à travailler sur son lieu de travail à 8 heures?



4) Complète.

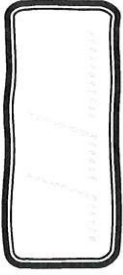

- a. 2 h 30 + **30** min = 3 h
- 1 min 45 s + **15** s = 2 min
- 4 h 15 min + **45** min = 5 h
- 72 h + **48** h = 5 jours
- b. 4 jours = **96** h
- 3 h = **180** min
- 5 min = **300** s
- $\frac{1}{2}$ siècle = **50** ans

5) Relie.

- | | |
|-------------------------------------|-------------|
| durée de cuisson d'un œuf coque | 8 heures |
| durée de cuisson d'un poulet | 30 secondes |
| durée d'une journée de travail | 3 minutes |
| durée d'un feu rouge à un carrefour | 15 minutes |
| durée d'une récréation | 1 heure |



Géométrie

CMI



① Coche la bonne réponse.

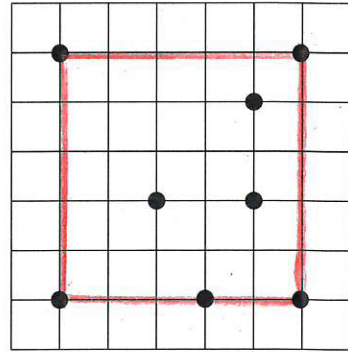

Gare aux intrus!



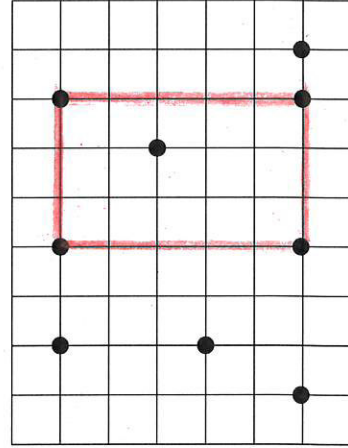
<https://aclassoblieue.fr/>

carré	rectangle	losange
BLEU	VERT	JAUUNE
parallélogramme quelconque		
ROUGE		

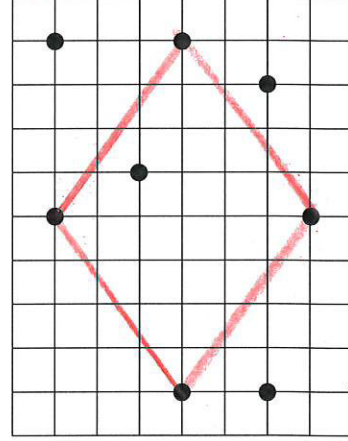
② Relie quatre points pour obtenir les parallélogrammes demandés.



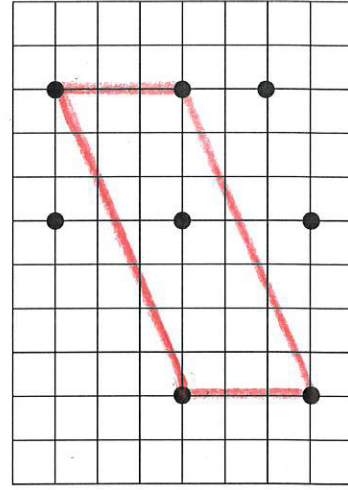
un carré



un rectangle



un losange



un parallélogramme quelconque