

Chapitre 4

L'Asie du Sud et de l'Est : les enjeux de la croissance (96)

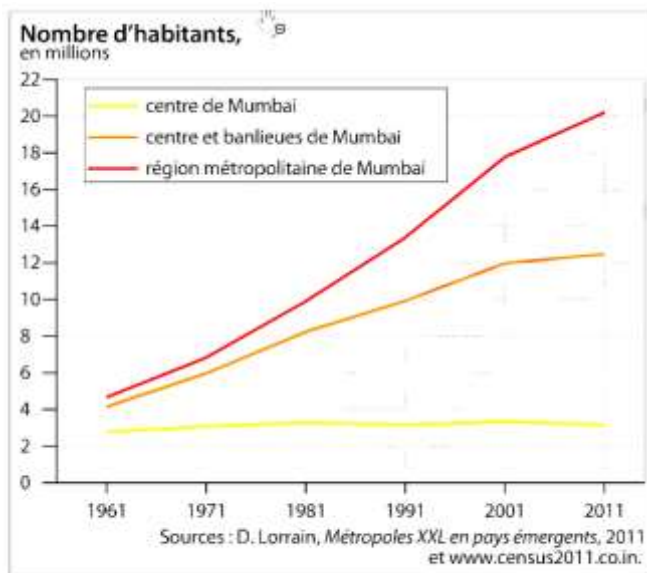
L'Asie du Sud et de l'Est : les enjeux de la croissance

Mumbai : modernité, inégalités (étude de cas).

L'Asie du Sud et de l'Est : les défis de la population et de la croissance.

- Japon - Chine : concurrences régionales, ambitions mondiales.

1 - Étude de cas - Mumbai : modernité, inégalités



4 Évolution de la population de Mumbai depuis 1961

Carte d'identité de la ville :

. Localisation

. Agglomération de plus de 20 M millions d'habitants = une MEGAPOLE

Distinguer Mumbai City : presque 13 M

De région métropolitaine : plus de 20 M soit l'une des plus peuplées au monde.

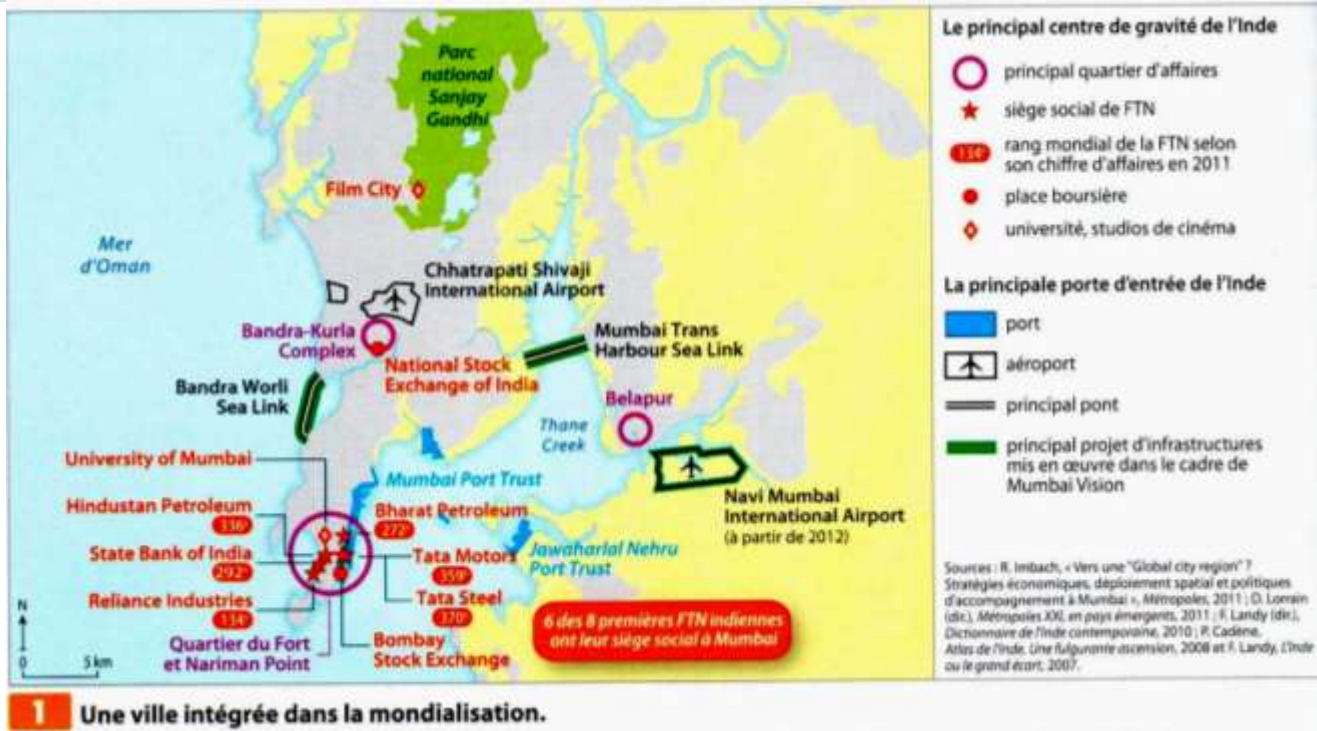
(graphique Hachette, p. 324) ou [stats Nathan, page 296](#)

Stagnation de la population du centre, mais explosion dans les banlieues et nouveaux centres (x 3) et surtout région métropolitaine (x 5).

Problématique : En quoi le cas de Mumbai est-il révélateur à la fois du dynamisme économique de l'Asie du Sud et de l'Est et des profondes inégalités qui affectent cet espace ?

= En quoi Mumbai est-elle la vitrine de de l'Inde, pays émergent ?

1.1. Comment Mumbai contribue-t-elle à la croissance économique de l'Inde et à son intégration dans la mondialisation ?



Hachette, terminale ES/L, 2012.

+ Document 2, 3, page 296 – Une forte concentration de sièges sociaux. La capitale économique de l'Inde.

Consigne : Montrer que Mumbai constitue le centre d'une économie indienne intégrée à la mondialisation.

• Capitale de l'économie indienne

. + Gde mégapole du pays en forte croissance. Métropolisation...

. Un CBD ancien au Sud de la presqu'île (saturé), triplé par deux nouveaux CBD (BKC et Belapur) : plus forte concentration de sièges d'entreprises en Inde > 2500 dans tous les domaines, en particulier dans les services = une ville polycentrique. On y trouve 6 des 8 1^{ères} FTN indiennes dans le domaine de l'énergie (Bharat Petroleum, Hindustan Petroleum), l'industrie (Tata Motors & Steel, Reliance [chimie, pétrochimie]), BSE au 10^{ème} rg mondial

. Principal centre de production de richesses en Inde : 5 % du PIB national

- Industrie : chimie et pharmacie (Reliance), taille et exportations du diamant, électronique et logiciels
- Services : fonctions bancaires et financières (FTN State Bank of India = banque centrale) et siège du Bombay Stock Exchange
- Culture : universités + Rayonnement culturel par les studios de Bollywood

• Intégration à la mondialisation par l'ouverture internationale

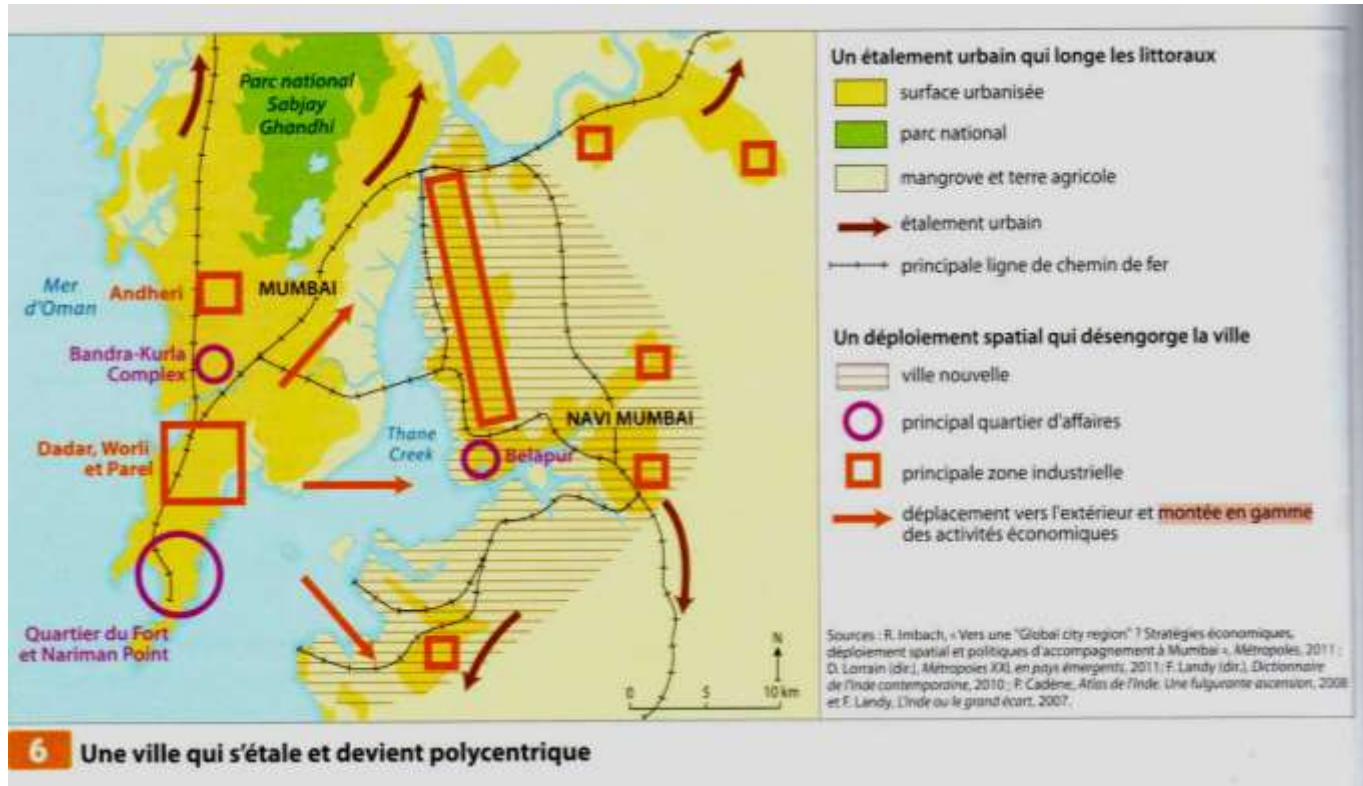
. Infrastructures : ponts, port (dt à conteneurs au 25^{ème} rg mondial), 2 aéroports internationaux dont le nouveau de Navi Mumbai

Conclusion : Centre de l'économie indienne au rayonnement mondial.

1.2. Comment l'organisation de l'espace urbain traduit-elle ce statut ?

Doc. 6 Hachette ci-dessous + . 4, 6, et 8 pages 296-297

Consigne : Relevez sur les documents, les éléments de réponse à la question du titre.



- . Très forte attractivité : traditionnel exode rural, mais attire aussi les élites du pays, retour de la diaspora indienne,
- . Ville avec une forte expansion vers le Nord et l'Est avec construction de villes nouvelles comme Navi Mumbai → périurbanisation et ville polycentrique.
- . Congestion / engorgement total des transports (12 M. de passagers/jour dans les transports en commun).
 - ⇒ Déconcentration des activités vers la périphérie de la ville. Grand projet de modernisation par exemple « Mumbai vision » pour attirer les entreprises étrangères.
- . Activités industrielles sur la rive est avec montée en gamme
- . Construction d'un 2^{ème} aéroport international à Navi Mumbai
- . Développement de quartiers d'affaires modernes :
 - comme Bandra Kurla Complex, aménagé depuis les années 80 : grands hôtels, consulats, banque centrale et Bourse, Mall
 - Dvpt de transports (autoroutes surélevées, passerelles aériennes)

Conclusion = Expansion urbaine, volonté de modernité

- ⇒ Ville polycentrique
- ⇒ mais se heurte à de graves problèmes : débordée par sa population et engorgement

1.3. Le frein des contrastes socio-spatiaux et des problèmes environnementaux

Doc. 11, page 299 – Plan de Mumbai

Ville des forts contrastes sociaux.

- Près de 60 % de la population vit dans les slums (bidonvilles).

Le + connu et le + vaste est celui de Dharavi, popularisé par le film de Danny Boyle « Slumdog millionnaire » : 2,5 km², à moins d'un Km du BKC, 700 000 hab.

Des projets de réhabilitation : destruction et relogement dans des apparts de 21 m² donc verticalisation.

Mais gros doute : cela ne concerne que les proprios (300 000), donc ... et les autres ?

De + : forte économie informelle de 500 M. € → comment la recréer dans des immeubles.

Ces populations sont confrontées bien sûr à la pauvreté, mais problèmes d'hygiène (réseau d'eau et assainissement, ramassage des ordures) : seulement 20 % des habitants ont accès à l'eau potable, pèse sur la scolarisation et encourage les mafias.

- **Gentrification du centre-ville** à la pointe sud de la ville :

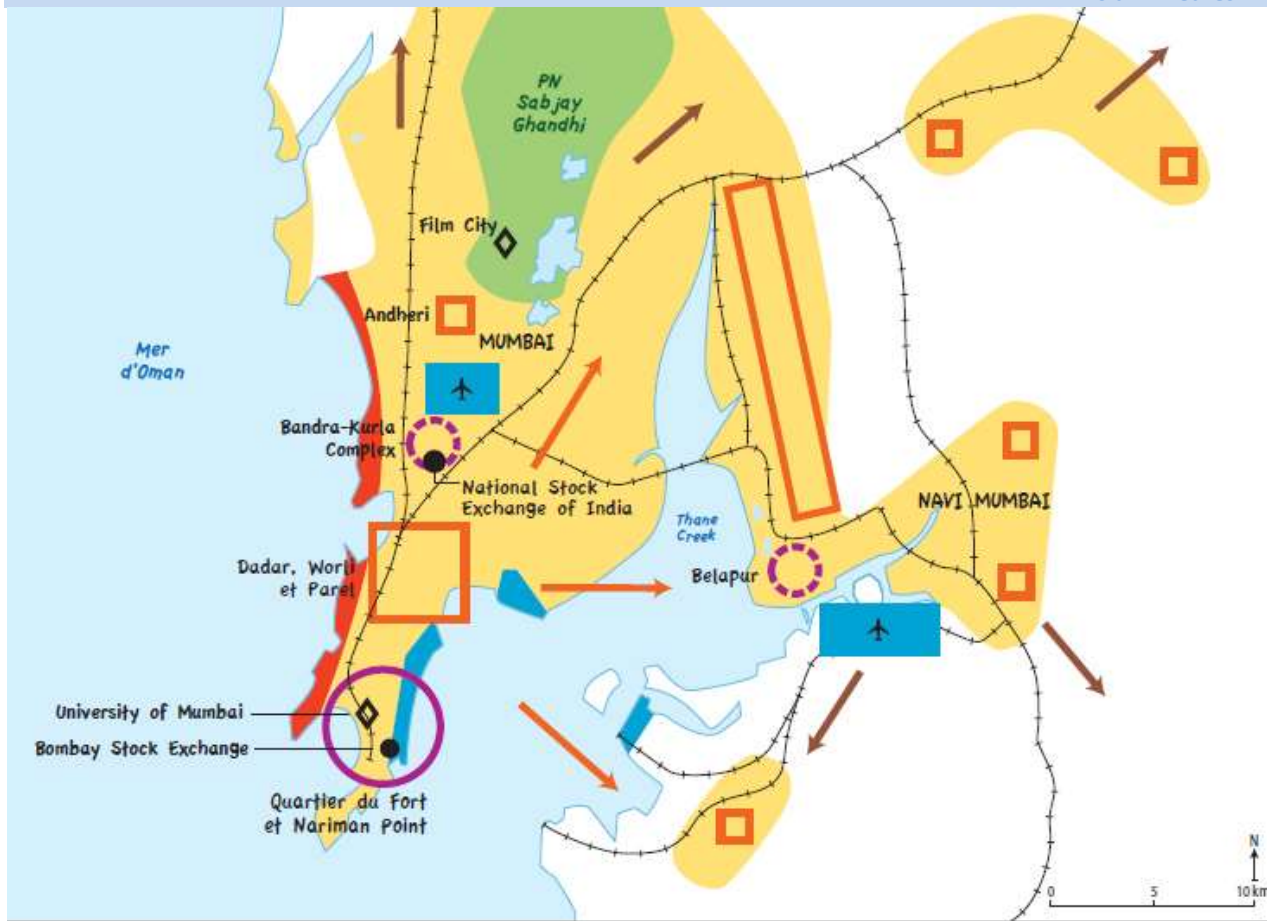
Quartier de Tardeo : tour Antilia de 27 étages (résidence privée de la famille Ambani qui dirige Reliance, 1^{ère} fortune du pays, ont 600 domestiques), tour résidentielles de luxe comme les jumelles de l'Imperial Towers...

. + graves problèmes de violence et d'insécurité dus aux contrastes socio-spatiaux, mais aussi aux frictions ethniques (hindous/musulmans : série d'attentats en 2008)

Conclusion : Très forts contrastes sociaux spatiaux. Emergence cependant d'une classe moyenne. Mais frein au développement.

Conclusion de l'étude de cas

Ville de modernité, mégapole puissante à toutes les échelles. Mais ville-modèle de pays émergent car des freins importants au dvpt .



Une métropole moderne intégrée dans la mondialisation	Une métropole émergente qui s'étale et devient polycentrique	Une métropole émergente marquée par des problèmes sociaux et environnementaux
quartier d'affaires	étalement urbain	habitat aisé
université, studios de cinéma	nouveau quartier d'affaires	habitat des classes moyennes et habitat informel
place boursière	zone industrielle	parc national miné par le braconnage et la pression urbaine
port, aéroport	déplacement vers l'extérieur et montée en gamme des activités	
	voie ferrée	

Introduction

- . Localiser l'espace étudié.
- . Utiliser atlas, pages 344 – **La population mondiale en 2012** - + : **Croissance du PIB annuel** de 2008 à 2012, source : Banque mondiale_et_3. Page 346- **Population et développement**

Consigne : A partir des documents, montrer l'intérêt de l'étude de cette région du monde. Faire émerger la problématique.

Problématique générale : Asie du Sud et de l'Est :

- **concentre la majeure partie de la population mondiale** avec plus de 3,5 milliards d'habitants.
- la partie du monde qui connaît actuellement **la plus forte croissance économique**, cette croissance, initialement centrée sur l'Asie de l'Est, s'étant également diffusée à la partie méridionale du continent.
- également le continent qui compte aujourd'hui **le plus de personnes pauvres**, soulignant ainsi que son essor économique ne permet pas, pour l'instant, de répondre complètement aux besoins de sa très nombreuse population.

⇒ **Le principal foyer de population, qui connaît la plus forte croissance économique, mais un espace toujours en quête de développement...**

II – L'Asie du Sud et de l'Est : les défis de la population et de la croissance

Rappeler localisation géographique : Doc. 1, page 302 – les grands ensemble géographiques

Rappeler intro :

- o Foyer de peuplement majeur sur la planète
- o Aire qui connaît aujourd'hui la plus forte croissance éco
- o De grands contrastes sociaux : espace de pauvreté avec IDH contrastés.

= Essor économique ne permet pas, pour l'instant, de répondre complètement aux besoins de sa population (ni à la durabilité, économies = grosses consommatrices d'énergie et de matières premières)

⇒ **Problématique** :

Comment mettre en œuvre des solutions pour transformer la croissance économique en développement durable répondant à l'ensemble des besoins de la population ?

La croissance démographique est-elle un potentiel ou un frein pour l'essor économique des pays asiatiques ? Comment mettre la croissance économique de cet espace au service de son développement ?

II. 1. Les défis du nombre

- **Les foyers de peuplement de la planète, aux dynamiques contrastées**

🗺 **Carte 2, page 303** – Les densités de population

→ Montrez que l'Asie est un espace fortement peuplé avec des dynamiques contrastées.

- 3.7 Mds d'hab = plus de la 60 % de la population mondiale.
- deux géants démographiques, Etats-continent : la Chine (1.381 Mds) et l'Inde (1.331 Mds)

L'évolution démographique de toute l'Asie dépend fortement de celle de ces deux pays :

→ Prévisions démographiques :

- Croissance lente en Chine : devrait se stabiliser autour de 2025
- Inde : dépassera la Chine vers 2015 et continuera de croître jusqu'en 2060.

→ Mais avec des densités inégales :

. De très fortes densités dans les plaines alluviales et les deltas, sur le littoral chinois (Java : 136 millions d'habitants et densité de 1064 habitants/km²).

. De gigantesques régions urbanisées (mégapole japonaise).

. Mais de très faibles densités dans les régions montagneuses (plateau du Tibet) ou de forêt équatoriale (Bornéo, déforestation néanmoins en cours avec le dpt de la monoculture du palmier à huile).

⇒ *Schématiser. Contrastées –*

• Une urbanisation rapide et massive :

🔗 Dossier pages 306-307 – Une aire continentale en voie d'urbanisation

Avec l'Afrique, une des régions du monde les moins urbanisées (< 50 %), mais projections de l'ONU annonce un taux d'urbanisation de 65% en 2050.

🔗 Doc. 3 p.306- Graphique, 60 ans de croissance urbaine –

L'Asie connaît une croissance spectaculaire depuis les années 1950. On parle de transition urbaine : taux d'urbanisation x 7 (monde x 4)

🔗 Carte 1 p.306 - Villes et urbanisation en Asie + définition p.304).

. *Décrire + Chercher des éléments d'explication : carte 1 p.306 et du doc.2 p.306*

. *Quels problèmes sont générés par cette forte croissance urbaine (Doc. 1, 5 et 6).*

. Description :

La Corée du Sud, la Malaisie, le Japon sont très urbanisés, à plus de 65%.

L'Inde, le SRI Lanka, le Népal ou le Cambodge sont encore ruraux, signe d'un retard de développement.

Et la Chine ? Elle est majoritairement urbaine depuis 2011.

Explosion urbaine due à l'exode rural et le solde naturel des villes (proportion de jeunes en âge de procréer important).

Comment expliquer l'exode rural ? Une natalité forte, progrès de la mécanisation en campagne, recherche de meilleures conditions de vie en ville, les guerres, les décisions politiques radicales comme en Chine.

. Une croissance urbaine en mégapoles (carte 1 p.306 + définition p.301).

15 sur les 30 premières mégapoles du monde.

Tokyo : 34,3 millions d'habitants. / Guangzhou : 25...

Séoul : 24,6... / Delhi : 24,1... / Mumbai : 23,5...

L'Asie émergente compte aussi des métropoles mondiales comme Shanghai ou émergentes comme Mumbai (voir l'étude de cas), l'Asie développée une ville monde avec Tokyo et des métropoles mondiales comme Singapour, Hong-Kong.

Carte atlas p.352 et savoir localiser Tokyo, Séoul, Mumbai, Manille, Bangkok, Delhi, Djakarta, Shanghai, Osaka-Kobé-Kyoto, Calcutta, Dacca, Beijing, Hong Kong, Nagoya, Singapour.

⇒ Importants problèmes générés par cette forte croissance urbaine

- Importants contrastes socio-spatiaux :

· forte pauvreté concentrée dans les villes

· Société de l'entre-soi : « gated communities »

Problèmes d'infrastructures : logement, réseaux, services aux populations, transports...

- Importants problèmes environnementaux : pollution air, eau, accès à l'hygiène (gestion des déchets, égouts..)....

• Les disparités importantes de la croissance démographique -

🌀 Document Hâtier, page 315 – La transition démographique en Asie

Tous les pays ont achevé ou sont en cours de transition démographique.

- Etats développés à très faible croissance démographique : Japon, Dragons. Transition démographique totalement achevée.

- Etat à faible croissance démographique, ayant conduit une politique antinataliste autoritaire :

Exemple : politique antinataliste de « l'enfant unique » en Chine à partir de 1979, inégalement appliquée cependant (un 2^{ème} enfant à la campagne à partir de 1984).

Actuellement fécondité de 1.78, en-dessous du seuil de renouvellement des générations.

Des effets pervers manifestes (sur-masculinité), au point que le gouvernement chinois encourage certaines familles privilégiées en milieu urbain à concevoir un deuxième enfant et la législation s'assouplit.

- Etat ayant conduit une politique antinataliste plus ou moins efficace et coercitive mais où la croissance reste moyenne, du fait d'une population très jeune, comme l'Inde et la politique antinataliste d'Indira Gandhi dès 1975, autoritaire entre 1975 et 1977, puis incitative avec le planning familial. L'Inde dont la population continuera de croître jusqu'en 2060 ravira le premier rang mondial à la Chine.

= fin de la 2^{ème} phase de la transition démographique.

• La croissance démographique est-elle un frein au développement ? -

- Pourquoi des politiques antinatalistes ? Certains pays ont considéré la population comme un frein au développement : autant de bouches à nourrir, d'emplois à procurer.
- Mais la croissance démographique peut aussi être perçue comme un moteur de croissance : un marché, une main d'œuvre à salaire faible.

Noter la forte corrélation entre le niveau d'éducation des femmes et la fécondité : ainsi le Kerala, où 80 % des femmes sont alphabétisées possède le taux de fécondité le plus bas.

- Des déséquilibres : exemple pyramide des âges de la Chine (Doc.2 p.305)

Constat du très fort déséquilibre sex-ratio : choix des parents (infanticide féminin ou avortement sélectif après échographie ; surmortalité féminine liée au manque de soins) qui est lié à un héritage culturel (les garçons s'occupent de leurs parents, de la perpétuation du patrimoine et du patronyme alors que les filles passent sous l'autorité de leur belle-famille).

. A une moindre échelle, le problème existe aussi dans d'autres pays asiatiques, surtout en Corée du Sud et dans certaines régions indiennes (carte 3 p.305 - le déficit des femmes en Inde).

. Le déficit féminin en Asie est estimé à plus de 100 millions...L'Asie est le seul continent avec l'Océanie qui compte davantage d'hommes que de femmes = « les femmes manquantes » : il naît pour 100 F, 118 H en Chine, 107 en Inde..., touche aussi fortement la Corée, le Vietnam.

- Le vieillissement : exemple du Japon + (Doc.2 p.305 pour la Chine)

Forte baisse de la fécondité (1,2 en 2011) et allongement de l'espérance de vie (80 pour les hommes, 86 pour les femmes) .

Car bcp de foyers comprennent parents et enfants parfois mariés, ou un enfant retourne vivre chez ses parents pour s'occuper d'eux...

→ les plus de 65 ans représentent 25 % de la population

→ diminution de la population active, recours nécessaire à l'immigration, y compris qualifiée : travailleurs pakistanais, indiens, bangladais, indonésiens ou philippins.

→ question du financement des retraites + moindre dynamisme économique.

Vieillesse qui touche aussi la Chine où près de 15 % de la pop. A + de 60 ans, or pas de retraites décentes, et niveau de vie insuffisant des enfants pour s'en occuper.

Conclusion : Défi du nombre, couplé à une urbanisation « galopante », mais aussi de profonds déséquilibres et aggravation des problèmes sociaux et environnementaux.

Quel lien avec la croissance économique ? Comment la croissance économique peut-elle assurer le développement pour l'ensemble des populations, de manière durable ?

II. 2. Une émergence économique spectaculaire

→ Prévisions

- **Des économies extraverties calquées sur le modèle japonais.**

La diffusion de la croissance en Asie du Sud et de l'Est.

1950-1970	Japon	Des Nord : IDH et PIB/habitant très élevés
1970-1980	4 Dragons (définition p.310) ou NPIA-1: Corée du Sud, Hongkong, Singapour, Taïwan	
1980-1990	Tigres ou NPIA-2 : Malaisie, Indonésie, Philippines, Thaïlande	Des Sud qui émergent : forte croissance, IHD moyen.
1990	Chine, Inde	
2000	Vietnam, Cambodge	

⇒ Diffusion de la croissance par des délocalisations et des investissements. V. schéma p.333.

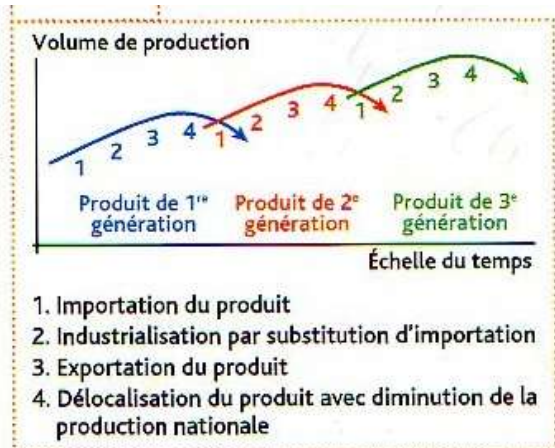
Modèle de croissance Japonais dit « **développement en vol d'oies sauvages** » (définition p.310).

CAD - **glissement des industries lourdes et de main d'œuvre vers les industries de hautes technologies**

1. Pays importateur
 2. Se lance dans l'industrialisation par fabrication d'un produit de faible technicité qu'il exporte
 3. Abandon de cette production → délocalisation
 4. Fabrication d'un produit de + forte VA
- = remontée des filières, donc montée en gamme, délocalisations et sous-traitance, et intégration à la mondialisation.

- Mais des modes différents tout de même :

- . En Inde, après une politique définie comme une « troisième voie entre socialisme et libéralisme » fondée sur une économie mixte, les années 1980 amorcent une libéralisation de l'économie.
- . En Chine, après trois décennies de politique économique planifiée, collectivisée et fondée sur l'autarcie, Libéralisation économique engagée à partir de 1979 = **socialisme de marché**

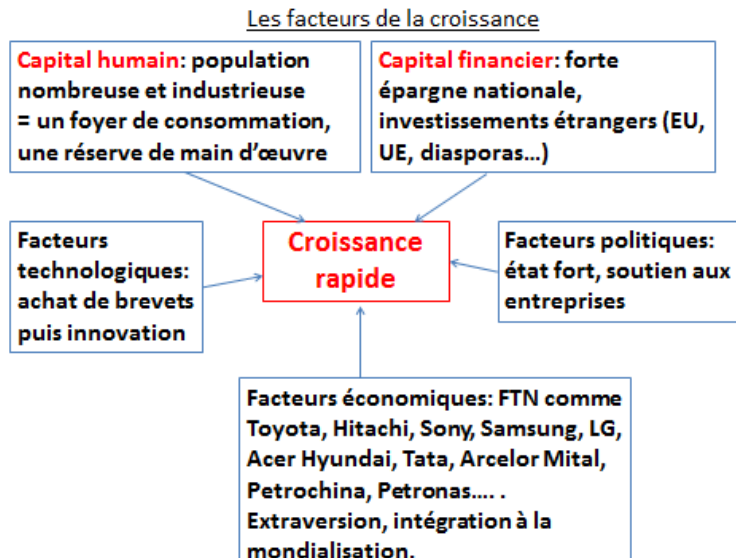


Le développement en vol d'oies sauvages

1. Importation du produit
2. Industrialisation par substitution d'importation
3. Exportation du produit
4. Délocalisation du produit avec diminution de la production nationale

(voir cours histoire : Politique de Deng Xiao Ping des « Quatre modernisations ») → ouverture progressive du littoral aux investissements étrangers et aux échanges (**ZES** : système d'imposition privilégié pour attirer les firmes étrangères et leurs investissements, + législation sociale très favorable + main d'œuvre à bas salaires).

Insister sur :



. Rôle des Etats : par exemple le MITI, Ministère de l'Industrie japonais, encadre les entreprises pour les grandes orientations et objectifs, encourage l'innovation.

Puissance des FTN : 50 parmi les 250 premières mondiales (voir § 2, P. 312), s'appuie ensuite sur un très vaste réseau de PMI/PME (ateliers). Parfois de gigantesques conglomérats qui combinent activités bancaires, industrielles et commerciales (les KEIRETSU au Japon, CHAEBOL en Corée du Sud)

• Le principal pôle de croissance de l'économie mondiale :

🔗 Doc.1 p.311- La croissance économique des grandes régions du monde

🔗 Carte 1p. 308 – Les inégalités en Asie du Sud et de l'Est

- Partie du monde qui connaît la + forte croissance économique, surtout en Chine (>10%), puis Inde, puis Jaguars et Dragons (voir repère page 310 pour le détail)

1^{er} pôle productif mondial : 28.3% du PIB mondial en 2011 = « **l'usine du monde** ».

Production industrielle de base : acier, textiles.

Production de produits manufacturés à forte valeur ajoutée : automobile, machines-outils, construction navale, informatique, robotique.

Exemples :

- . Singapour, leader mondial des disques durs pour ordinateurs personnels,
- . Hong Kong leader du jouet électronique,
- . Corée du Sud pour les téléviseurs à écran plat,
- . Taïwan pour les consoles d'ordinateurs,
- . Chine pour les tracteurs
- . Inde surnommée « le bureau du monde » : milliers d'ingénieurs en formation

- Cependant croissance plus faible dans les pays développés comme le Japon qui a servi de modèle.

Mais nuancer car PIB/habitant et IDH le + élevé !!! (attention à l'utilisation des indicateurs !)

= un pays développé qui axe sa production sur les produits manufacturés à haute valeur ajoutée.

• L'Asie est fortement intégrée

🔗 Carte 1 p.318 – L'Asie du SE dans le commerce mondial –

- **L'Asie est au cœur des échanges planétaires** : = + de 25% du commerce mondial.

Japon + Chine = puissances commerciales les + importantes, mais hiérarchiquement, n'ont pas les mêmes partenaires.

Résulte de la mise en place d'une N^{elle} DIT et de délocalisations des pays les + avancés vers les - avancés.

Devenue un vaste marché de consommation :

- Chine = + grand marché automobile devant les USA, (doc.2 p.313)
- Japon et Chine sont intéressants pour les firmes du luxe, (doc.4 p.313)
- Chine : 2^{ème} rang mondial pour le tourisme.

-Importance du commerce intra-régional

Ne cesse de se développer = presque 65 % du commerce extérieur des pays asiatiques.

Favorisé par l'intégration : **Carte 2 p.309 et Schéma ci-contre.**

. ASEAN

. accord de libre-échange par ex l'accord Chine-Asean en vigueur depuis 2010

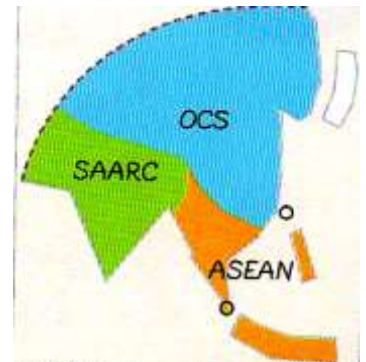
. Projet d'une vaste zone de libre-échange = AFTA (Asian Free Trade Area)

. Par contre, l'Inde joue moins un rôle moteur, a davantage regardé vers les US et l'UE. Depuis les années 90, essaie de se rapprocher de l'Asie de l'Est (échanges avec la Chine X 17 entre 2000-08).

Spatialement, cette intégration a donné naissance à un « **corridor économique** » de Singapour à Tokyo, structuré par des nœuds situés sur la façade maritime.

Points de contact entre flux régionaux et mondiaux, ces nœuds = grandes villes dotées de ports parmi les plus grands du monde

= une économie littoralisée : le choix de la conteneurisation dès les années 1980 a favorisé l'émergence de ces ports ; parmi les 20 premiers ports du monde par le trafic, 14 sont situés en Asie ; le continent possède la plus grande interface portuaire du monde), ainsi que d'aéroports internationaux et de places boursières.



ASEAN* : Association des nations de l'Asie du Sud-Est
SAARC* : Association sud-asiatique pour la coopération régionale
OCS* : Organisation de coopération de Shanghai

- **L'Asie s'insère dans le réseau mondial des flux de capitaux** : compte 15 places boursières parmi les 50 premières mondiales.

Hong Kong et Chine font : parmi les 10 principaux pays émetteurs et récepteurs d'IDE dans le monde.

⇒ *Schéma de synthèse.* -

Schéma de synthèse: l'Asie de l'Est et du Sud face aux enjeux de la croissance et doc.2 p.333.

• **Mais de très fortes inégalités à différentes échelles**

👉 *A partir de la carte 1 p.308, montrez que croissance économique et développement ne sont pas synonymes. –*

- A l'échelle continentale : **importance de la pauvreté et de la sous-alimentation** :

- . Japon/Dragons = Pays du Nord
- . Chine et Inde = émergents
- . Bébés tigres
- . 2.2 milliards de pauvres, dont 1.6 pour la Chine et l'Inde,
- . 70% de la population sous-alimentée dans le monde.
- . Des PMA : Bangladesh, Myanmar, Népal.

. Corée du Nord : difficile à appréhender, en raison de l'absence – ou de l'absence de fiabilité...- de statistiques officielles et de la fermeture du pays : après les famines des années 1990, la Corée du Nord réitère début 2011 sa demande d'aide alimentaire internationale = situation reste très précaire.

Bhoutan : données non disponibles.

Néanmoins des progrès évidents :

- forte diminution de l'extrême pauvreté ou pauvreté absolue (Revenu inférieur à 1.25 \$ par jour et par personne pour la Banque Mondiale)

- = en Asie du Sud-Est de 79% en 1981 à 18% en 2005.

- Diapo : amélioration de la sécurité alimentaire grâce aux « révolutions vertes » (à définir), qui ont permis une forte augmentation de la production agricole, en partie amputée par la croissance démographique.

Outre les limites environnementales et sociales de ces révolutions vertes, des progrès restent à faire : 20% de la population est toujours sous-alimentée en Inde.

- **Les inégalités régionales au sein des Etats opposent des centres et des périphéries.**

🌀 Doc.1 p.321 - **Exemple pour le Japon** – diapo 23: Opposition entre

- le Japon de l'endroit concentre plus de 80% de sa population (84%) et de ses activités (85% des activités industrielles) ou la mégalopole japonaise de Tokyo à Fukuoka,

- et le Japon de l'envers plus rural, pénalisé par l'omniprésence de la montagne et la rigueur du climat.

Autre exemple : Taïwan. Doc.2 p.311. diapo 24

Ou en Chine : opposition entre Chine littorale développée et Chine intérieure niveau PMA. diapo 25

= Une opposition Asie de l'Est littorale et Asie intérieure.

- **Des inégalités socio-spatiales à l'échelle des villes.**

🌀 Carte 1 p.306, doc.3 p.311 et définition p.301.

Une pauvreté urbaine allant de 30 à 60%. Plus de 60% pour les pays les moins développés comme le Népal ou le Cambodge.

Conclusion – L'Asie en marche, mais des inégalités montrent les difficultés à transformer la croissance économique en développement et les limites de ce colosse aux pieds d'argile.

II.3. Transformer la croissance économique en développement durable...

- **Des faiblesses.**

- **Une dépendance à l'égard de la mondialisation.**

- L'Asie n'échappe pas aux crises économiques depuis la fin des années 1990. Est – affectée par la crise de 2008 mais on souffert d'une contraction de la demande.

→ Intervention de l'Etat et retour à la croissance

Réflexion en cours pour favoriser la demande sur le marché intérieur

Forte dépendance énergétique : pétrole.

- **Un espace de conflits.**

- **Revendications sociales.** Exemples:

. manifs de la filière textile au Bangladesh et au Cambodge en 2010 : « *Chemises jaunes* » (classes aisées, instruites et urbaines= contre « *Chemises rouges* » (pop. rurales, + pauvres et moins instruites à Bangkok=.

. Chine : développement des classes moyennes qui supportent moins l'autoritarisme politique

. Inde : mouvement de guérilla communiste de paysans sans terres = Naxalites

. **doc.2 p.317**: frontière fortifiée entre Inde et Bangladesh pour enrayer l'immigration clandestine et les trafics de vaches !, barrière de 4000 Km et tous les 100 m, un poste de garde de la BSF -

- Instabilités politiques et tensions géopolitiques

🌀. **carte 1 p.314** : diversité des régimes politiques : décrire

- . Peu de démocraties parlementaires : Japon Inde Corée du S.
- . Des démocraties fragiles en Asie du Sud
- . Persistance de nombreuses dictatures : Chine

Dans ces Etats, nombreux conflits interethniques (séparatismes), religieux. Exemples :

- . Question du Tibet en Chine.

Nombreuses tensions inter-étatiques :

- . litiges maritimes en Mer de Chine pour le contrôle des hydrocarbures,
- . frontaliers (Inde/Pakistan) (Thaïlande/Cambodge)...
- . Chine / Taïwan, (100 à 150 missiles pointés vers l'île, une loi autorise la Chine à déclarer la guerre si Taïwan se rend indépendante).
- . Tensions entre les 2 Corées, héritage de la guerre froide. Pb du nucléaire N. coréen.
- . Des actes de guerre : depuis la guerre en Afghanistan, terrorisme en Inde, Thaïlande et Indonésie,

• Des territoires vulnérables.

🌀. **carte 2 p.315** : Défis et enjeux environnementaux

- Une très forte dégradation environnementale

Car rapidité de l'industrialisation, explosion urbain et démographique avec motorisation, modernisation de l'agriculture mécanisée et irriguée, équipements structurants (transports, barrages, ...)

→Pollutions diverses (air, mer, sols), déforestation, catastrophes technologiques (Bhopal en 1984), 40 % des émissions de CO2 de la planète (Chine : 25 %).

→ + nombreux aléas naturels : volcanisme, séismes et Asie des moussons donc inondations majeures, risque de submersion de certaines îles avec le réchauffement climatique (Maldives), tsunamis (Asie du Sud-Est en 2004, Japon en 2011-**doc.3 p.317**), sécheresse....

Bilans désastreux aggravés par la pauvreté.

- Des tentatives de protection ?

Sensibilité ancienne au Japon (Protocole de Kyoto : 1997), plus récente en Chine.

Chine = 1^{er} pays émetteur de gaz à effet de serre en 2006 : prise de conscience récente.

Ex. été 2012, deux projets industriels polluants arrêtés après des manifestations populaires, parfois violentes mais qui connaissent une couverture médiatique inédite.

+ conversion au solaire.

Une vraie prise de conscience sur l'ensemble de la zone.

• Des tensions autour des ressources

🌀**cartes achat de terres** (site géoconfluence).

Asie = investisseur et cible de l'achat international de terres.

Les principaux acquéreurs en Asie (et dans le monde) : Chine, Japon et Corée du Sud, soit par des entreprises d'Etat, soit par des industriels privés, mais dans le cadre de stratégies encadrées par l'Etat.

Les principaux pays cibles = Cambodge, l'Indonésie et les Philippines, mais la Chine accroît surtout ses achats en Afrique.

Au total quelques 2,1 millions d'ha auraient ainsi été investis par des intérêts chinois dans le monde.

→ Risques sociaux et économiques pour les pays hôtes: non-respect des droits d'usage des populations sur les terres et les ressources qui y sont associées (pâturages, ressources forestières, eau, etc.), exclusion de certaines catégories (femmes, populations nomades), réduction de la part des cultures vivrières dans la production locale.

→ Des risques environnementaux : déforestation, diminution des ressources en eau, pollution des nappes par l'utilisation massive d'intrants chimiques...

Conclusion : L'Asie de la croissance = acteur majeur sur la scène internationale

- ½ de la population mondiale,
- 1/3 de la richesse et des exportations mondiales.

Espaces concernés : métropoles et façades maritimes sont actives et prospères

Rôle politique : La Chine, la Corée du Sud, l'Indonésie et l'Inde participent au G20, en plus du Japon.

Cette croissance suscite d'ailleurs aujourd'hui attraction et inquiétude de la part des occidentaux.

Mais de nombreux défis sont à surmonter :

- explosion démographique, mais aussi vieillissement et une urbanisation accélérée.
 - Emergence d'une classe moyenne mais accentuation des inégalités entre nouveaux riches et la masse pauvre.
 - Problèmes environnementaux également pour ces économies grosses consommatrices d'énergie et de matières premières et la pression sur l'environnement est forte.
- ⇒ On ne résout pas le problème de transformer la croissance économique en développement durable.

III. Japon-Chine : concurrences régionales, ambitions mondiales.

🌀 Doc. 3 p.327 : Chine et Japon, des taux de croissance différents –

Respectivement 2^{ème} et 3^{ème} puissances mondiales... En rivalité permanente (ici le dragon sur le point de percer le ballon de baudruche du Japon dont la croissance est stable et avance à petits pas) et aspirent à jouer un rôle mondial !

= Concentrent > ¾ de la richesse produite en Asie du Sud et de l'Est.

Depuis 2001, entrée de la Chine à l'OMC → les échanges entre les deux pays s'accroissent :

→ Chine 1^{er} client du Japon depuis 2009 / Japon 1^{er} investisseur en Chine, devant US.

= Puissants, rivaux, interdépendants et ambitieux :

Problématique : Comment le Japon et la Chine, puissances asiatiques majeures, affirment-elles leurs ambitions en Asie et dans le monde ?

III.1 Japon-Chine, deux pôles majeurs en Asie orientale.

Pb : Rivalité ancienne / Influences différentes

a. Deux puissances asiatiques anciennes.

	Chine	Japon
<u>Deux aires de civilisation anciennes</u>	<p>l'une des + anciennes au Monde et longtemps considérée comme l'une des + avancées au centre du monde habité et connu (écoumène). « Chine » = « <i>pays du milieu</i> ».</p> <p>Unification par le biais d'une culture commune fondée sur l'écriture idéographique, les rites (coutumes, cuisine) et une philosophie, le confucianisme</p> <p>Rayonnement sur les pays voisins : Corée, Vietnam.</p>	<p>n'a pas été envahi par ses voisins mais en a reçu l'influence. → syncrétisme culturel entre bouddhisme, néoconfucianisme et shintoïsme (religion animiste dont l'empereur japonais est le grand prêtre) et un fort sentiment d'homogénéité ethnique.</p> <p>Japonais ne se pensaient pas comme asiatiques mais comme japonais,</p> <p>Cpdt depuis années 1990 l'Asie devient une priorité pour s'assurer une place dans la mondialisation.</p>
<u>Atouts et contraintes du territoire.</u>	<p>9,6 millions de km² (3^{ème} rg mondial = échelle d'un continent)</p> <p>producteur de matières 1^{ères} surtout destinées à sa consommation intérieure : 1^{er} pour le blé, riz, viande de porc, produits marins, or, fer, charbon, 5^{ème} pour le pétrole et 3^{ème} pour l'éthanol. Immense richesse du territoire.</p>	<p>Japon : archipel sur 3000 Km, formé de 4 grandes îles et de 430 petites îles. Territoire exigu de 348 000km² (et en + montagnes, volcans, risques naturels très importants), mais immense ZEE au 6^{ème} rang mondial Diapo 33</p> <p>Peu de ressources naturelles → forte dépendance pour les matières 1^{ères}. Donc un territoire très contraignant.</p>

Des évolutions différentes	<p>pays le + peuplé du monde depuis des siècles a déjà été la 1^{ère} puissance mondiale avant la révolution industrielle.</p> <p>XIX^{ème} repliée sur elle-même, dépeçée par les puissances voisines, la Russie, le Japon, et l'Occident. Minée par une guerre civile entre nationalistes et communistes, devient communiste à partir de 1949 et s'ouvre progressivement après la mort de MAO (1976).</p> <p>→ devenue aujourd'hui la 2^{ème} économie mondiale, devant le Japon.</p> <p>Alliance capitalisme d'Etat, libre entreprise, régime communiste et absence de libertés publiques ou socialisme de marché.</p> <p>= Désormais, obsession de la puissance !!!</p>	<p>le + anciennement développé.</p> <p>Depuis l'ère Meiji (1868), le Japon replié sur lui-même veut rattraper et dépasser l'Occident.</p> <p>Vaincu en 1945, repart de zéro, bénéficie du plan Marshall et enregistre jusqu'en 1973 la + forte croissance du monde = « miracle japonais » ou période dite de « <i>haute croissance</i> »</p> <p>→ devient 2^{ème} puis 3^{ème} puissance mondiale.</p>
-----------------------------------	---	--

b. Rivalité et tensions géopolitiques.

🗺 Carte 1 p. 314 – Géopolitique de l'Asie du Sud et de l'Est –

- Un conflit mémoriel et litiges territoriaux entre Chine et Japon:

Occupation japonaise de la Chine entre 1931 et 1945, avec crimes de guerre (massacre de Nankin : 1937) = sujet de polémique entre les deux pays → incidents diplomatiques

Ex : indignation chinoise lors des cérémonies et hommages officiels au temple de *Yasukuni* (Tokyo) où l'on honore les Japonais qui ont donné leur vie pour l'Empereur. On y vénère l'âme de plus de 2,4 M de morts, surtout de la WWII (y compris des enfants et des femmes), mais surtout des militaires.

Mais parmi eux, on trouve des criminels de guerre condamnés lors du Procès de Tokyo (1946)

= symbole en Orient de l'impérialisme japonais & des crimes qui y sont associés, lieu de culte très contesté.

➔ Méfiance de tous les partenaires asiatiques à l'égard du Japon et surtout conflit mémoriel entre Chine et Japon.

⇒ Des relations diplomatiques sino-japonaises tardivement rétablies

1978 « *traité de paix et d'amitié* » par lequel les deux s'engagent à ne pas « rechercher l'hégémonie dans la région Asie Pacifique ».

⇒ Dvpt d'un sentiment national chinois et d'un « antijaponisme » aggravé par le litige territorial à propos des îles Senkaku/Diaoyu → effondrement des importations chinoises de produits japonais.

Exemple : îles Senkaku où l'on voit l'imbrication des enjeux géopolitiques et géoéconomiques (enjeu pétrolier), sur fond d'exacerbation du nationalisme.

Revendiquées par Chine, Japon et Taiwan = grpe de 5 îles pour un total de 7 Km²

Tensions sino-japonaises ravivées à l'occasion de la commémoration en Chine de la capitulation japonaise du 15 août 1945 autour de la possession des îles Senkaku.

- Le Japon a longtemps peiné à s'affirmer géopolitiquement :

Vaincu par les USA en 1945, → contraint à la démilitarisation Par choix, n'est pas une puissance nucléaire, Constitution affirme le renoncement à la guerre et limite l'action de sa force armée à la légitime défense ou FAD, forces d'autodéfense.

Mais évolution : Loi *Peace Keeping Operations* de 1992 & 2001 : peut participer à des opérations de maintien de la paix de l'ONU (2^{ème} contributeur mondial) ou à des opérations humanitaires. **Doc.6 p.331**

→ X interventions militaires en Asie.

+ Rôle de la marine japonaise dans surveillance des lignes maritimes internationales important jusqu'au golfe d'Aden et dans lutte contre la piraterie

⇒ donc **devenu** une **puissance militaire** : 6^{ème} budget militaire mondial (voir **doc.1 p.330**).

= contourner une faible influence politique et militaire en jouant la carte de **la puissance civile au service de la paix et de l'éradication de la grande pauvreté notamment en Asie du Sud-Est et en Chine.**

• **La Chine aspire à retrouver sa puissance :**

C'est une obsession : « le rêve chinois » = refonder la Chine en Etat-nation pour qu'elle retrouve sa grandeur et sa centralité

⇒ Développement de la puissance militaire = 2^{ème} budget militaire mondial,

Modernise son armée vers la maîtrise des mers pour protéger ses lignes commerciales (donc ses approvisionnements) et dans l'éventualité d'une guerre contre Taïwan → plusieurs lignes de présence

. la stratégie du « *collier de perles* », points d'appui qu'elle contrôle entre son territoire et le Moyen-Orient et l'Afrique (postes avancés des forces navales chinoises au Cambodge, Myanmar, Andaman, Pakistan)

. puis renforcement des forces sur une chaîne d'îles de l'Indonésie au Japon,

. puis une 2^{ème} chaîne de Guam à l'Australie.

⇒ Lutter à l'intérieur contre les « cinq poisons »

. 3 séparatismes (Taïwan, les Ouïghours (population turcophone sunnite à l'Ouest), les Tibétains)

. Mvt Falun Gong (émanation du Chi Qung) : technique de mvt respiratoires pour garder un corps en bonne santé et développer une bonne moralité)

. Les activistes démocrates

Veut aussi maîtriser le cyberspace (25 % des internautes du monde mais seulement 50 % des Chinois sont connectés) → dvpt de la recherche dans ce domaine pour contrôler sa population, voire attaquer les systèmes étrangers.

• **Vers un leadership partagé?**

Aucun des 2 géants asiatiques ne peut prétendre pour l'instant à un leadership global dans la région.

Japon et Chine s'imposent différemment : le 1^{er} est le leader économique, le 2nd le leader stratégique.

→ Un partage « amiable » du leadership qui vise à servir au mieux les intérêts des deux pays.

Le Japon a besoin de l'expansion chinoise et la Chine de l'avance technologique du Japon pour devenir le leader incontesté en Asie du Sud et de l'Est.

Exemple : le Japon et la Chine, ainsi que la Corée du Sud, sont depuis 1995, associés à l'ASEAN au sein de l'ASEAN+3 (APT).

Japon cherche à élargir cette aire de coopération à l'Australie, la Nouvelle-Zélande et l'Inde, 3 pays démocratiques susceptibles de contrebalancer la domination chinoise ou ASEAN+6,

+ intégration renforcée avec l'APEC

De + pays émergents, Russie et Inde ont aussi des ambitions régionales & mondiales.

⇒ **Schémas simplifiés de synthèse** : les ambitions géopolitique de la Chine et de l'Asie

⇒ **Chine et Japon** : puissances rivales

Conclusion : deux puissances régionales concurrentes, mais aussi en interdépendance.

III. 2. Des Ambitions mondiales.

- **L'intégration dans la mondialisation.**

- **Repères p. 326 – Japon et Chine IDE**

- **Des puissances financières**

- le Japon est une puissance financière majeure et le premier créancier de l'Asie.
- La Chine est le premier pays récepteur des IDE, en plein boom venant du monde entier (voir diapo carte) mais aussi de plus en plus émetteur : 75% des IDE chinois vont vers l'Asie alors que seulement 25% pour le Japon
- renforcement du poids de la Chine en Asie, pratiquant « une diplomatie financière »
- + diversification des investissements vers Afrique, Russie, Am. Latine

- **Au cœur des flux de marchandises**

- **Cartes 2 & 3 p. 319 – Japon et Chine dans le commerce mondial –**

Citez les partenaires et les hiérarchiser.

- Japon tourné vers en 1. US, 2 Asie, 3. Europe
 - Chine : Commerce d'abord avec US et rôle très important de Hong Kong puis Japon et Corée du Sud
 - **Puissance technologique du Japon** alors que la Chine fonde encore largement sa croissance sur sa fonction de « pays-atelier » Voir diapo : géographie des savants
- Japon = pays déposant le plus de brevets ; fleurons des industries de pointe japonaise = télécommunication, robotique et biotechnologies
- Cpdt fortes ambitions de la Chine dans ce domaine : entre 1955 et 2007 nombre de chercheurs chinois x 2. (1,4 millions de chercheurs, soit 25% du total mondial, = Chine devant les US et UE). Veut désormais impulser une « montée en gamme » et passer de l'assemblage à la production

- **Des pays inégalement affectés par la crise :**

- Japon : récession depuis 2008 - reprise de 2010 brisée par le séisme de mars 2011, illustrant la vulnérabilité du Japon face aux risques. + 2.4 % en 2015
 - Chine : nettement moins touchée, connaît un ralentissement sensible : de 10.4% en 2010 à 9.2 % en 2011 ; en 2015, croissance « seulement » de 7% au deuxième trimestre.
- Doit faire face au surinvestissement (surcapacités de production) → investissements non rentables → endettement (surtout des ménages vers la bulle immobilière) : donc fragilité car gigantesque bulle financière et immobilière.
- + un souci de baisse de la demande internationale
- + augmentation des coûts de production car hausse des salaires
- Enjeu pour l'avenir : développer un marché intérieur et s'habituer à une croissance plus lente.

- **Des puissances culturelles inégalement affirmées.**

Akira, premier manga japonais paru en France chez Glénat en 1990 + logo Confucius.

- **Une influence limitée pour le Japon :**

- 125 millions de locuteurs donc langue peu diffusée.
- Succès mondial des productions culturelles destinées à la jeunesse (mangas, dessins animés...) + jeux vidéos
- Diffusion de la gastronomie en Occident.

→ une image positive dans le monde en vantant le Cool Japan. Un « soft power » très soft.

- **Une influence croissante pour la Chine :**

- Plus de 1 milliard de locuteurs, dispersés sur la planète = langue la plus parlée.
- Diaspora chinoise : investisseur + relais à son influence et à la protection de ses intérêts dans le monde. Diffuse une image rassurante
- Instituts Confucius, établissements culturels publics, implantés depuis 2004 partout dans le monde contribuent à la diffusion de la langue et de la culture chinoise. On fête le nouvel An chinois partout. Bourses pour étudiants étrangers.
- Grandes manifestations culturelles internationales, où elle démontre son savoir-faire et sa puissance : JO de Beijing en 2008 + l'exposition universelle de Shanghai de 2010 (73 millions de visiteurs). Diapos 45
- Percée des cinéastes chinois comme Zhang Yimou ou Chen Kaige primé à Cannes avec « *Adieu ma concubine* » qui évoque l'homosexualité.

Mais un « Soft power » très limité car problème d'image.

• Une rivalité diplomatique.

- Une Chine qui s'affirme :

- membre permanent du Conseil de Sécurité de l'ONU = avantage dans la diplomatie mondiale et s'oppose fermement à la demande du Japon.
- Création de l'OCS, Organisation de Coopération de Shanghai, en 2001 = un nouvel axe d'alliance avec la Russie. Inde, le Pakistan ou encore l'Iran en sont membres observateurs... → inquiétude croissante des Etats-Unis.
- Pays émergent, se veut aussi leader des BRICS.

- Une nouvelle donne diplomatique avec les Etats-Unis ?

Pour le Japon :

- Veut conserver son statut de partenaire privilégié des Etats-Unis ;
- inquiet des ambitions chinoises et peur d'être exclu d'un face-à-face Pékin-Washington,
→ répond par l'affirmation d'une certaine autonomie vis-à-vis des EU, associée à un renforcement de sa force militaire.

Pour la Chine :

- o Tournant majeur dans les relations Chine/US

Dialogue désormais permanent, mais la Chine s'oppose de plus en plus fréquemment et ouvertement aux Etats-Unis (voir la crise syrienne)

= la Chine teste aussi bien la capacité de résistance du Japon que celle des Etats-Unis... .

⇒ Schéma simplifié de synthèse : Une rivalité diplomatique

Conclusion :

- Statut du Japon en Asie et dans le monde = grande puissance économique, acteur clé des échanges internationaux, et qui voudrait devenir aussi une puissance politique.
- Statut de la Chine = une puissance émergente qui s'est hissée en 20 ans au rang d'une puissance mondiale et qui souhaite être un acteur décisif au plan politique, économique et culturel.

Japon et Chine présentent cependant une différence majeure : le Japon est une puissance établie ayant un haut niveau de vie tandis que la Chine est considérée comme une puissance ascendante ou prématurée marquée par un niveau de vie faible. En 2011, entre le PIB par habitant du Japon et celui de la Chine, l'écart est de l'ordre de 10 à 1 !