






Prénom : ..... Date : .....

### Décompositions additives du nombre 4.

1/ Imagine les points qui manquent et écris combien il en manque.  
Vérifie en dessinant les points avec un crayon de couleur rouge.

4 	4 	4 	4 	4 
3 + ....	2 + ....	1 + ....	0 + ....	4 + ....

2/ A l'aide des résultats trouvés, complète la maison du 4.

