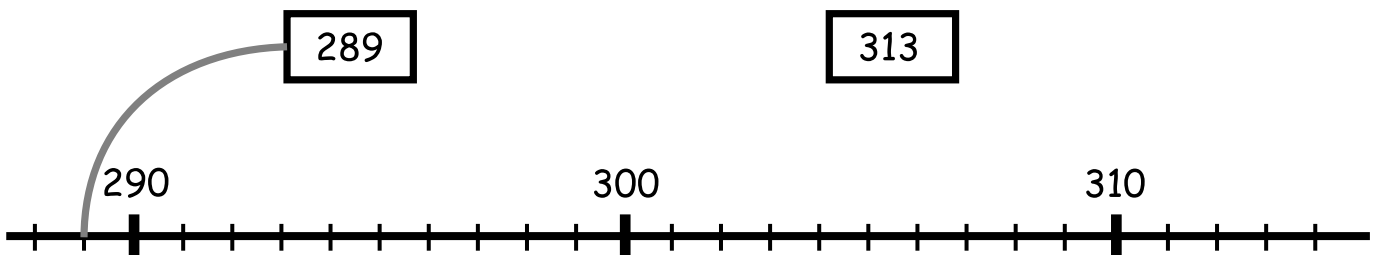
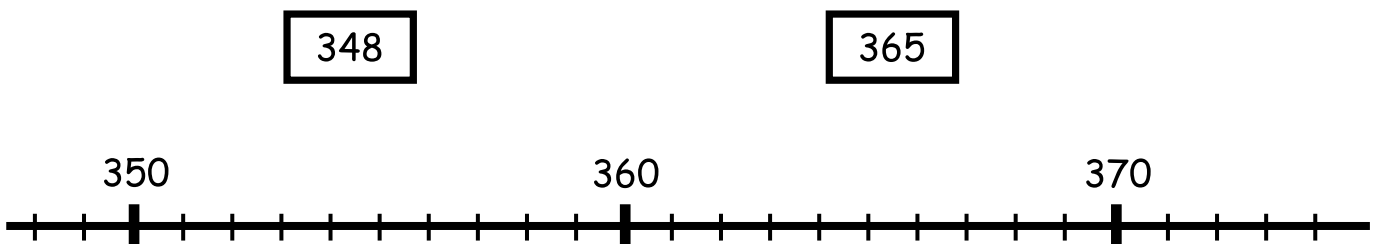


Prénom : .....

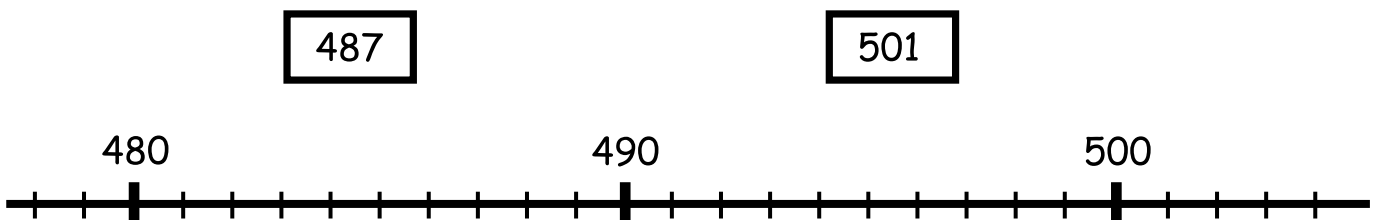
Se déplacer sur une droite numérique



Léa a un score de 289 points, elle gagne 10 points. Elle a maintenant ..... points .  
Jérémy a un score de 313 points, il perd 10 points. Il a maintenant ..... points.



Théo a un score de 348 points, il gagne 4 points. il a maintenant ..... points .  
Simon a un score de 365 points, il perd 8 points. Il a maintenant ..... points.



Lise a un score de 487 points, elle gagne 11 points. Elle a maintenant ..... points .  
Luc a un score de 501 points, il perd 12 points. Il a maintenant ..... points.