

Prénom: date:

Mathématiques-logique : Repérage spatial

Observe chacun des tableaux. Remplis-le en respectant la "règle du jeu"



Chaque ligne, colonne et région ne doit contenir qu'une fois tous les éléments de la collection.

collection:

































A	B	C	D
---	---	---	---

C		B	
A		D	
			D
B	C		B

collection:



Étiquettes pour un atelier de 6 élèves

D	D	A	C	D	D	A	C
B	A	C	A	B	A	C	A
							
							
D	D	A	C	D	D	A	C
B	A	C	A	B	A	C	A
							
							
D	D	A	C	D	D	A	C
B	A	C	A	B	A	C	A
