

11. Les euros

Révisions

1 Coche la boîte qui contient la bonne somme d'argent.

a) 1,15 €



b) 2,50 €



c) 3,85 €



2 Écris la somme d'argent contenue dans chaque porte-monnaie.




c




€




€



€



€



€

3 a) Complète avec les nombres manquants.

0,60 € ↔ euro et centimes

7,95 € ↔ euros et centimes

2,35 € ↔ euros et centimes

12,45 € ↔ euros et centimes

3,70 € ↔ euros et centimes

b) Complète avec les sommes d'argent.

75 centimes ↔ €

4 euros et 35 centimes ↔ €

1 euro et 5 centimes ↔ €

8 euros et 90 centimes ↔ €

3 euros et 20 centimes ↔ €

15 euros et 20 centimes ↔ €

4 Complète les phrases.

Ensemble A



Ensemble B



L'ensemble contient la plus grande somme d'argent.

Ensemble C

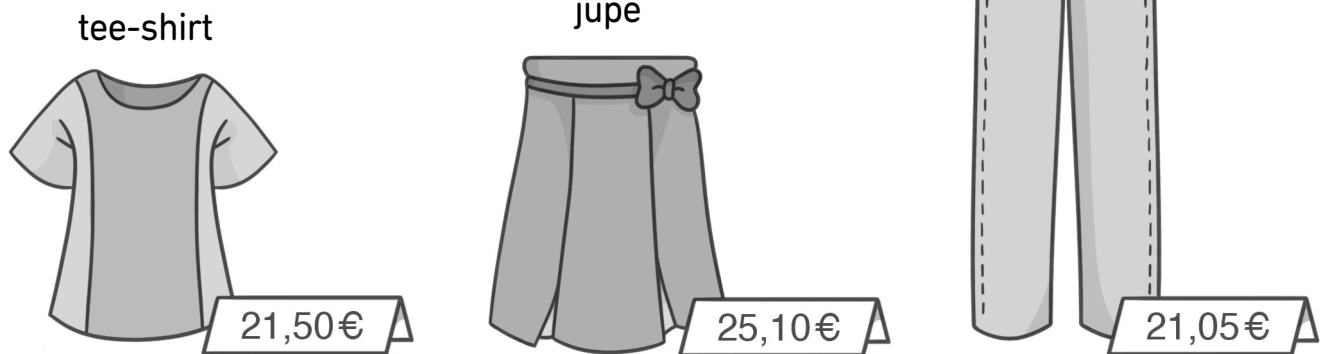


Ensemble D



L'ensemble contient la plus grande somme d'argent.

5 Observe.



a) Quel vêtement coûte le plus cher ? _____

b) Quel vêtement coûte le moins cher ? _____

6 Léa a 90 c.

Elle dépense 20 c en bonbons, puis s'achète une pomme à 55 c.
Combien d'argent lui reste-t-il ?

Il reste c à Léa.

7 Pierre a 12 €.

Il dépense 4 € pour acheter des fruits, 3 € pour acheter des légumes, puis le reste pour acheter un poulet.
Combien le poulet coûte-t-il ?

Le poulet coûte €.