

Evaluation CE1 : Problèmes (Bilan PDT 5/6/7)

Compétences : résoudre des problèmes additifs

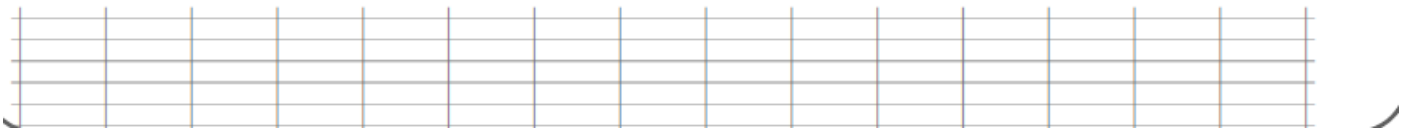
résoudre des problèmes soustractifs

1) Attention ! Il y a une information inutile !


Luc a 17 billes et 4 images, il gagne 5 billes, ensuite il donne 2 images à son copain.

Combien a-t-il de billes a-t-il maintenant ?



_____ = _____



2) Pour aller au cirque, la maîtresse a réservé un bus de 60 places. 53 élèves sont déjà installés. Combien d'élèves peuvent encore monter dans le bus ?



3) Il y a 36 feutres dans une pochette. Mon frère en prend 4. Combien de feutres reste-t-il ?



4) De ses vacances à Paris, la famille Robin a rapporté des photographies. Julie, la fille, a pris 157 photographies et Hugo, le fils, 108 photographies. Quel est le nombre de photographies faites par les enfants ?

5) La famille Duval part en vacances. Elle s'arrête chez les grands-parents, après 459 km de route. Il reste ensuite 389 km à parcourir jusqu'à la mer. Quelle est la distance totale du voyage ?

6) Monsieur Martin a 68 €. Il achète un pantalon à 32 €. Combien d'argent lui reste-t-il ?