

La conquête de la Gaule (livre pages 36-37)

Que symbolise la partie orange de la carte du doc.2 ? _____

Quand les Romains ont-ils commencé à s'installer en Gaule? _____

Qui était Jules César (doc3) ? _____

Depuis quelle année était-il en Gaule ? _____

Quelle était la raison de sa présence ? _____

Qui était Vercingétorix ? _____

Que proposa-t-il aux autres tribus gauloises ? _____

Comment les Gaulois agissent-ils contre l'ennemi? _____

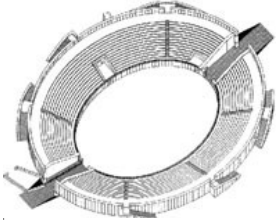
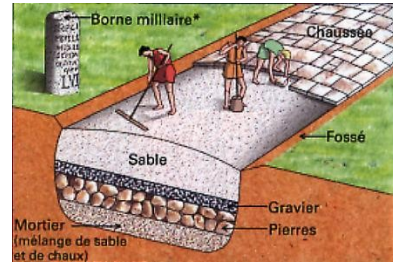
Quelle grande bataille sera perdue par César contre les Gaulois? En quelle année ?

Où et quand César se vengera-t-il? _____

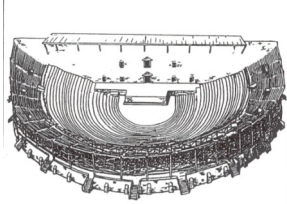
La civilisation Gallo-romaine (livre pages 39/40/41)

Ceci es une _____ .

Les romains en ont contruites dans toute la Gaule. Il y en avait une entre Rodez et Millau



Dans un _____, on _____



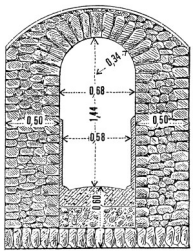

C'est un _____ . Il était orné de _____

De colonnes servant de _____ aux spectacles .

Le _____ est une vaste place rectangulaire bordée de boutiques.



Dans les _____, on honorait les dieux romains mais aussi gaulois.



Un _____ est un conduit maçonné qui sert à amener l'eau dans une ville.

Les gens allaient se laver _____

À la campagne, se développent des grandes exploitations appelées _____



On y trouvait l'habitation du propriétaire, des esclaves et des bâtiments agricoles .