


Relie les points avec ta règle pour obtenir une maison.

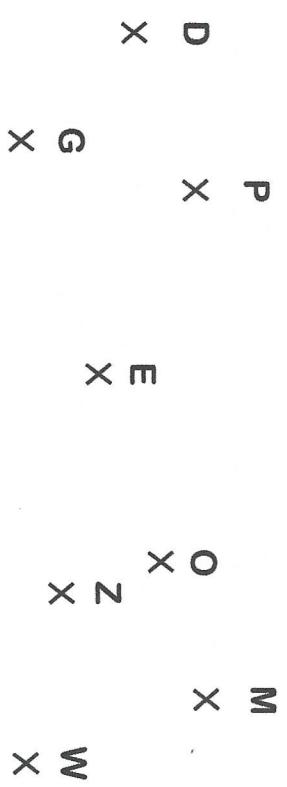
1



Tu as réussi

Trouve les 4 points alignés en traçant une droite.

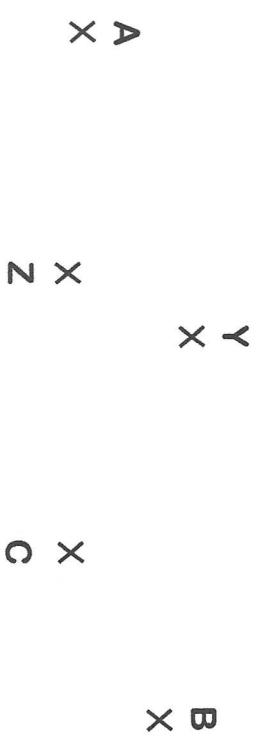
2



Tu as réussi

Trace les segments [AB] et [YZ].

3



Tu as réussi

Colorie les cases B2, D2, A4 et E3.


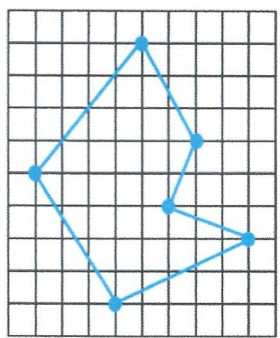
4

	A	B	C	D	E
1					
2					
3					
4					
5					

Tu as réussi

Reproduis la figure à l'identique.

5



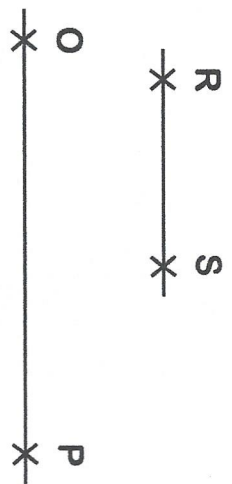
Tu as réussi

Trace un segment [CD] de 5 cm puis trace un segment [EF] de 7 cm 4 mm.

7

Trace un segment [KL] de 10 cm puis marque son milieu avec un point M.

8



[RS] = ____ cm ____ mm

[OP] = ____ cm ____ mm

Tu as réussi

Tu as réussi

Tu as réussi