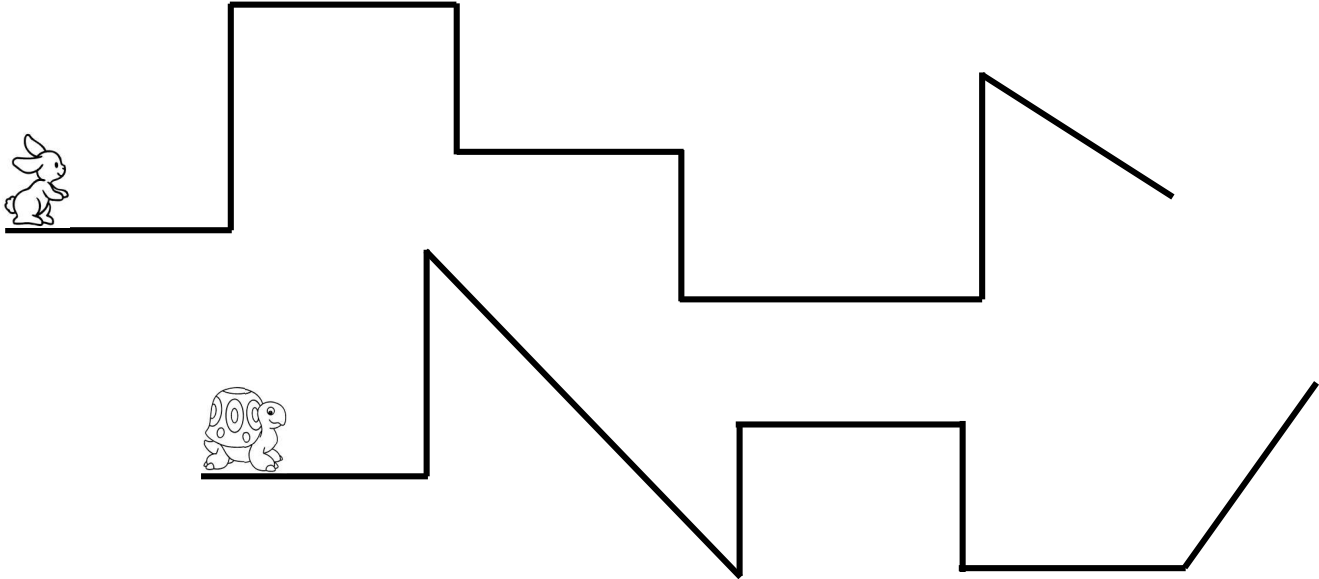


1 Calcule le parcours du lièvre et de la tortue.



..... =


Le lièvre va parcourir cm



..... =

La tortue va parcourir cm

2 Calcule le parcours de la poule et du canard pour faire le tour de la ferme.



..... =




..... =



..... cm

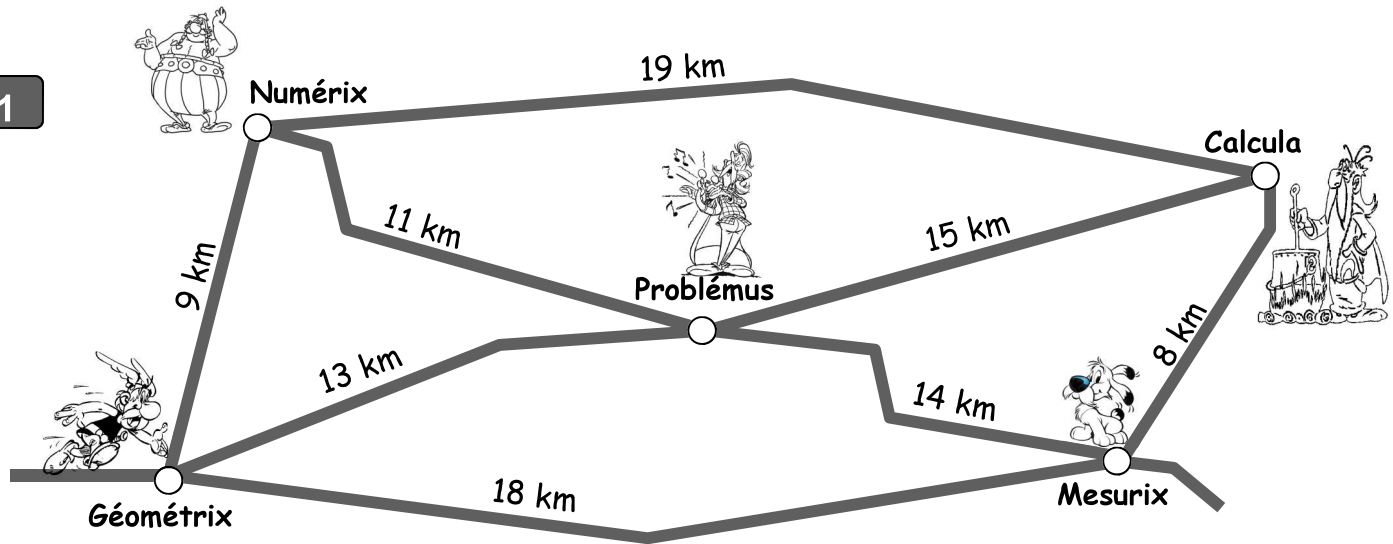


..... cm



Observe la carte et réponds aux questions d'Astérix :

1



Quelle est la distance entre Géométrie et Mesurix ?

Quelle distance va parcourir Obélix pour rejoindre son chien Idéfix s'il passe par Problémus ?

Opération : =

Combien de kilomètres va faire Astérix s'il va boire de la potion magique en passant par Numérix ?

Opération : =

Le Barde Assurancetourix décide d'aller chanter à Calcula, puis à Mesurix et ensuite à Géométrie. Quelle distance va-t-il parcourir ?

Opération : =